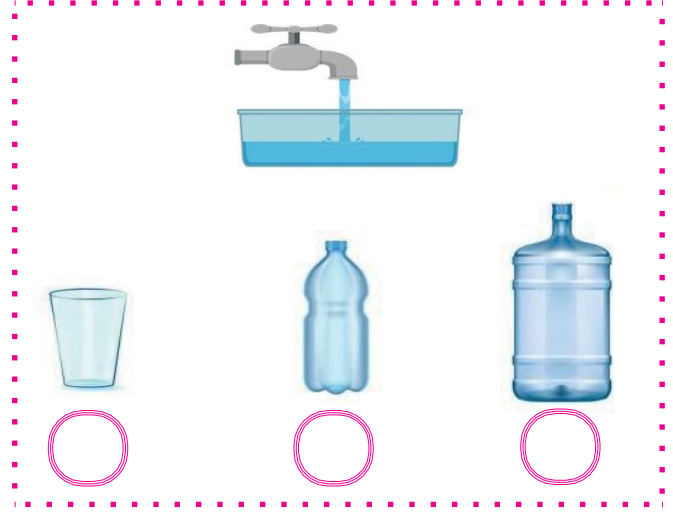



➔ Aşağıdaki kaplar su ile doludur. Kaplardaki suyu azdan çoğa doğru numaralandıralım.


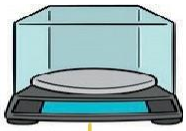
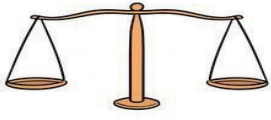
➔ Aşağıdaki çeşmeyle kaplara su doldurmak isteniyor. Sıvıların doluş sırasına göre kapları sıralayalım.



➔ Aşağıdaki varlıklardan sıvı olanları işaretleyelim.



➔ Sıvıları ölçmek için kullanılacak malzemeleri işaretleyelim.



➔ Kapların aldıkları su miktarlarına göre aşağıdaki soruları yanıtlayalım.



➔  kaç  eder?

➔  kaç  eder?

➔  kaç  eder?

➔  kaç  eder?

➔  kaç  eder?