

YAZ TATİL GÜNLÜĞÜM



2023



TATİL GÜNLÜĞÜM

Sevgili Öğrencim,

Yıl boyu çok çalıştın, çok yoruldun. Güzel sonuçlar elde ettiğini düşünüyorum. Artık okuyabiliyorsun ve okuduğunu anlayabiliyorsun. Sayıları, toplama, çıkarma işlemlerini öğrendin. Saatleri okumayı, bütünü, yarımı biliyorsun. Bunları öğrenirken hem yoruldun hem de öğrenmenin zevkini yaşadın. Karneni aldın. Uzun bir tatil başladı. Bu tatili hak ettin. Tatilde oyun oyna, çizgi film izle, ailene yardım et, resim yap, şarkı dinle, doğayı gez ve evreni tanı. Bunları yaparken kitap, gazete, dergi de oku. Bu yaz tatilinde haftada en az bir kitap oku. Günde bir kitap bitirebilersen bu harika olur.

Tatil Günlüğüm ile senden günlük tutmanı istiyorum. Tatilde neler yaptığını, zamanını nasıl geçirdiğini merak ediyorum ve bunları günlüğünde bana anlatmanı istiyorum. Bunun için günün sonunda neler yaptığını bana birkaç cümleyle anlatmalısın. Hafta sonuna geldiğinde o hafta okuduğun kitap ya da kitaplardan birini kitap okuma formuna yazmanı istiyorum. Günlüğün içerisinde bulmacalara, yıl içerisinde işlediğimiz matematik konularından etkinliklere de yer verdim.

Tatilde bol bol dinlen. Bilgisayar, tablet ve cep telefonuyla çok fazla vakit geçirme.

Eylül ayında görüşmek üzere...

Fatih Mehmet ÖVEÇ
1-B Sınıf Öğretmeni



KİTAP OKUMA FORMU

<p><u>Kitabın Adı</u></p> <p>.....</p> <p><u>Kitabın Yazarı</u></p> <p>.....</p>	<p><u>Ana Karakterler</u></p> <p>.....</p> <p>.....</p> <p>.....</p>	<p><u>Olayın Geçtiği Yer:</u></p> <p>.....</p> <p><u>Olayın Geçtiği Zaman:</u></p> <p>.....</p>
--	---	---

Birkaç cümle ile kitapta geçen olayı özetler misin?

.....

.....

.....

.....

.....

.....

TATİL GÜNLÜĞÜM

İŞLEYİYALIM

✚ Aşağıdaki toplama işlemlerini yapınız.

$$\begin{array}{r} 22 \\ + 8 \\ \hline \end{array}$$

$$\begin{array}{r} 19 \\ + 5 \\ \hline \end{array}$$

$$\begin{array}{r} 17 \\ + 7 \\ \hline \end{array}$$

$$\begin{array}{r} 18 \\ + 9 \\ \hline \end{array}$$

$$\begin{array}{r} 22 \\ + 10 \\ \hline \end{array}$$

$$\begin{array}{r} 17 \\ + 8 \\ \hline \end{array}$$

$$\begin{array}{r} 26 \\ + 5 \\ \hline \end{array}$$

$$\begin{array}{r} 13 \\ + 4 \\ \hline \end{array}$$

$$\begin{array}{r} 17 \\ + 5 \\ \hline \end{array}$$

$$\begin{array}{r} 19 \\ + 8 \\ \hline \end{array}$$

$$\begin{array}{r} 12 \\ + 8 \\ \hline \end{array}$$

$$\begin{array}{r} 7 \\ + 9 \\ \hline \end{array}$$

$$\begin{array}{r} 9 \\ + 0 \\ \hline \end{array}$$

$$\begin{array}{r} 14 \\ + 11 \\ \hline \end{array}$$

$$\begin{array}{r} 10 \\ + 0 \\ \hline \end{array}$$

$$\begin{array}{r} 17 \\ - 6 \\ \hline \end{array}$$

$$\begin{array}{r} 15 \\ - 7 \\ \hline \end{array}$$

$$\begin{array}{r} 13 \\ - 7 \\ \hline \end{array}$$

$$\begin{array}{r} 18 \\ - 4 \\ \hline \end{array}$$

$$\begin{array}{r} 13 \\ - 0 \\ \hline \end{array}$$

$$\begin{array}{r} 20 \\ - 5 \\ \hline \end{array}$$

$$\begin{array}{r} 18 \\ - 8 \\ \hline \end{array}$$

$$\begin{array}{r} 20 \\ - 9 \\ \hline \end{array}$$

$$\begin{array}{r} 8 \\ - 8 \\ \hline \end{array}$$

$$\begin{array}{r} 7 \\ - 7 \\ \hline \end{array}$$

$$\begin{array}{r} 9 \\ - 9 \\ \hline \end{array}$$

$$\begin{array}{r} 28 \\ - 3 \\ \hline \end{array}$$


$$\begin{array}{r} 24 \\ - 9 \\ \hline \end{array}$$

$$\begin{array}{r} 33 \\ - 9 \\ \hline \end{array}$$

$$\begin{array}{r} 25 \\ - 0 \\ \hline \end{array}$$

TATİL GÜNLÜĞÜM

BULMACA İZLİYORUM



1. Atatürk nerede doğdu?
2. Cumhuriyetimizin kurucusu kimdir?
3. 29 Ekim'de kutladığımız ulusal bayramımızın adı nedir?
4. Atatürk'ün anıt mezarının adı nedir?
5. Atatürk'ün babasının adı nedir?
6. Atatürk'ün annesinin adı nedir?
7. Atatürk'ün kız kardeşinin adı nedir?
8. Atatürk nerede öldü?
9. Atatürk 19 Mayıs 1919'da hangi şehrimize ayak basmıştır?
10. Yurdumuzu düşmanlardan kurtarmak için yaptığımız savaşın adı nedir?
11. Atatürk'ün, İstanbul'dan Samsun'a gittiği geminin adı nedir?

TATİL GÜNLÜĞÜM

26 .06.2023
PAZARTESİ





27.06.2023
SALI



TATİL GÜNLÜĞÜM

28.06.2023
ÇARŞAMBA





29.06.2023
PERŞEMBE



TATİL GÜNLÜĞÜM

30.06.2023
CUMA





01.07.2023
CUMARTESİ





KİTAP OKUMA FORMU

Kitabın Adı

.....

Kitabın Yazarı

.....

Ana Karakterler

.....
.....
.....
.....

Olayın Geçtiği Yer:

.....

Olayın Geçtiği Zaman:

.....

Birkaç cümle ile kitapta geçen olayı özetler misin?

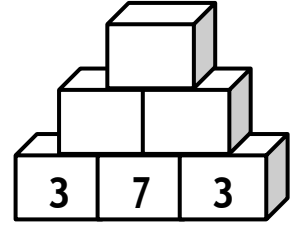
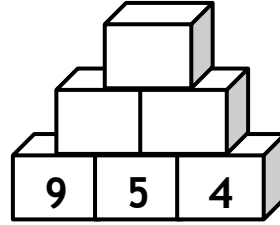
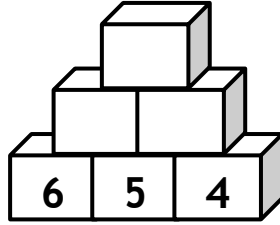
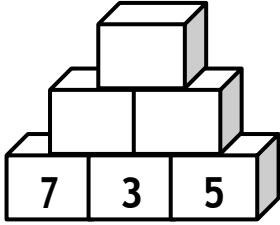
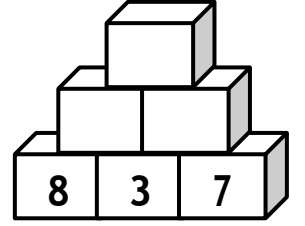
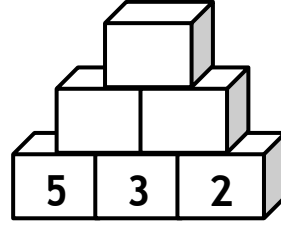
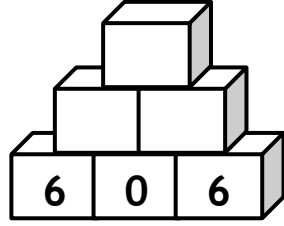
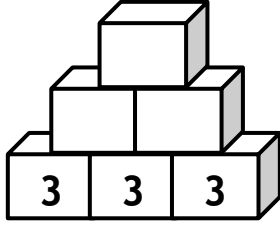

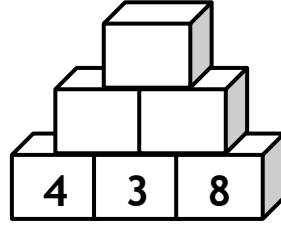
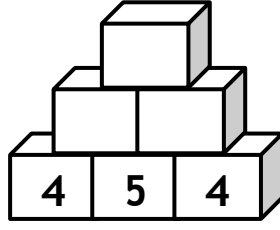
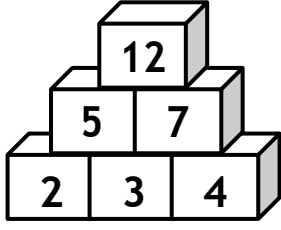
.....
.....
.....
.....




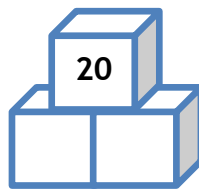
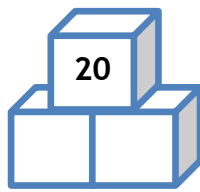

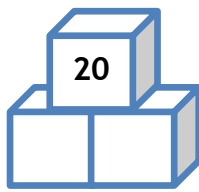
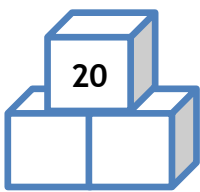

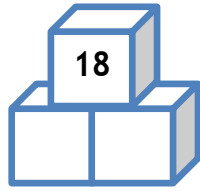
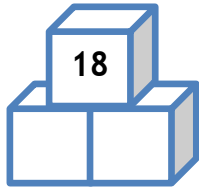




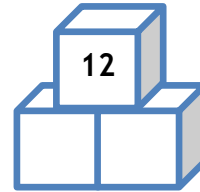


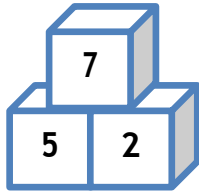
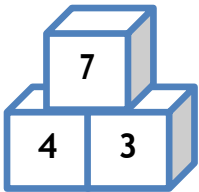
TATİL GÜNLÜĞÜM

İŞLEYİYAPALIM

1. Aşağıdaki örneği inceleyerek diğer birim küplerdeki toplama işlemini de siz yapınız.

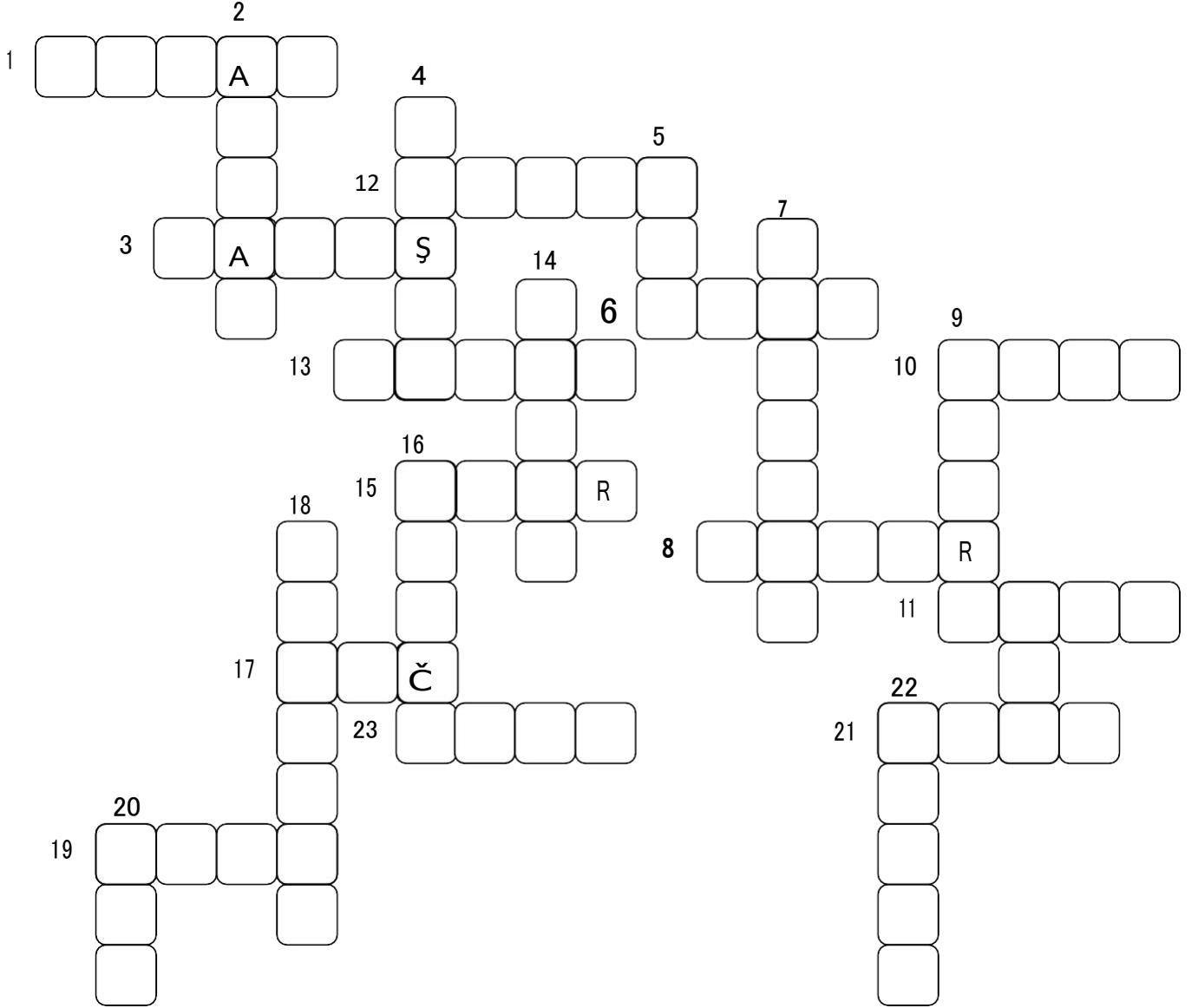


2. Aşağıdaki verilen örneği inceleyiniz. Diğer birim küplerdeki verilmeyen toplananları da siz yazınız.



TATİL GÜNLÜĞÜM

BULMACA İÖZÜYORUM




1. Barış sözcüğünün zıt anlamlısı
2. Yüksek sözcüğünün zıt anlamlısı
3. Hızlı sözcüğünün zıt anlamlısı
4. İhtiyar sözcüğünün eş anlamlısı
5. Parlak sözcüğünün zıt anlamlısı
6. Düz sözcüğünün zıt anlamlısı
7. Hediye sözcüğünün eş anlamlısı
8. Yoksul sözcüğünün eş anlamlısı
9. Yanlış sözcüğünün zıt anlamlısı
10. Düşman sözcüğünün zıt anlamlısı
11. Yakın sözcüğünün zıt anlamlısı
12. Sabah sözcüğünün zıt anlamlısı

13. Soğuk sözcüğünün zıt anlamlısı
14. Şişman sözcüğünün zıt anlamlısı
15. Hafif sözcüğünün zıt anlamlısı
16. Yukarı sözcüğünün zıt anlamlısı
17. Sol sözcüğünün zıt anlamlısı
18. Konuk sözcüğünün eş anlamlısı
19. Eski sözcüğünün zıt anlamlısı
20. Sene sözcüğünün eş anlamlısı
21. Siyah sözcüğünün eş anlamlısı
22. İnce sözcüğünün zıt anlamlısı
23. Uzak sözcüğünün eş anlamlısı

TATİL GÜNLÜĞÜM



03 .07.2023
PAZARTESİ




04.07.2023
SALI

TATİL GÜNLÜĞÜM

05.07.2023
ÇARŞAMBA





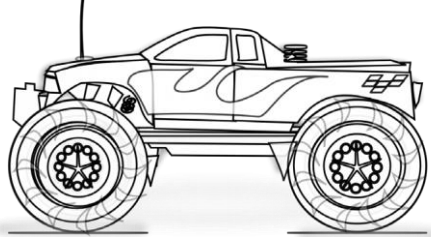
06.07.2023
PERŞEMBE



TATİL GÜNLÜĞÜM

07.07.2023
CUMA





08.07.2023
CUMARTESİ





KİTAP OKUMA FORMU

<p><u>Kitabın Adı</u></p> <p>.....</p> <p><u>Kitabın Yazarı</u></p> <p>.....</p>	<p><u>Ana Karakterler</u></p> <p>.....</p> <p>.....</p> <p>.....</p> <p>.....</p>	<p><u>Olayın Geçtiği Yer:</u></p> <p>.....</p> <p><u>Olayın Geçtiği Zaman:</u></p> <p>.....</p>
--	--	---

Birkaç cümle ile kitapta geçen olayı özetler misin?

.....

.....

.....

.....



TATİL GÜNLÜĞÜM

BULMACA ÇÖZÜYORUM

Aşağıdaki sözcükleri bulmacada bularak boyayınız. Sözcükler soldan sağa dizilmiştir. Bütün sözcükleri bulduktan sonra boşta kalan harfler bir cümle oluşturacaksınız.

Ş	E	R	E	F	K	Ö	Ş	E	S	İ	İ	Y	İ
K	İ	K	A	L	E	M	L	İ	K	Z	İ	L	B
A	T	A	T	Ü	R	K	E	K	A	N	T	İ	N
N	İ	S	İ	L	G	İ	A	D	A	L	E	T	M
Ö	D	A	Y	A	N	İ	Ş	M	A	A	Ş	İ	Ğ
Ş	E	F	K	A	T	S	E	L	A	N	İ	K	R
R	E	S	İ	M	D	Ü	R	Ü	S	T	L	Ü	K
Z	Ü	B	E	Y	D	E	S	A	Ğ	L	İ	K	E
N	B	İ	T	K	İ	S	E	L	B	E	S	İ	N
H	A	Y	V	A	N	S	A	L	B	E	S	İ	N
K	İ	Ş	İ	S	E	L	B	A	K	İ	M	C	İ
Y	A	Y	A	G	E	Ç	İ	D	İ	M	A	S	A
M	A	M	B	U	L	A	N	S	P	O	L	İ	S
O	L	İ	T	F	A	İ	Y	E	S	P	O	R	M
U	J	A	N	D	A	R	M	A	S	İ	R	A	Ş
İ	N	T	E	R	N	E	T	S	A	D	R	E	S
A	L	T	G	E	Ç	İ	T	S	A	Y	G	İ	U
N	G	Ü	V	E	N	L	İ	G	E	Ç	İ	Ş	

ZİL	ADALET	HAYVANSALBESİN	İNTERNET	DAYANIŞMA
KALEMLİK	ŞEFKAT	KİŞİSEL BAKIM	ALTGEÇİT	AŞI
SIRA	SAYGI	YAYA GEÇİDİ	GÜVENLİGEÇİŞ	SELANİK
ŞEREFKÖŞESİ	DÜRÜSTLÜK	POLİS	MASA	ADRES
ATATÜRK	SPOR	AMBULANS	ZÜBEYDE	
KANTİN	SAĞLIK	İTFAİYE	RESİM	
SİLGİ	BİTKİSELBESİN	JANDARMA		

ŞİFRE

TATİL GÜNLÜĞÜM

İŞLEYAPALIM

Toplama işlemlerinde verilmeyen toplanan ve toplamı bularak kutucuklara yazınız.

$13 + \square = 15$	$10 + \square = 20$	$11 + \square = 20$
$\square + 3 = 10$	$\square + 10 = 17$	$\square + 3 = 18$
$5 + \square = 12$	$17 + \square = 22$	$13 + \square = 20$
$9 + \square = 17$	$7 + \square = 7$	$9 + \square = 15$
$\square + 5 = 18$	$\square + 5 = 16$	$\square + 6 = 16$
$9 + 2 = \square$	$13 + \square = 20$	$5 + \square = 14$

✚ Aşağıdaki toplama işlemlerini yapınız.

$\begin{array}{r} 10 \\ + 8 \\ \hline \end{array}$	$\begin{array}{r} 11 \\ + 8 \\ \hline \end{array}$	$\begin{array}{r} 13 \\ + 7 \\ \hline \end{array}$	$\begin{array}{r} 16 \\ + 7 \\ \hline \end{array}$	$\begin{array}{r} 14 \\ + 6 \\ \hline \end{array}$
$\begin{array}{r} 8 \\ + 5 \\ \hline \end{array}$	$\begin{array}{r} 19 \\ + 7 \\ \hline \end{array}$	$\begin{array}{r} 16 \\ + 12 \\ \hline \end{array}$	$\begin{array}{r} 15 \\ + 8 \\ \hline \end{array}$	$\begin{array}{r} 27 \\ + 8 \\ \hline \end{array}$


✚ Farklı toplananları kullanarak verilen toplamları elde ediniz.

$\square + \square = 10$	$\square + \square = 17$	$\square + \square = 15$
$\square + \square = 10$	$\square + \square = 17$	$\square + \square = 15$
$\square + \square = 10$	$\square + \square = 17$	$\square + \square = 15$

TATİL GÜNLÜĞÜM

12.07.2023
ÇARŞAMBA





13.07.2023
PERŞEMBE





KİTAP OKUMA FORMU

Kitabın Adı
.....
Kitabın Yazarı
.....

Ana Karakterler
.....
.....
.....
.....


Olayın Geçtiği Yer:
.....
..
Olayın Geçtiği Zaman:

Birkaç cümle ile kitapta geçen olayı özetler misin?

.....
.....
.....
.....

TATİL GÜNLÜĞÜM

Kayıp eşyaları resimde bulalım.



BİLMECELER

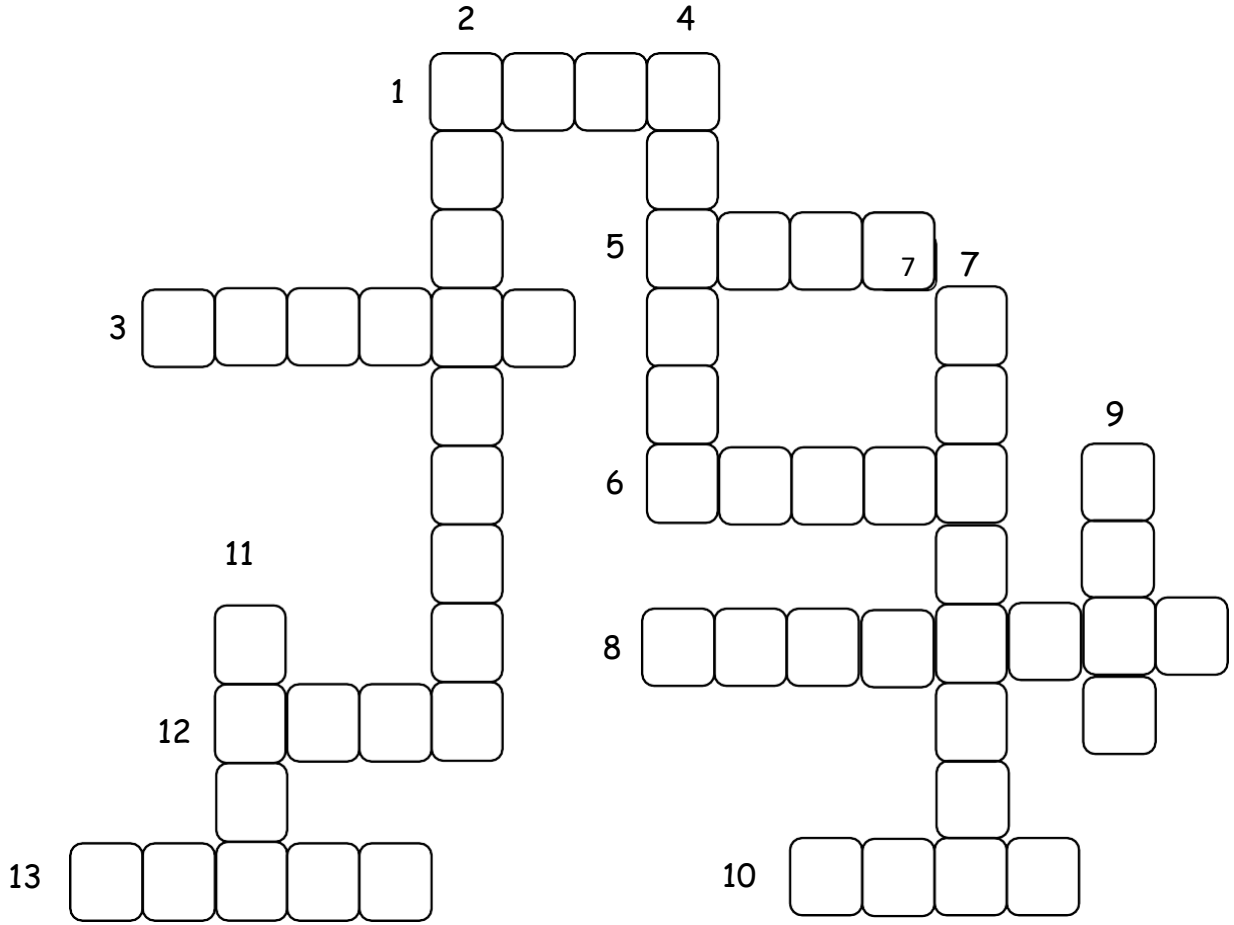
Kuyruğu var, at değil. Kanadı var, kuş değil. -----

Bir sapı var, yüz topu var. -----

Kümeslerin efesi, her sabah çınlar sesi, uyandırır herkesi. -----

TATİL GÜNLÜĞÜM

BULMACA ÇÖZÜYORUM



1. Perşembeden sonra gelen günün adı nedir?
2. Haftanın ilk tatil günü nedir?
3. Toplama işleminde sonuca ne denir?
4. Yılın son ayı hangisidir?
5. Toplama işlemi işaretine ne denir?
6. Çıkarma işleminde sonuç nedir?
7. Kasım ayı hangi mevsimdedir?
8. Nisan ayı hangi mevsimde yer almaktadır?
9. Yılın ilk ayı hangisidir?
10. Yılın 3. Ayı nedir?
11. $15-8=?$ işleminin sonucu kaçtır?
12. Çıkarma işlemi işaretine ne denir?
13. $8+4=?$ İşleminin sonucu kaçtır?

TATİL GÜNLÜĞÜM

17 .07.2023
PAZARTESİ





18.07.2023
SALI



TATİL GÜNLÜĞÜM

19.07.2023
ÇARŞAMBA





20.07.2023
PERŞEMBE



TATİL GÜNLÜĞÜM

21.07.2023
CUMA



22.07.2023
CUMARTESİ





23.07.2023
PAZAR

KİTAP OKUMA FORMU

<p><u>Kitabın Adı</u></p> <p>.....</p> <p><u>Kitabın Yazarı</u></p> <p>.....</p>	<p><u>Ana Karakterler</u></p> <p>.....</p> <p>.....</p> <p>.....</p> <p>.....</p>	<p><u>Olayın Geçtiği Yer:</u></p> <p>.....</p> <p><u>Olayın Geçtiği Zaman:</u></p> <p>.....</p>
--	--	---

Birkaç cümle ile kitapta geçen olayı özetler misin?

.....

.....

.....

.....

TATİL GÜNLÜĞÜM

İki resim arasındaki farkları bulunuz.





KİTAP OKUMA FORMU

Kitabın Adı
.....

Kitabın Yazarı
.....

Ana Karakterler
.....
.....
.....
.....

Olayın Geçtiği Yer:
.....

Olayın Geçtiği Zaman:
.....

Birkaç cümle ile kitapta geçen olayı özetler misin?

.....
.....
.....
.....

TATİL GÜNLÜĞÜM

Aşağıdaki resimden yararlanarak olayların oluş sırasına; noktalama ve yazım kurallarına dikkat ederek bir hikâye yazınız.



.....

.....

.....

.....

.....

.....

.....

.....

.....

.....

.....

TATİL GÜNLÜĞÜM
2023 YILI TAVİMİ
TEMMUZ

PZT	SAL	ÇAR	PER	CUM	CMT	PZR
					1	2
3	4	5	6	7	8	9
10	11	12	13	14	15	16
17	18	19	20	21	22	23
24	25	26	27	28	29	30
31						

Yukarıdaki takvim yaprağı hangi aya aittir?

.....

Bu ayın ilk günü hangi günü göstermektedir?

.....

Temmuz ayı kaç gündür?

.....

19 Temmuz hangi günü göstermektedir?

.....

Tatil günlerini yuvarlak içine alınız

.....

Çarşamba günlerini yeşile boyayın.

Temmuz ayının son günü hangi günü göstermektedir?

.....

Temmuz ayının kaçınıcı günleri salıdır?

.....

TATİL GÜNLÜĞÜM

04.08.2023

CUMA



05.08.2023
CUMARTESİ





KİTAP OKUMA FORMU

<p><u>Kitabın Adı</u></p> <p>.....</p> <p><u>Kitabın Yazarı</u></p> <p>.....</p>	<p><u>Ana Karakterler</u></p> <p>.....</p> <p>.....</p> <p>.....</p>	<p><u>Olayın Geçtiği Yer:</u></p> <p>.....</p> <p><u>Olayın Geçtiği Zaman:</u></p> <p>.....</p>
--	---	---

Birkaç cümle ile kitapta geçen olayı özetler misin?

.....

.....

.....

.....

TATİL GÜNLÜĞÜM

Aşağıdaki resmi uygun renklere boyayınız.



TATİL GÜNLÜĞÜM

PROBLEM ÇÖZÜYORUM

Kolye yapmak için ben 12, kardeşim ise benim kullandığımın yarısından 3 fazla boncuk kullandı. Ben ve kardeşim kolye yapmak için toplam kaç boncuk kullandık?

Bankamatikten 30 TL para çektim. Pazardan 8 liraya elma, elmadan 3 lira fazlaya da portakal aldım. Başka bir şey almadığıma göre geriye kaç TL param kaldı?

Sınıfımıza asmak için Ela 12, Emre 9 balon getirdi. Balonların 7 tanesi şişirirken patladı. Buna göre sınıfımıza kaç balon astık?

Biz üç kardeşiz. Ben ortanca kardeşim. Abim benden 2 yaş büyük, kardeşim ise 3 yaş küçüktür. Ben 8 yaşında olduğuma göre üçümüzün yaşları toplamı kaçtır?

Esra pazartesi günü 9, salı günü ise pazartesi gününden 3 sayfa daha fazla kitap okudu. Esra'nın 24 sayfalık kitabı bitirmesi için çarşamba günü kaç sayfa okumalıdır?

TATİL GÜNLÜĞÜM

07.08.2023
PAZARTESİ





08.08.2023
SALI



TATİL GÜNLÜĞÜM

09.08.2023
ÇARŞAMBA





10.08.2023

PERŞEMBE



TATİL GÜNLÜĞÜM

11.08.2023

CUMA





12.08.2023

CUMARTESİ





KİTAP OKUMA FORMU

<p><u>Kitabın Adı</u></p> <p>.....</p> <p><u>Kitabın Yazarı</u></p> <p>.....</p>	<p><u>Ana Karakterler</u></p> <p>.....</p> <p>.....</p> <p>.....</p> <p>.....</p>	<p><u>Olayın Geçtiği Yer:</u></p> <p>.....</p> <p><u>Olayın Geçtiği Zaman:</u></p> <p>.....</p>
--	--	---

Birkaç cümle ile kitapta geçen olayı özetler misin?

.....


.....

.....

.....

TATİL GÜNLÜĞÜM

Verilen nesnelere resimden bularak boyayınız.



BİLMECELER:

1. İçeceklerin atası kimdir?
2. Kocaman beyaz bir perde. Bilsen neler var içinde. Hikayeler masallar o perdede oynarlar.
3. Uzakıkça kesilir, kesildikçe uzar.
4. Bir adam köpeğini derenin karşı tarafından çağırır. Köpek dereyi ıslanmadan, köprü veya tekne kullanmadan nasıl geçer?

TATİL GÜNLÜĞÜM

PROBLEM ÇÖZÜYORUM

1. Annem kardeşime 7TL, bana ise kardeşime verdiğiinden 3 TL daha fazla harçlık verdi. Kardeşimle harçlıklarımızı birleştirdiğimizde kaç TL paramız olur?
2. Ayla kalemlerinin 7 tanesini kardeşine verdiğiinde kendine 8 kalem kalıyor. Buna göre Ayla'nın başlangıçtaki kalem sayısı kaçtır?
3. 19 bilyem vardı. Bakkaldan 8 bilye daha aldım. Kaç tane bilyem oldu?
4. Kırtasiyeden 3 deste kalem aldım. Kalemlerin 6 tanesini kullandım. Geriye kaç tane kalemim kaldı?
5. Ben kardeşimden 4 yaş büyüğüm. Kardeşim 7 yaşında olduğuna göre yaşlarımız toplamı kaçtır?

TATİL GÜNLÜĞÜM

14.08.2023
PAZARTESİ





15.08.2023
SALI



TATİL GÜNLÜĞÜM

16.08.2023
ÇARŞAMBA





17.08.2023
PERŞEMBE



TATİL GÜNLÜĞÜM

18.08.2023
CUMA





19.08.2023
CUMARTESİ



TATİL GÜNLÜĞÜM

20.08.2023

PAZAR



KİTAP OKUMA FORMU

<p><u>Kitabın Adı</u></p> <p>.....</p> <p><u>Kitabın Yazarı</u></p> <p>.....</p>	<p><u>Ana Karakterler</u></p> <p>.....</p> <p>.....</p> <p>.....</p> <p>.....</p>	<p><u>Olayın Geçtiği Yer:</u></p> <p>.....</p> <p><u>Olayın Geçtiği Zaman:</u></p> <p>.....</p>
--	--	---

Birkaç cümle ile kitapta geçen olayı özetler misin?

.....

.....

.....

.....

TATİL GÜNLÜĞÜM

SÖZCÜK AVI

Aşağıdaki sözcüklerin eş anlamlılarını bulmacada bularak boyayınız. Sözcükler soldan sağa ya da yukarıdan aşağıya dizilmiştir. Bütün sözcükleri bulduktan sonra boşta kalan harfler bir cümle oluşturacaksınız.

O	H	E	K	İ	M	K	Y	A	Ş	U	K
K	L	K	U	A	R	M	A	Ğ	A	N	I
İ	İ	O	Ö	Ğ	R	E	N	C	İ	M	R
B	H	N	S	V	A	K	İ	T	U	A	M
A	T	U	O	S	E	S	İ	R	Y	K	I
R	İ	T	N	K	K	A	F	A	Ü	M	Z
S	Y	C	B	A	E	P	İ	S	R	İ	I
U	A	E	A	R	N	E	Ş	E	E	S	V
R	R	V	H	A	İ	Z	O	R	K	A	S
A	Y	A	A	K	E	L	İ	M	E	F	E
T	O	P	R	R	B	A	S	İ	T	İ	N
F	A	K	İ	R	U	D	Ü	Ş	M	R	E

DOKTOR

SEVİNÇ

KOLAY

SÖZCÜK

TUTSAK

KOLAY

YOKSUL

HAYAL

KONUK

SİYAH

YIL

YANIT

YÜZ

GÜZ

BAŞ

ZAMAN

YAŞ

AL

NAZİK

HEDİYE

YAŞLI

TALEBE

BEYAZ

KİRLİ

EV

KALP

GÜÇ

ŞİFRE


TATİL GÜNLÜĞÜM

PROBLEM ÇÖZÜYORUM

Annem misafirlerimiz için 34 kurabiye yaptı. Misafirler 9 kurabiyeyi yedi.
Geriye kalan kurabiye sayısı kaçtır?

2 onluk 4 birlikten oluşan sayının 8 eksiği kaçtır?

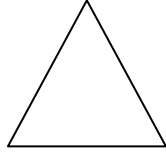
Geometrik şekillerin adını, köşe ve kenar sayılarını yazınız yazınız?



.....

Köşe sayısı:.....

Kenar sayısı:....



.....

Köşe sayısı:.....


Kenar sayısı:....



.....

Köşe sayısı:.....

Kenar sayısı:....

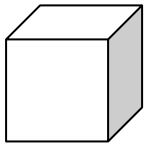


.....


Köşe sayısı:.....

Kenar sayısı:....

Aşağıdaki geometrik cisimlerin adlarını yazınız.



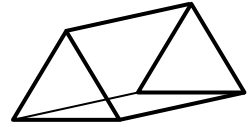
.....



.....



.....



.....

Örüntülerin kuralını yazarak örüntüleri tamamlayınız.



Kural:.....




Kural:.....

TATİL GÜNLÜĞÜM

21.08.2023
PAZARTESİ






22.08.2023
SALI



TATİL GÜNLÜĞÜM

23.08.2023
ÇARŞAMBA





24.08.2023


PERŞEMBE



TATİL GÜNLÜĞÜM

25.08.2023
CUMA





26.08.2023
CUMARTESİ



TATİL GÜNLÜĞÜM

27.08.2023

PAZAR



KİTAP OKUMA FORMU

<p><u>Kitabın Adı</u></p> <p>.....</p> <p><u>Kitabın Yazarı</u></p> <p>.....</p>	<p><u>Ana Karakterler</u></p> <p>.....</p> <p>.....</p> <p>.....</p> <p>.....</p>	<p><u>Olayın Geçtiği Yer:</u></p> <p>.....</p> <p><u>Olayın Geçtiği Zaman:</u></p> <p>.....</p>
--	--	---

Birkaç cümle ile kitapta geçen olayı özetler misin?

.....

.....

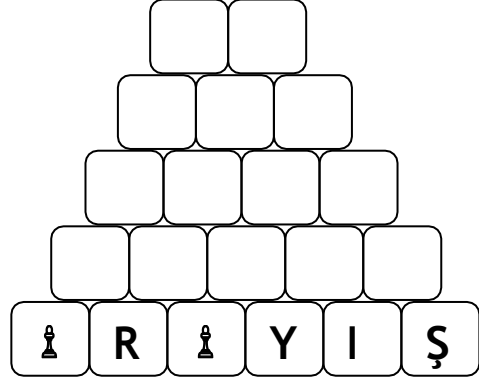

.....

.....

TATİL GÜNLÜĞÜM



Verilen sözcükteki harfleri kullanarak yeni sözcükler türetiniz.



Aşağıdaki sözcükleri sözlük sırasına göre numaralandırınız.

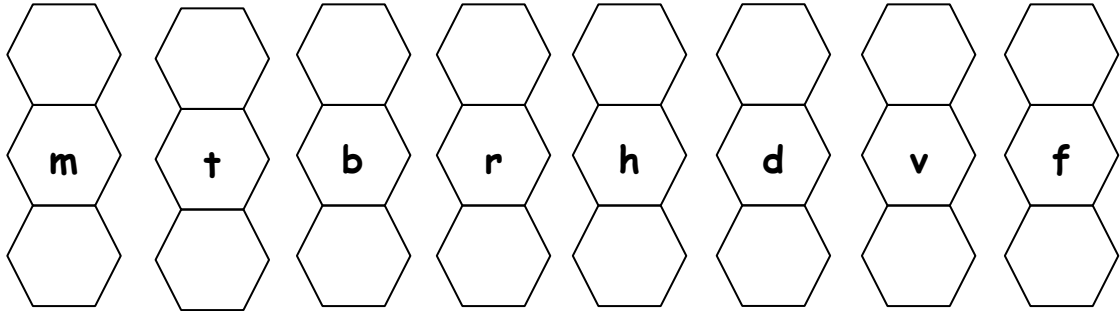
mektup
postacı
zarf
adres

okul
ders
zil
tören

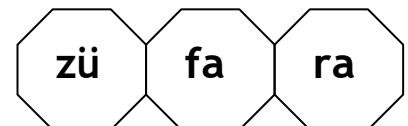
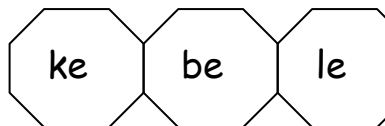
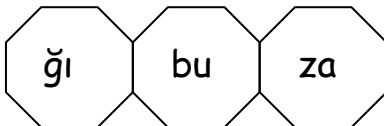
mühendis
öğretmen
çiftçi
veteriner



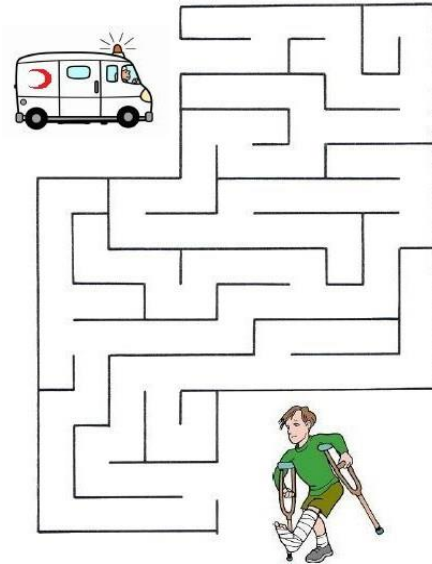

Aşağıda verilen harflerden bir önce ve bir sonra gelen harfi yazalım.



Aşağıda verilen hecelerle oluşturulabilecek kelimeleri altlarına yazınız.



TATİL GÜNLÜĞÜM



TATİL GÜNLÜĞÜM

28.08.2023
PAZARTESİ



29.08.2023
SALI



TATİL GÜNLÜĞÜM

30.08.2023
ÇARŞAMBA





31.08.2023
PERŞEMBE



TATİL GÜNLÜĞÜM

01.09.2023
CUMA





02.09.2023
CUMARTESİ





KİTAP OKUMA FORMU

<p><u>Kitabın Adı</u></p> <p>.....</p> <p><u>Kitabın Yazarı</u></p> <p>.....</p>	<p><u>Ana Karakterler</u></p> <p>.....</p> <p>.....</p> <p>.....</p> <p>.....</p>	<p><u>Olayın Geçtiği Yer:</u></p> <p>.....</p> <p><u>Olayın Geçtiği Zaman:</u></p> <p>.....</p>
--	--	---

Birkaç cümle ile kitapta geçen olayı özetler misin?

.....

.....

.....

.....

TATİL GÜNLÜĞÜM

SÖZCÜK AVI

Aşağıdaki sözcüklerin zıt anlamlılarını bulmacada bularak boyayınız. Sözcükler soldan sağa ya da yukarıdan aşağıya dizilmiştir. Bütün sözcükleri bulduktan sonra boşta kalan harflerle bir cümle oluşturacaksınız.

P	K	K	I	S	A	İ	S	O	Ğ	U	K
A	K	P	T	K	İ	R	L	İ	A	U	P
H	A	A	G	E	N	İ	Ş	E	İ	Z	I
A	L	R	B	N	İ	Y	İ	İ	L	A	S
L	I	L	E	S	E	R	T	S	E	K	L
I	N	A	Y	Y	Ç	O	K	I	R	İ	A
D	Ş	K	A	V	A	R	O	Ğ	İ	S	K
B	İ	T	Z	İ	H	T	İ	Y	A	R	K
Ü	Ş	G	A	L	T	U	E	K	S	İ	A
Y	M	E	G	E	L	M	E	K	M	U	B
Ü	A	C	Z	Ö	H	A	F	İ	F	D	A
K	N	E	U	N	R	Y	U	K	A	R	I

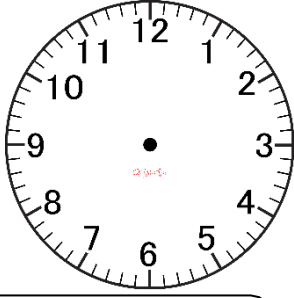
AĞIR	GİTMEK	ARTI	DERİN	AŞAĞI
ZAYIF	SİYAH	YUMUŞAK	KÖTÜ	GERİ
UCUZ	İNCE	TEMİZ	DAR	GÜNDÜZ
KÜÇÜK	YAKIN	KURU	NAZİK	SICAK
MAT	UZUN	AZ	YOK	GENÇ
ÜST	ARKA			

ŞİFRE

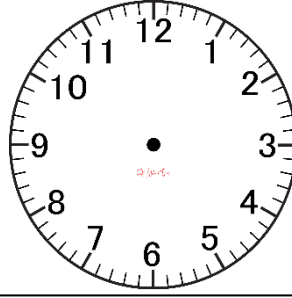
<input type="text"/>	<input type="text"/>	<input type="text"/>	<input type="text"/>	<input type="text"/>	<input type="text"/>	<input type="text"/>	<input type="text"/>	<input type="text"/>	<input type="text"/>
<input type="text"/>	<input type="text"/>	<input type="text"/>	<input type="text"/>	<input type="text"/>	<input type="text"/>	<input type="text"/>	<input type="text"/>	<input type="text"/>	<input type="text"/>

TATİL GÜNLÜĞÜM

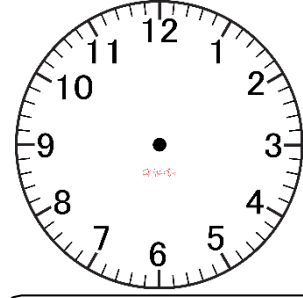
🚦 Aşağıda verilen saatlerin akrep ve yelkovanlarını çiziniz.



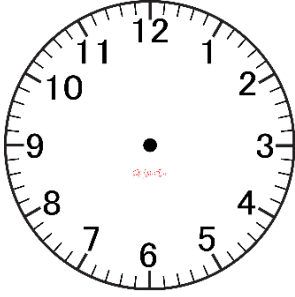
Saat 3:00 ise
iki saat sonrası



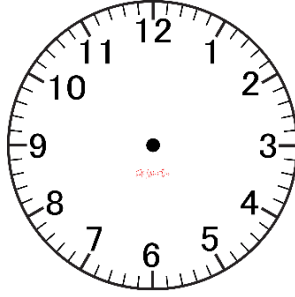
Saat 1:00 ise
üç saat sonrası



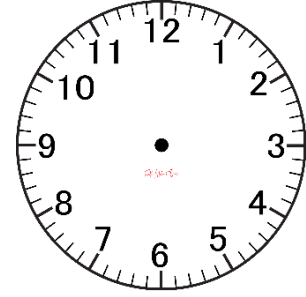
Saat 9:00 ise
bir saat sonrası



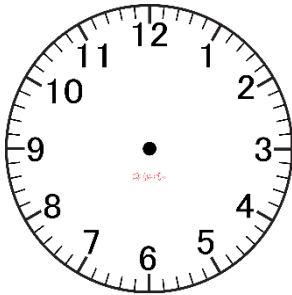
Saat 2:00 ise
bir saat sonrası



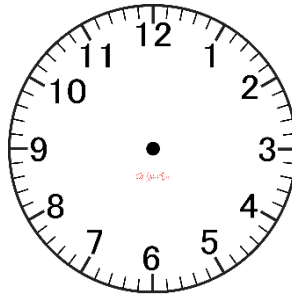
Saat 6:00 ise
iki saat sonrası



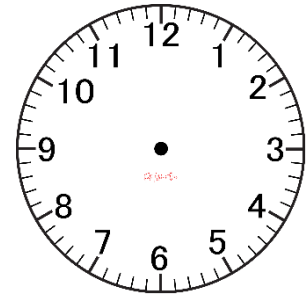
Saat 7:00 ise
üç saat sonrası



Saat 5:00 ise
iki saat sonrası



Saat 5:00 ise
beş saat sonrası



Saat 5:30 ise
iki saat sonrası

TATİL GÜNLÜĞÜM

04 .09.2023
PAZARTESİ





05.09.2023
SALI



TATİL GÜNLÜĞÜM

06.09.2023
ÇARŞAMBA






07.09.2023
PERŞEMBE



TATİL GÜNLÜĞÜM

08.09.2023
CUMA





09.09.2023
CUMARTESİ





10.09.2023
PAZAR

KİTAP OKUMA FORMU

<p><u>Kitabın Adı</u></p> <p>.....</p> <p><u>Kitabın Yazarı</u></p> <p>.....</p>	<p><u>Ana Karakterler</u></p> <p>.....</p> <p>.....</p> <p>.....</p> <p>.....</p>	<p><u>Olayın Geçtiği Yer:</u></p> <p>.....</p> <p><u>Olayın Geçtiği Zaman:</u></p> <p>.....</p>
--	--	---

Birkaç cümle ile kitapta geçen olayı özetler misin?

.....

.....

.....

.....

TATİL GÜNLÜĞÜM

Soruları verilen tablolara göre cevaplayınız.

Tablo: Kümesteki Hayvanlar

Hayvanlar	Hayvan Sayısı
Tavuk	17
Hindi	9
Kaz	3
Ördek	5

✓ Kümesteki tavuk sayısı kaçtır?

.....

✓ Tavukların sayısı kazlardan kaç fazladır?

.....

✓ Hindilerle kazların toplam sayısı kaçtır?

.....

✓ Tavukların sayısı ördeklerden kaç fazladır?

.....

✓ Kazlarla ördeklerin sayısını eşitleyebilmek için kümese kaç tane daha kaz getirmeliyiz?

.....

✓ Kümesteki toplam hayvan sayısı kaçtır?

.....

Tablo: Bahçedeki Meyve Ağaçları

Ağaçlar	Ağaç Sayısı
Kiraz	13
Erik	5
Elma	7
Şeftali	8
Armut	7

✓ Bahçemizde en çok hangi meyve ağacı var?

.....

✓ Sayısı en az olan meyve ağacı hangisidir?

.....

✓ Elma ve erik ağaçlarının toplam sayısı, kirazların sayısından kaç fazladır?

.....

✓ Bahçedeki toplam ağaç sayısı kaçtır?

.....

✓ Şeftali ağaçlarının sayısı kaçtır?

.....

✓ Hangi ağaçların sayısı birbirine eşittir?

.....

- Boş kutulara yazılması gereken sayıları bulunuz.

8	+	<input type="text"/>	=	15	-	<input type="text"/>	=	10	=	16	-	<input type="text"/>	=	<input type="text"/>	+ 3	=	<input type="text"/>
<input type="text"/>	+	<input type="text"/>	=	19	+	1	=	<input type="text"/>	-	6	=	14	+	6	=	9	<input type="text"/>
12	+	<input type="text"/>	=	20	-	<input type="text"/>	=	<input type="text"/>	9	+	<input type="text"/>	=	<input type="text"/>	6	=	15	<input type="text"/>
<input type="text"/>	+	<input type="text"/>	=	18	-	<input type="text"/>	=	<input type="text"/>	9	=	9	+	6	=	15	<input type="text"/>	
<input type="text"/>	+	<input type="text"/>	=	13	+	<input type="text"/>	=	<input type="text"/>	3	=	13	+	3	=	13	<input type="text"/>	



TATİL GÜNLÜĞÜM

Tatilde seni en çok mutlu eden şey neydi? anlatmak ister misin?

Tatilde seni en çok üzen şey neydi? anlatmak ister misin?

TATİL GÜNLÜĞÜM

Tatilde unutmadığın bir anın resmini yapmanı istiyorum.

