

Adı Soyadı: .....

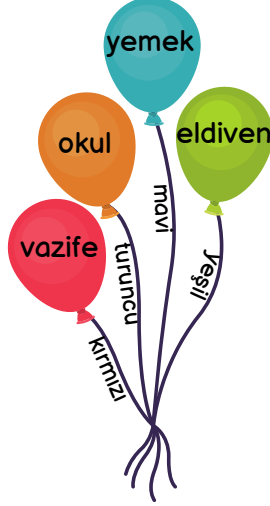
## 4. SINIF 3. HAFTA KAZANIM DEĞERLENDİRME ETKİNLİĞİ

1. Aşağıdaki cümlelerin hangisinde "tabiat" kelimesinin eş anlamlısı kullanılmıştır?

- A) İlkbaharın gelmesi ile doğa canlanmıştır.
- B) Dünya kendi etrafında dönüşünü bir günde tamamlar.
- C) Hayvanlar orman yangınından kaçmaya çalışıyordu.
- D) Bitkiler büyümek için güneş ışığına ihtiyaç duyarlar.

2. Yanda verilen balonların üzerinde yazılı olan kelimelerden eş anlamı olanlar patlatılacaktır. Hangi renk balon patlatılmaz?

- A) kırmızı
- B) turuncu
- C) mavi
- D) yeşil



A Y M A Ş

3. Yukarıdaki karışık harflerin oluşturduğu kelimenin eş anlamlısı aşağıdakilerden hangisidir?

- A) kibar
- B) zengin
- C) hayat
- D) para

4. Aşağıdaki cümlelerin hangisinde virgül yanlış kullanılmıştır?

- A) Odaya girdi, pencereyi açtı, koltuğa oturdu.
- B) Ders, çalışırken müzik dinlememeliyiz.
- C) Telefon, tablet ve bilgisayarlara zam geldi.
- D) Annem, babam, kardeşim ve ablam uyumuştum.



5.

Yukarıda verilen noktalama işaretlerinden hangisinden sonra cümle büyük harf ile başlamaz?

- A) nokta
- B) virgül
- C) ünlem
- D) soru işareti

6. Aşağıdaki doğal sayılar en yakın onluklarına yuvarlanmıştır. Hangisinde hata yapılmıştır?

- A) 1453 → 1450
- B) 1923 → 1920
- C) 1881 → 1880
- D) 1938 → 1930

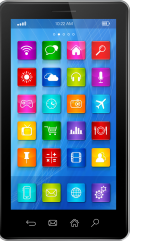
7. Aşağıda verilen sayılardan hangisinin en yakın onluğu ve yüzlüğü aynı sayı değildir?

- A) 6332
- B) 7004
- C) 5895
- D) 3998



8. Ravza, yandaki cep telefonunun fiyatını en yakın yüzüğe yuvarladığında 9500 TL olduğunu söylüyor. Buna göre cep telefonunun fiyatı aşağıdakilerden hangisi olabilir?

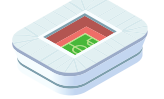
- A) 9448 TL
- B) 9601 TL
- C) 9451 TL
- D) 9568 TL



Galatasaray  
52600



Fenerbahçe  
50530



9.

Beşiktaş  
42590



Trabzonspor  
40782



Yukarıda verilen futbol stadyumlarından hangi takımın seyirci kapasitesi daha fazladır?

- A) Galatasaray
- B) Fenerbahçe
- C) Beşiktaş
- D) Trabzonspor

10. Verilen sayı sıralamalarından hangisi doğrudur?

- A) 72281 < 75522 < 78573 < 76999
- B) 25913 > 24845 > 18989 > 19191
- C) 35535 < 53535 < 68868 < 86686
- D) 45000 > 54000 > 81000 > 91000

11. Çoğunlukla boş zamanlarımızda takip ettiğimiz ya da gerçekleştirdiğimiz etkinliklere ne ad verilir?

- A) eğitim  
B) ders  
C) kurs  
D) hobi

12. İlgi ve yeteneklerimiz ile ilgili aşağıdaki verilenlerden hangisi yanlıştır?

- A) İnsanların ilgi alanları birbirinden farklı olabilir.  
B) İlgi alanları benzer olan bireyler birbirleriyle daha kolay iletişime geçebilirler.  
C) Farklı ilgi ve yeteneklere sahip bireyler birbirleriyle iyi iletişim kuramazlar.  
D) İnsanlar mesleklerini ilgi ve yetenekleri doğrultusunda seçmelidirler.

13. Görsele göre Ekrem, hangi alanda bir yeteneğe sahip olabilir?

- A) bilgisayar  
B) spor  
C) satranç  
D) müzik



14. Verilen ifadelerden hangisi yanlıştır?

- A) İnsanın yaşı ilerledikçe ilgileri de değişebilir.  
B) Beslenme ve barınma bir istektir.  
C) İlgi duyduğumuz her alanda başarılı olamayabiliriz.  
D) Okullarda yapılan sosyal etkinliklere katılmalıyız.


15. "İnsanlar arasındaki farklılıklara ....."  
cümlesi aşağıdakilerden hangisi ile tamamlanmalıdır?

- A) saygı duymalıyız  
B) uyardmalıyız  
C) özen göstermemeliyiz  
D) sevinmemeliyiz



16. Aşağıda verilenlerden hangisi Dünya'nın kendi etrafında dönmesi sonucu oluşur?

- A) mevsimler  
B) 1 yıl  
C) 1 gün  
D) 1 ay



17.

Dünya üzerinde verilen noktalarda an itibarıyla gece yaşanmaktadır. Dünya'nın dönüş yönüne göre, ilk olarak hangi noktada sabah olacak, Güneş doğacaktır?

- A) 1. B) 2. C) 3. D) 4.

18. Dünya'nın kendi etrafında batıdan doğuya doğru dönmesi ile ilgili verilen ifadelerden hangisi doğrudur?

- A) Dünya bu dönüşünü 1 yılda tamamlar.  
B) Doğuda yaşayanlar Güneş'i batıdakilerden önce görür.  
C) Dünya'nın bu hareketi sonucu mevsimler oluşur.  
D) Dünya'nın bu hareketine dolanma denir.

19. Verilen görsele göre sandalye kapmaca oynayan

çocuklar sandalye etrafında hangi hareketi yapmaktadır?

- A) dönme  
B) dolanma  
C) hızlanma  
D) yön değiştirme



20. Ülkemizde Güneş'in en son battığı ilimiz aşağıdakilerden hangisidir?

- A) Çanakkale  
B) Iğdır  
C) Van  
D) Sinop



# 4. SINIF 3. HAFTA KAZANIM DEĞERLENDİRME ETKİNLİĞİ

## CEVAP ANAHTARI

1.	A	11.	D
2.	D	12.	C
3.	C	13.	D
4.	B	14.	B
5.	B	15.	A
6.	D	16.	C
7.	A	17.	A
8.	C	18.	B
9.	A	19.	B
10.	C	20.	A



[www.slaytyerim.com](http://www.slaytyerim.com)