

AĞACA KAÇAN TOP

Selim'i arkadaşı Ahmet dışarı çağırmıştı. Selim, aceleyle kırmızı pantolonunu, mavi tişörtünü ve topunu alarak dışarı çıktı. Her zaman oyun oynadıkları meşe ağacının altına gittiler. Mahallenin çocukları her zaman bu ağacın altında toplanırlardı.



Tüm çocuklar gelince futbol maçına başladılar. Ahmet topa hızlı vurunca top ağacın dallarında kaldı. Selim, topu almak için ağaca çıktı ve dengesini kaybedince yere düştü. Selim'in canı çok yanmıştı.

Soru 1: Selim'i dışarı kim çağırdı ?

Soru 2: Selim üzerine hangi renk elbise giydi ?

Soru 3: Mahallenin çocukları nerede toplanmış ?

Soru 4: Ahmet topu nereye attı ?

Soru 5: Ağaca çıkan Selim'e ne oldu ?

www.SeyirAhmetUzun.com

AĞACA KAÇAN TOP

Selim'i arkadaşı Ahmet dışarı çağırmıştı. Selim, aceleyle kırmızı pantolonunu, mavi tişörtünü ve topunu alarak dışarı çıktı. Her zaman oyun oynadıkları meşe ağacının altına gittiler. Mahallenin çocukları her zaman bu ağacın altında toplanırlardı.



Tüm çocuklar gelince futbol maçına başladılar. Ahmet topa hızlı vurunca top ağacın dallarında kaldı. Selim, topu almak için ağaca çıktı ve dengesini kaybedince yere düştü. Selim'in canı çok yanmıştı.

Soru 1: Selim'i dışarı kim çağırdı ?

Soru 2: Selim üzerine hangi renk elbise giydi ?

Soru 3: Mahallenin çocukları nerede toplanmış ?

Soru 4: Ahmet topu nereye attı ?

Soru 5: Ağaca çıkan Selim'e ne oldu ?

www.SeyirAhmetUzun.com

Yukarıdaki metin Türkçe defterine yazılacak.

Yukarıdaki metin Türkçe defterine yazılacak.

EŞ VE ZİT ANLAMLI KELİMELER

Aşağıdaki verilen kelimelerin eş ve zıt anlamlılarını yazalım. Hecesine ayıralım.

	Eş Anlam	Zıt Anlam	Heceleri
a. beyaz	ak	siyah	si-yah
b. siyah			
c. yaşlı			
ç. esir			
d. yoksul			
e. kirlî			
f. uzak			
g. cevap			
ğ. basit			
h. noksan			

EŞ VE ZİT ANLAMLI KELİMELER

Aşağıdaki verilen kelimelerin eş ve zıt anlamlılarını yazalım. Hecesine ayıralım.

	Eş Anlam	Zıt Anlam	Heceleri
a. beyaz	ak	siyah	si-yah
b. siyah			
c. yaşlı			
ç. esir			
d. yoksul			
e. kirlî			
f. uzak			
g. cevap			
ğ. basit			
h. noksan			

Soru 1) 2 tane **KURALLI TMCE** yazınız.

1)

2)

Soru 2) 2 tane **SORU CMLESİ** yazınız.

1)

2)

Soru 3) 2 tane **NLEM CMLESİ** yazınız.

1)

2)

Soru 4) 2 tane **DEVİRİK CMLE** yazınız.

1)

2)

Soru 5) 2 tane **OLUMSUZ CMLE** yazınız.

1)

2)

Soru 6) 2 tane **KARŞILAŞTIRMALI CMLE** yazınız.

1)

2)

Soru 7) 2 tane **HAYALİ CMLE** tmce yazınız.

1)

2)

Soru 8) 2 tane **NESNEL (OBJEKTİF)** tmce yazınız.

1)

2)

Soru 9) 2 tane **ZNEL (KİŞİSEL)** tmce yazınız.

1)

2)

Soru 1) 2 tane **KURALLI TMCE** yazınız.

1)

2)

Soru 2) 2 tane **SORU CMLESİ** yazınız.

1)

2)

Soru 3) 2 tane **NLEM CMLESİ** yazınız.

1)

2)

Soru 4) 2 tane **DEVİRİK CMLE** yazınız.

1)

2)

Soru 5) 2 tane **OLUMSUZ CMLE** yazınız.

1)

2)

Soru 6) 2 tane **KARŞILAŞTIRMALI CMLE** yazınız.

1)

2)

Soru 7) 2 tane **HAYALİ CMLE** tmce yazınız.

1)

2)

Soru 8) 2 tane **NESNEL (OBJEKTİF)** tmce yazınız.

1)

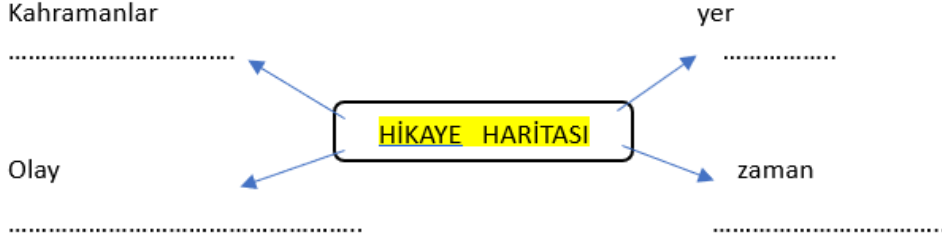
2)

Soru 9) 2 tane **ZNEL (KİŞİSEL)** tmce yazınız.

1)

2)

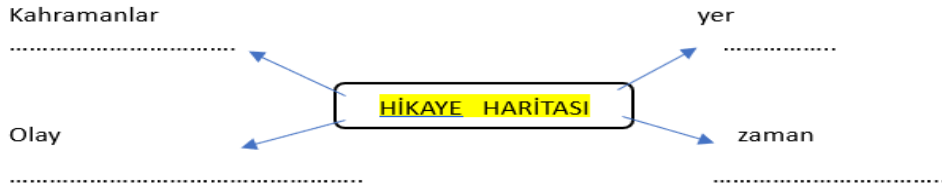
Güneş yüce dağın ardına düşmüş , gece olmuştu. Ayşegül okuldan eve gelmiş. Öğretmeninin verdiği ödevi yapma telaşına düşmüştü. Çantasından defterine çıkardı. Kalemını eline aldı. Ödevini yapmaya başladı.




Güneş yüce dağın ardına düşmüş , gece olmuştu. Ayşegül okuldan eve gelmiş. Öğretmeninin verdiği ödevi yapma telaşına düşmüştü. Çantasından defterine çıkardı. Kalemını eline aldı. Ödevini yapmaya başladı.



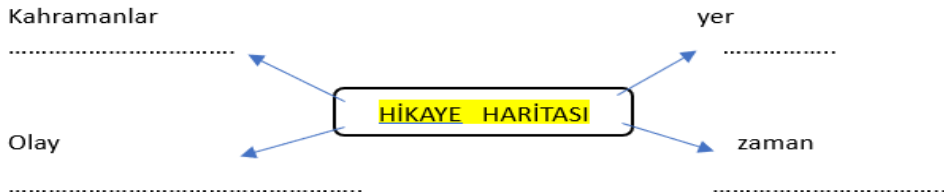
Keloğlan sabah erken kalktı. Buğday çuvallarını eşeğine yükledi. Değirmene doğru yola çıktı. Keloğlan yolda canı sıkılınca şarkı söylemeye başladı. Bir yandan neşeyle şarkı söylüyor bir yandan da etrafı seyrediyordu.



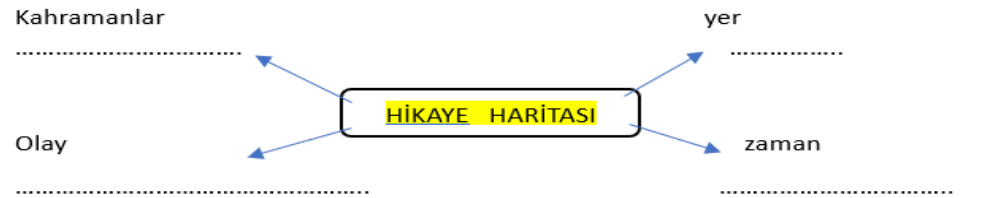
Keloğlan sabah erken kalktı. Buğday çuvallarını eşeğine yükledi. Değirmene doğru yola çıktı. Keloğlan yolda canı sıkılınca şarkı söylemeye başladı. Bir yandan neşeyle şarkı söylüyor bir yandan da etrafı seyrediyordu.



Hatice ,akşam geç yattığı için saban erken kalkamadı. Yatağından kalktığında vakit öğle olmuştu. Annesi köye gittiği için evde ablası Meryem ile beraberdi. Meryem , kardeşine kıyamadığı için onu kaldırmadı. Domatesleri ve kaşar peynirini dildi. Ocakta sütü pişirdi. İki tane de yumurta kaynattı. Hatice ' nin istediği gibi rafadan. İki kardeş birlikte sofraya oturdu. Karınlarını doyurmaya başladılar.



Hatice ,akşam geç yattığı için saban erken kalkamadı. Yatağından kalktığında vakit öğle olmuştu. Annesi köye gittiği için evde ablası Meryem ile beraberdi. Meryem , kardeşine kıyamadığı için onu kaldırmadı. Domatesleri ve kaşar peynirini dildi. Ocakta sütü pişirdi. İki tane de yumurta kaynattı. Hatice ' nin istediği gibi rafadan. İki kardeş birlikte sofraya oturdu. Karınlarını doyurmaya başladılar.



Soru 1) Aşağıda verilen sayıları **EN YAKIN ONLUĞA** yuvarlayınız.

123 : 154 : 157 : 161:
222: 235: 279: 256:
387: 365 : 343: 352:
444: 468: 423: 488:
205 : 211: 308: 325:
765: 782: 888: 905:

Soru 2) Aşağıda verilen sayıları **EN YAKIN YÜZLÜĞE** yuvarlayınız.

111: 222: 555: 777:
138 : 243: 456: 555:
220: 340 : 445 : 549:
689 : 673: 549 : 679:
781: 753: 749 : 739:
942: 821: 655: 209 :

Soru 3) 353 sayısını yüzlüğe , 261 sayısını onluğa yuvarlayarak toplayınız.

448 – 451 – 439 – 460 – 481 – 444 – 428 – 460

Soru 4) Yukarıda verilen sayılardan 500 yuvarlanabilenleri aşağıya yazınız.

.....
666 – 675 – 643 – 650 – 645 – 610 – 622 – 638 – 687 – 653 – 680

Soru 5) Yukarıda verilen sayılardan 700 yuvarlanabilenleri aşağıya yazınız.

.....
Soru 6) 800 e yuvarlanabilen en büyük sayıdan 98 sayısını çıkartınız.

Soru 1) Aşağıda verilen sayıları **EN YAKIN ONLUĞA** yuvarlayınız.

123 : 154 : 157 : 161:
222: 235: 279: 256:
387: 365 : 343: 352:
444: 468: 423: 488:
205 : 211: 308: 325:
765: 782: 888: 905:

Soru 2) Aşağıda verilen sayıları **EN YAKIN YÜZLÜĞE** yuvarlayınız.

111: 222: 555: 777:
138 : 243: 456: 555:
220: 340 : 445 : 549:
689 : 673: 549 : 679:
781: 753: 749 : 739:
942: 821: 655: 209 :

Soru 3) 353 sayısını yüzlüğe , 261 sayısını onluğa yuvarlayarak toplayınız.

448 – 451 – 439 – 460 – 481 – 444 – 428 – 460

Soru 4) Yukarıda verilen sayılardan 500 yuvarlanabilenleri aşağıya yazınız.

.....
666 – 675 – 643 – 650 – 645 – 610 – 622 – 638 – 687 – 653 – 680

Soru 5) Yukarıda verilen sayılardan 700 yuvarlanabilenleri aşağıya yazınız.

.....
Soru 6) 800 e yuvarlanabilen en büyük sayıdan 98 sayısını çıkartınız.

527			
	Yüzler B.	Onlar B.	Birler B.
Basamak değeri	500	20	7
Sayı değeri	5	2	7

398			
	Yüzler B.	Onlar B.	Birler B.
Basamak değeri
Sayı değeri

650			
	Yüzler B.	Onlar B.	Birler B.
Basamak değeri
Sayı değeri

316			
	Yüzler B.	Onlar B.	Birler B.
Basamak değeri
Sayı değeri

205			
	Yüzler B.	Onlar B.	Birler B.
Basamak değeri
Sayı değeri

639			
	Yüzler B.	Onlar B.	Birler B.
Basamak değeri
Sayı değeri

728			
	Yüzler B.	Onlar B.	Birler B.
Basamak değeri
Sayı değeri

843			
	Yüzler B.	Onlar B.	Birler B.
Basamak değeri
Sayı değeri

189			
	Yüzler B.	Onlar B.	Birler B.
Basamak değeri
Sayı değeri

627			
	Yüzler B.	Onlar B.	Birler B.
Basamak değeri
Sayı değeri

740			
	Yüzler B.	Onlar B.	Birler B.
Basamak değeri
Sayı değeri

999			
	Yüzler B.	Onlar B.	Birler B.
Basamak değeri
Sayı değeri

527			
	Yüzler B.	Onlar B.	Birler B.
Basamak değeri	500	20	7
Sayı değeri	5	2	7

398			
	Yüzler B.	Onlar B.	Birler B.
Basamak değeri
Sayı değeri

650			
	Yüzler B.	Onlar B.	Birler B.
Basamak değeri
Sayı değeri

316			
	Yüzler B.	Onlar B.	Birler B.
Basamak değeri
Sayı değeri

205			
	Yüzler B.	Onlar B.	Birler B.
Basamak değeri
Sayı değeri

639			
	Yüzler B.	Onlar B.	Birler B.
Basamak değeri
Sayı değeri

728			
	Yüzler B.	Onlar B.	Birler B.
Basamak değeri
Sayı değeri

843			
	Yüzler B.	Onlar B.	Birler B.
Basamak değeri
Sayı değeri

189			
	Yüzler B.	Onlar B.	Birler B.
Basamak değeri
Sayı değeri

627			
	Yüzler B.	Onlar B.	Birler B.
Basamak değeri
Sayı değeri

740			
	Yüzler B.	Onlar B.	Birler B.
Basamak değeri
Sayı değeri

999			
	Yüzler B.	Onlar B.	Birler B.
Basamak değeri
Sayı değeri

SAYILARI SEMBOL KULLANARAK SIRALAMA

Sayılar " $>$ " ve " $<$ " işareti kullanarak sembolle sıralanabilir.

Şapkanın içine giren sayı büyüktür diye okunur.

Örneğin :

261 > 198 ifadesinin okunuşu : **iki yüz atmış bir büyüktür yüz doksan sekizden.**

145 < 305 ifadesinin okunuşu ise : **yüz kırk beş küçüktür üç yüz beşten** diye okunur.

Yukarıdaki yazı matematik defterine yazılacak.

Soru 1) Aşağıda verilen sayıları sembol kullanarak **büyükten küçüğe** doğru sıralayın.

548 – 897 – 143

Soru 2) Aşağıda verilen sayıları sembol kullanarak **büyükten küçüğe** doğru sıralayın.

564 – 322 – 678 – 980

Soru 3) Aşağıda verilen sayıları sembol kullanarak **büyükten küçüğe** doğru sıralayın.

109 – 4454 – 342 – 670 - 802

Soru 4) Aşağıda verilen sayıları sembol kullanarak **büyükten küçüğe** doğru sıralayın.

777 – 656 – 435 – 290 – 288 - 555

Soru 5) Aşağıda verilen sayıları sembol kullanarak **küçükten büyüğe** doğru sıralayın.

878 – 567 – 670

Soru 6) Aşağıda verilen sayıları sembol kullanarak **küçükten büyüğe** doğru sıralayın.

980 – 324 – 457 – 389

Soru 7) Aşağıda verilen sayıları sembol kullanarak **küçükten büyüğe** doğru sıralayın.

260 – 150 – 389 - 888

SAYILARI SEMBOL KULLANARAK SIRALAMA

Sayılar " $>$ " ve " $<$ " işareti kullanarak sembolle sıralanabilir.

Şapkanın içine giren sayı büyüktür diye okunur.

Örneğin :

261 > 198 ifadesinin okunuşu : **iki yüz atmış bir büyüktür yüz doksan sekizden.**

145 < 305 ifadesinin okunuşu ise : **yüz kırk beş küçüktür üç yüz beşten** diye okunur.

Yukarıdaki yazı matematik defterine yazılacak.

Soru 1) Aşağıda verilen sayıları sembol kullanarak **büyükten küçüğe** doğru sıralayın.

548 – 897 – 143

Soru 2) Aşağıda verilen sayıları sembol kullanarak **büyükten küçüğe** doğru sıralayın.

564 – 322 – 678 – 980

Soru 3) Aşağıda verilen sayıları sembol kullanarak **büyükten küçüğe** doğru sıralayın.

109 – 4454 – 342 – 670 - 802

Soru 4) Aşağıda verilen sayıları sembol kullanarak **büyükten küçüğe** doğru sıralayın.

777 – 656 – 435 – 290 – 288 - 555

Soru 5) Aşağıda verilen sayıları sembol kullanarak **küçükten büyüğe** doğru sıralayın.

878 – 567 – 670

Soru 6) Aşağıda verilen sayıları sembol kullanarak **küçükten büyüğe** doğru sıralayın.

980 – 324 – 457 – 389

Soru 7) Aşağıda verilen sayıları sembol kullanarak **küçükten büyüğe** doğru sıralayın.

260 – 150 – 389 - 888

www.slaytyerim.com

Aşağıdaki işlemleri yapınız.

$$\begin{array}{r} 229 \\ + 85 \\ \hline \end{array}$$

$$\begin{array}{r} 646 \\ + 165 \\ \hline \end{array}$$

$$\begin{array}{r} 817 \\ + 14 \\ \hline \end{array}$$

$$\begin{array}{r} 877 \\ + 88 \\ \hline \end{array}$$

$$\begin{array}{r} 236 \\ + 136 \\ \hline \end{array}$$

$$\begin{array}{r} 658 \\ + 217 \\ \hline \end{array}$$

$$\begin{array}{r} 625 \\ + 89 \\ \hline \end{array}$$

$$\begin{array}{r} 185 \\ + 39 \\ \hline \end{array}$$

$$\begin{array}{r} 578 \\ + 218 \\ \hline \end{array}$$

$$\begin{array}{r} 125 \\ + 75 \\ \hline \end{array}$$

$$\begin{array}{r} 479 \\ + 16 \\ \hline \end{array}$$

$$\begin{array}{r} 724 \\ + 48 \\ \hline \end{array}$$

$$\begin{array}{r} 446 \\ + 34 \\ \hline \end{array}$$

$$\begin{array}{r} 769 \\ + 73 \\ \hline \end{array}$$

$$\begin{array}{r} 434 \\ + 298 \\ \hline \end{array}$$

$$\begin{array}{r} 529 \\ + 41 \\ \hline \end{array}$$

$$\begin{array}{r} 456 \\ + 256 \\ \hline \end{array}$$

$$\begin{array}{r} 684 \\ + 68 \\ \hline \end{array}$$

$$\begin{array}{r} 817 \\ + 15 \\ \hline \end{array}$$

$$\begin{array}{r} 616 \\ + 17 \\ \hline \end{array}$$

Aşağıdaki işlemleri yapınız.

$$\begin{array}{r} 229 \\ + 85 \\ \hline \end{array}$$

$$\begin{array}{r} 646 \\ + 165 \\ \hline \end{array}$$

$$\begin{array}{r} 817 \\ + 14 \\ \hline \end{array}$$

$$\begin{array}{r} 877 \\ + 88 \\ \hline \end{array}$$

$$\begin{array}{r} 236 \\ + 136 \\ \hline \end{array}$$

$$\begin{array}{r} 658 \\ + 217 \\ \hline \end{array}$$

$$\begin{array}{r} 625 \\ + 89 \\ \hline \end{array}$$

$$\begin{array}{r} 185 \\ + 39 \\ \hline \end{array}$$

$$\begin{array}{r} 578 \\ + 218 \\ \hline \end{array}$$

$$\begin{array}{r} 125 \\ + 75 \\ \hline \end{array}$$

$$\begin{array}{r} 479 \\ + 16 \\ \hline \end{array}$$

$$\begin{array}{r} 724 \\ + 48 \\ \hline \end{array}$$

$$\begin{array}{r} 446 \\ + 34 \\ \hline \end{array}$$

$$\begin{array}{r} 769 \\ + 73 \\ \hline \end{array}$$

$$\begin{array}{r} 434 \\ + 298 \\ \hline \end{array}$$

$$\begin{array}{r} 529 \\ + 41 \\ \hline \end{array}$$

$$\begin{array}{r} 456 \\ + 256 \\ \hline \end{array}$$

$$\begin{array}{r} 684 \\ + 68 \\ \hline \end{array}$$

$$\begin{array}{r} 817 \\ + 15 \\ \hline \end{array}$$

$$\begin{array}{r} 616 \\ + 17 \\ \hline \end{array}$$



