

3. Sınıf 5. HAFTA SONU PERFORMANS ÖDEVİ

SINIF	: 3 / A
ÖĞRENCİNİN ADI SOYADI:	
VERİLİŞ TARİHİ	:
TESLİM TARİHİ	:

TÜRKÇE

1-Aşağıdaki sözcük çiftlerinden hangisi zıt anlamlı sözcüklerdir?

- A) yerli – yabancı B) iner – inmez C) ziyan – zarar

2-“Acı - tatlı birçok olay yaşadık.” cümlesinde altı çizili sözcükler arasındaki ilişki hangi sözcük çifti arasında vardır?

- A) acı – acısız B) tat – tatlı C) iyi – kötü

3-Aşağıdaki cümlelerin hangisinde “Nerede?” sorusunun yanıtı vardır?

- A) Babam beni lunaparka götürdü. B) Park yerinde arabamızı bulamadık.
C) Kedilere yiyecek verdiler.

4-“Çocuklar okulun bahçesinde neşe içinde koşular.” cümlesinde altı çizili kelimeyi bulmak için hangi soruyu sormalıyız?

- A) Çocuklar nerede koşular? B) Çocuklar nasıl koşular?
C) Çocuklar ne koşular?

“Gözlüğü takıp kitap okudu.”

5-Yukarıdaki altı çizili sözcük hangi anlamda kullanılmıştır?

- A) Herhangi bir konuda başarılı olmak
B) Başka bir yöne doğru fırlatmak
C) Bir şeyi başka bir yere uygun biçimde tutturmak

“Hiç değilse bir su içseydin.”

6-Bu cümledeki altı çizili sözcüğün anlamı aşağıdakilerin hangisinde vardır?

- A) Sessizce ayrıldı buradan. B) Zavallı çocuk, ağlamaya başladı.
C) En azından biraz kalsaydınız.



DUR VE OKU! "Zıplayan Şiir" kitabından "DİLBAZ" adlı şiiri on kez oku! Tebrikler...

"Karlı bir kış günü bir çocuk pencereden dışarıya bakıyordu. Elini uzatıp kar tanelerini tutmaya çalıştı. Yakaladığı bir kar tanesi çocukla konuşmaya başladı.

— Bundan birkaç ay önce denizde bir su damlasıydım. Bir yaz günü hava çok sıcaktı, ben de ısındım. Isınınca da buhar oldum. Rüzgâr beni önüne katıp oraya buraya sürükledi. Aradan bir süre geçti. Yarı buhar yarı su olmuşum. Tam yağmur olmak üzereyken hava birdenbire çok soğudu ve ben kar tanesi oldum. Senin de elini görünce buraya indim."

7-Olay, nerede geçiyor?

- A) Bir arabanın içinde B) Bir oyun parkında C) Bir pencerenin önünde

"Doruk, uzayda yol aldıkça yıldızlara yaklaşacağını zannediyordu. Düşündüğü olmadı. Çünkü yıldızlar Dünya'dan çok uzaktı. Bunları düşünürken birden Ay'ı çok yakınında gördü. Ay'a bu kadar çabuk yaklaşmasının nedenini biliyordu. Ay, yıldızlara göre Dünya'ya çok yakındı. Aynı zamanda Dünya'nın uydusuydu. Aracıyla Ay'a inmeye karar verdiğinde çok heyecanlıydı. Tam kontrol masasında gerekli çalışmaları yaparken annesinin sesiyle uyandı.

8-Paragrafa göre Ay için aşağıdakilerden hangisi söylenemez?

- A) Dünya'ya yıldızlardan daha yakındır. B) Dünya'nın uydusudur.
C) Dünya'ya ısı ve ışık verir.

9-Ali Yiğit, yatıp uyumaya hazırlandığına göre aşağıdakilerden hangisini daha önce yapmamıştır?

- A) Dişlerini fırçalar. B) Yatağını düzeltip toparlar.
C) Kıyafetlerini çıkarıp pijamasını giyer.

"Terziler mezura ve çeşitli cetveller kullanarak hem kumaşların hem de giysiyi dikecekleri kişilerin ölçüsünü alır. Daha sonra bu ölçülere göre dikecekleri giysinin kalıbını çıkarırlar. Kumaşa ve patron kâğıtlarına kalıp çizmek için çeşitli kalemler ve aletler kullanılır."

10-Bu metnin türü hangisidir?

- A) Hikâye edici B) Bilgilendirici C) Şiir



DUR VE SAY! "Sekizer sekizer seksene kadar say. **TEBRİKLER...**"

MATEMATİK

"Aşağıdaki seçeneklerde sayılar ve sayıların okunuşları eşleştirilmiştir."

1-Hangi seçenekteki eşleştirme yanlıştır?

A) 205 → İki yüz beş B) 391 → Üç yüz bir C) 724 → Yedi yüz yirmi dört

2-Hangi seçenekteki sayı 4'ten küçük rakamlardan oluşmaktadır?

A) Üç yüz otuz üç B) Dört yüz doksan bir C) Yüz seksen iki

3-400'e yuvarlanabilecek en büyük sayı kaçtır?

A) 399 B) 499 C) 449

4- "4 yüzlük + 6 onluk + 8 birlikten" oluşan sayı, hangi onluğa yuvarlanır?

A) 460 B) 468 C) 470

5-Aşağıdaki sayılardan hangisi 500'e yuvarlanamaz?

A) 487 B) 554 C) 529

"Pelin'in aklında tuttuğu sayı yüzler basamağı 5, onlar basamağı 8 olan en büyük çift sayıdır."

6-Pelin'in aklında tuttuğu sayı kaçtır?

A) 588 B) 589 C) 590

"İki basamaklı en büyük çift doğal sayı: ♥

İki basamaklı en küçük tek doğal sayı: ■"

7-Yukarıdaki ifadelere göre ♥ ve ■ yerine hangi seçenekteki sayılar yazılmalıdır?

A) 99 – 10 B) 98 – 10 C) 98 – 11

"144 – 148 – 152 – ?"

8-Soru işareti yerine hangi sayı yazılmalıdır?

A) 158 B) 156 C) 153



9-Emre, her gün kumbarasına bir önceki günden 2 lira fazla atmaktadır. Emre 1. gün kumbarasına 5 lira atmıştır. 7. gün Emre kumbarasına kaç lira atmalıdır?

- A) 13 B) 15 C) 17

10-Yüzler basamağında 3, birler basamağında 5, onlar basamağında 7 olan sayı kaçtır?

- A) 357 B) 753 C) 375

11- "6 yüzlük, 2 onluktan" oluşan sayı hangisidir?

- A) 602 B) 206 C) 620

307 – 407 – 607 – 707 – 807

12-Yukarıdaki ritmik saymada hangi sayı eksiktir?

- A) 317 B) 457 C) 507

13-Aşağıdaki eşitliklerden hangisi yanlıştır?

- A) XIV = 14 B) XI = 11 C) XIX = 14

"SAĞLIĞIMIZI KORUMAK İÇİN; DENGELİ VE DÜZENLİ BESLENELİM"

FEN BİLİMLERİ

1-Denizden kıyıya doğru yaklaşan bir geminin önce dumanının, sonra bacasının, son olarak da gövdesinin görülmesi aşağıdakilerden hangisini kanıtlar?

- A) Dünya'nın küre biçiminde olduğunu B) Dünya'nın düz olduğunu
C) Dünya'nın hareketsiz, kare şeklinde olduğunu

2-Güneş'in Dünya'nın etrafında dönmediğini Dünya'nın hatta gezegenlerinde Güneş'in etrafında döndüğünü ileri süren kişi aşağıdakilerden hangisidir?

- A) Nikolaus Copernucus (Kopernik) B) Chrostopher Colombus (Kolomb)
C) Galileo Galilei (Galilo)

3-Dünya'nın şekli hangisine benzer?

- A) Üçgen B) Küre C) Kare



İcat ettiği teleskopla gök cisimlerini incelemiştir. Yaptığı gözlemlerle "Dünya ve diğer gezegenler, Güneş'in etrafında dönüyor." iddialarını desteklemiştir.

4-Yukarıdaki özellikler aşağıdakilerden hangisine aittir?

- A) Nikolaus Copernicus (Kopernik) B) Galileo Galilei (Galilo)
C) Ferdinand Magellean (Macellan)

5-Bir çiçeğin ya da bir parfümün kokusunu hangi duyu organımızla hissederiz?

- A) Kulak B) Burun C) Deri

6-Hangi duyu organımız vücudumuzun tüm dış yüzeyini kaplamıştır?

- A) Gözümüz B) Derimiz C) Kulağımız

7-Aşağıda verilenlerden hangisi duyu organlarımızdan biri değildir?

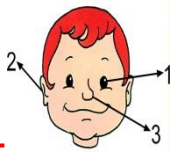
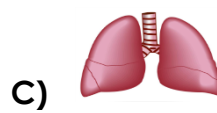
- A) Mide B) Dil C) Göz

Çok gürültülü ortamlar sağlığımıza zarar verir.

8-Yukarıdaki cümlede boş bırakılan yere aşağıdakilerden hangisi yazılırsa doğru olur?

- A) kulak B) göz C) burun

9-Aşağıda resimleri verilen organlarımızdan hangisi bir duyu organımıza aittir?



Yanda kaç numara ile gösterilen duyu organımızla etrafımızdaki nesnelere görebiliriz?

- A) 1 B) 2 C) 3

HAYAT BİLGİSİ

"Ada, okuldan ağlayarak eve gelmişti. Halk oyunları dersinde öğretmenin gösterdiği hareketleri tam olarak yapamamıştı. Arkadaşları Ada, ile alay etmişlerdi."



1-Yukarıdaki parçada yanlış olan davranış hangisidir?

- A) Ada'nın ağlaması B) Ada'nın halk oyunlarına katılması
C) Arkadaşlarının Ada ile dalga geçmesi

“Bütün insanların güçlü ve zayıf yönleri birbiri ile”

2-Yukarıdaki cümlede boş bırakılan yere hangisi gelmelidir?

- A) aynı olmalıdır B) farklı olabilir C) benzer olmalıdır

3-Aşağıdakilerden hangisi doğru davranıştır?

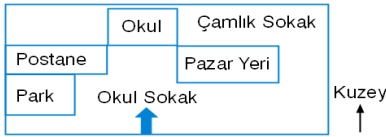
- A) Ataberk, arkadaşını oyunda ağlattı ve ona güldü.
B) Azra, arkadaşının sırrını başkası ile paylaştı.
C) Emrullah, oyunda kendisini yenen arkadaşlarını tebrik etti.

4-Olumsuz bir durum karşısında hangi arkadaşımız gibi davranmalıyız?

- A) Sarp: Arkadaşıma bağırırım.
B) Miray: Arkadaşıma küserim, bir daha onunla konuşmam.
C) Can: Arkadaşıma hatasını söylerim.

5-Aşağıdakilerden hangisi olumlu davranış değildir?

- A) Aden, asla yalan söylemez. B) Belinay, girdiği oyunları bozar.
C) Ali Umut, arkadaşları ile alay etmez.



6-Krokiye göre postane, parkın neresindedir?

- A) Kuzeyinde B) Güneyinde C) Doğusunda

Bir yerin kuş bakışı görünüşünün göz kararı ile küçültülerek kâğıt üzerine çizilmesine denir.

7-Yukarıdaki ifadede boş bırakılan yere aşağıdakilerden hangisi gelmelidir?

- A) kroki B) plan C) harita



“Okullarda yapılan eğitsel sosyal ve kültürel faaliyetler toplumdaki insanlara da faydalı olur.

8-Aşağıdaki etkinliklerden hangisi bu ifadeyi destekleyen bir örnektir?

- A) Okulun çevresinde pazar kurulması B) Okulun çevresine kırtasiye açılması
C) Okul öğrencilerinin kampanya düzenleyerek okulun etrafına geri dönüşüm kutuları koymaları

“SAĞLAM KAFA, SAĞLAM VÜCUTTA BULUNUR!”

“ İ Y İ T A T İ L L E R ”

