



2. Sınıf Onluęa Yuvarlamaya Hazırlık Çalıřması

Ařaęıda verilen sayıların hangi iki onluk arasında olduklarını sayı doğrusunda gösterin.


48: sayısı 4 onluk ve 0 birlik olan 40 sayısı ile bir sonraki 5 onluk , 0 birlik sayısı olan 50 arasındadır.




34 sayısı hangi onluklar arasındadır?



65 sayısı hangi onluklar arasındadır?




19 sayısı hangi onluklar arasındadır?



86 sayısı hangi onluklar arasındadır?



45 sayısı hangi onluklar arasındadır?




28 sayısı hangi onluklar arasındadır?




92 sayısı hangi onluklar arasındadır?

44 sayısı hangi onluklar arasındadır?



27 sayısı hangi iki onluk arasındadır?




79 sayısı hangi onluklar arasındadır?



68 sayısı hangi onluklar arasındadır?



77 sayısı hangi onluklar arasındadır?



53 sayısı hangi onluklar arasındadır?

