

 <p>Cevap:</p>	 <p>Cevap:</p>
 <p>Cevap:</p>	 <p>Cevap:</p>
 <p>Cevap:</p>	 <p>Cevap:</p>
 <p>Cevap:</p>	 <p>Cevap:</p>

TATİL

İYİ TATİLLER

KİTABI



www.slaytyerim.com



KIŞ



Ah şu kar olmasa kış mevsimini kim sever? Kim katlanır soğuğuna? Kim katlanır çilesine? Kış mevsimi başlar başlamaz beni bir karamsarlık sarar. Serçeler, kargalar, kumrular gelir aklıma. İçim sızlar, gözlerim dolar. Sonra lapa lapa yağan kar gelir aklıma. Karamsarlığım geçer, Yüreğim pır pır eder. Kendimi kar giysilerimle hayal ederim hemen. Başımda halamın ördüğü ponponlu berem. Ellerimde çiçekli böcekli yün eldivenlerim. Ayaklarımda çok sevdiğim çizmelerim. Boynumda ucu püsküllü atkı...Tabi ki kapımızın önünde kardeşimle yaptığımız kardan adam. Kömürden gözleri, havuçtan burnuyla gülümsüyor yüzüme. Pek yakışmış kolundaki süpürge.
-Teşekkür ederim, diyor. Eriyene dek iyi bak bana.
Ah, şu kar olmasa sever miyim seni kış.

Metin Türkçe defterine yazılacak En az 3 kez okunacak.

Soru 1) Metnin başlığını yazınız.
.....

Soru 2) Metnin başlığı kaç hece ?
.....

Soru 3) Metnin başlığı kaç sözcük ?
.....

Soru 4) kar olmazsa hangi mevsimi sevmezmiş ?
.....

Soru 5) kış mevsimi başlar başlamaz kendini ne sararmış ?
.....

Soru 6) Kış gelince aklına hangi kuşlar gelirmiş ?
.....

Soru 7) başındaki ponponlu bereyi kim örmüş ?
.....

Soru 8) yün eldivenleri nasılmış ?
.....

Soru 9) Boynundaki atkı nasılmış ?
.....

Soru 10) kardan adam neredeymiş ?
.....

Soru 1) Aşağıda verilen sözcüklerin eş anlamlarını (anlamdaş) yanına yazınız.

FEZA		HATIRA	
KENT		İMKAN	
ŞEREF		TUTSAK	
ZIT		MUTLU	
ALFABE		BASİT	
DÜŞÜNCE		DÖRTLÜK	
ELBİSE		ŞAİR	
ETRAF		SENE	
DARGIN		ASİL	
LİSAN		SEYAHAT	
MÜKAFAT		YURT	
KANUN		ULUS	

Soru 2) Aşağıda verilen sözcüklerin zıt (karşıt) anlamlarını yanına yazınız.

SİYAH		AŞAĞI	
YANLIŞ		DOĞU	
KURU		YALITKAN	
GECE		KIŞ	
SABAH		ÇÜRÜK	
AÇIK		USLU	

Soru 3) Aşağıda verilen sözcükleri sözlük sırasına koyunuz.

Hasat – hazan – güz - sonbahar
1)
2)
3)
4)

Gazete – haber – gazi - hasta
1)
2)
3)
4)



Soru 1) 4 bardak 1 şişeyi dolduruyor. 2 şişe ise 1 sürahiyi doldurduğuna göre 1 sürahi kaç bardak su alır ? (**Şekil çizilecek.**)

Soru 2) 5 bardak 1 şişeyi dolduruyor. 3 şişe ise bir sürahiyi doldurmaktadır. Buna göre 2 sürahi kaç bardak su alır ? (**Şekil çizilecek.**)

Soru 3) 2 bardak 1 şişeyi doldurmaktadır. 4 şişe ise 1 sürahiyi doldurmakta. Buna göre 3 sürahi kaç bardak su ile dolar ? (**Şekil çizilecek.**)

Soru 4) 3 bardak su 1 şişeyi dolduruyor. 3 şişe ise 1 sürahiyi doldurmaktadır. Buna göre 2 sürahi kaç bardak su ile dolar ? (**Şekil çizilecek.**)

Soru 5) 4 bardak su 1 şişeyi dolduruyor. 4 şişe su ise 1 sürahiyi doldurduğuna göre 1 sürahi kaç bardak su alır ? (**Şekil çizilecek.**)

DİKKAT GELİŞTİRME SORULARI			
5, 6, 8, 12, 3, 7	1, 2, 4, 10, 11, 9	12, 5, 7, 4, 11, 10	8, 6, 3, 9, 1, 2
1) Aradığımız sayının bulunduğu kutuda 9 sayısı yoktur. Bu sayı bulunduğu kutunun ilk üç sayısından birisidir. Bu sayı aşağıdakilerden hangisi olabilir? a) 8 b) 3 c) 4 d) 11		2) Aradığımız sayı 3 sayısının bulunduğu kutudadır. Bu sayı bulunduğu kutunun son üç sayısından birisidir. Bu sayı aşağıdakilerden hangisi olabilir? a) 12 b) 11 c) 8 d) 9	
4, 11, 3, 12, 1, 7	2, 6, 10, 5, 8, 9	7, 10, 2, 3, 4, 11	9, 5, 1, 8, 12, 6
3) Aradığımız sayı 3 sayısının bulunduğu kutudadır. Bu sayı bulunduğu kutunun son üç sayısından birisi değildir. Bu sayı aşağıdakilerden hangisi olabilir? a) 4 b) 12 c) 10 d) 5		4) Aradığımız sayı sağ kutuda değildir. Bu sayı bulunduğu kutunun ilk üç sayısından birisidir. Bu sayı aşağıdakilerden hangisi olabilir? a) 2 b) 3 c) 5 d) 8	
Bulduğün cevapların toplamı 23 ise başarıdır.			
Eğlenceli Çalışmalar 678 - Yunus KÜLCÜ			

■	-	2	=	12
✎	+	■	=	17
◇	-	✎	=	4
◇	+	▲	=	16
▲	+	5	=

8	+	▲	=	22
☆	+	▲	=	24
☆	-	◇	=	2
◇	-	✎	=	4
✎	+	4	=

Soru 1) $20 + 20 = 12 + \square$

Yukarıda verilen eşitliğe göre kutunun içine kaç yazılmalıdır ?

Soru 2) $12 + 3 + 2 = 9 + \triangle$

Yukarıda verilen eşitliğe göre üçgenin içine kaç yazılması gerekir ?

Soru 3) $4 + \star = 11 + 1$

Yukarıda verilen eşitliğe göre yıldızın içine kaç yazılması gerekir ?

Soru 4) $\text{😊} + 12 = 10 + 15$

Yukarıda verilen eşitliğe göre güler yüz kaç eşittir ?

Soru 5) $25 + 10 = \text{☾} + 18$

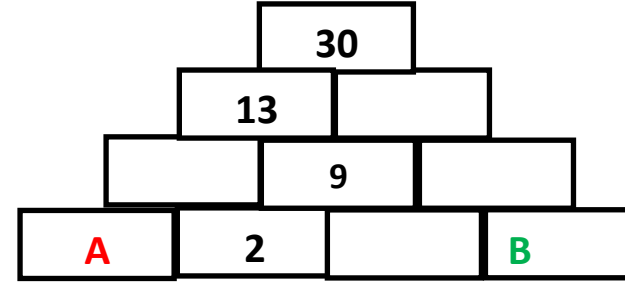
Yukarıda verilen eşitliğe göre ay kaç eşittir ?

SUDOKU

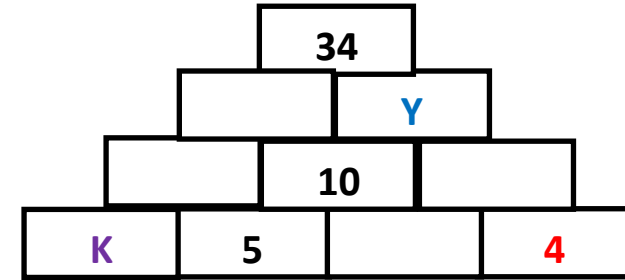
		3	
	3		
4	1	2	
3	2		4

4	2		
	1	4	
2		1	
		2	4

Soru 1) Aşağıdaki piramit toplamalardaki soruları çözünüz.



$A - B = ?$



$Y + K = ?$

GÜLERYÜZ

“ Dükkanları karşı karşıya olan iki balcı varmış. Bunlardan birisi dükkanında her zaman en iyi cins bal bulundurmuş. Karşı komşusu daha düşük kalitede bal sattığı halde dükkanı dolup boşalmış. Bizim ki ise boş oturup durmuş. Bu duruma çok üzülen balcı, kendisinin neden bu kadar çok satamadığına akıl sır erdiremiyor. Bir gün yaşlı ve bilgin bir kişiye durumu anlatmış. Bilge:

-Dostum, demiş, sen bal satıyorsun ama suratın sirke satıyor.”

Metin Türkçe defterine yazılacak. En az 3 kez okunacak.

SORULAR

Soru 1) Metnin başlığını yazınız.

Soru 2) Metnin başlığı kaç sözcüktür ?

Soru 3) Metnin başlığı kaç hecedir ?

Soru 4) İki dükkan ne satıyormuş ?

Soru 5) Karşı dükkandakinin balı nasılmış ?

Soru 6) Kimin dükkanı dolup dolup boşalıyormuş ?

Soru 7) Hangi balı satan dükkancı üzülüyormuş ?

Soru 8) Kim yaşlı ve bilgin birine durumunu danışmış ?

Soru 9) Bilge adam , dükkancıya ne öğüdü vermiş ?



ARMAĞAN

Eğe, müziği çok seven bir çocukmuş. Dinlediği türkü ve şarkıları belleğinde tutar, onları anne ve babasına söylermiş. Babası, müziğe karşı ilgisini sezdiği için ona mini bir piyano almaya söz vermiş.

—Ay başı olsun, maaşımı aldığımda sana küçük bir piyano alacağım demiş. Eğe, mini piyanoyu bir oyuncakçı dükkanında görmüş. Piyano bir kitapçığın içine yerleştirilmiş, her tuşun ayrı bir rengi varmış. Belirtilen renkteki tuşa basınca ezgi çıkıyormuş. Artık o da piyano tuşlarından ezgiler çıkarabilecekmış. Eğe, günlerin çabuk geçmesini bekler olmuş. Bu arada annesiyle sık sık tartışıyormuş. Çünkü Eğe tuvalete gitse tuvaletin, banyoya gitse banyonun musluğunu açık bırakıyormuş. Gerekmeyen elektrik düğmelerini kapatmıyor, elektriğin boşa harcanmasına neden oluyormuş. Annesi onun ardından düğmeleri, muslukları kapatıyor, bir yandan da yakınıyormuş.

—Eğe, muslukları ve elektrik düğmelerini niçin kapatmıyorsun? Sen çok savruk bir çocuk oldun. Suyumuzu ve elektriğimizi boşa harcıyorsun. Bu gidişle bu ay elektrik ve su faturamız çok kabarık gelecek.

Eğe, annesinin uyarılarına hiç aldırmıyormuş. Onun tek düşüncesi babasının alacağı mini piyano imiş. Sonunda aybaşı gelmiş. Postacı kapıyı çalarak o ayki elektrik ve su faturalarını bırakmış. Annesi faturayı görünce hayretler içinde kalmış. Ertesi gün mini piyano bekleyen Eğe bu kabarık faturalarla karşılaşmış. Babası:

—Mini piyanonun parasını elektrik ve su parasına vermek zorunda kaldım. Senin piyano da gelecek aya kaldı, demiş.

Eğe çok üzülmüş. Ondan sonraki günlerde elektrik düğmelerini açık bırakmamaya özen göstermiş. Öyle ki kardeşi bunları açık bıraksa bile o hemen kapatmış. Kimi zaman annesini bile uyarır olmuş. Tasarruf sonucu artan para ile piyanoyu almış.

Metin Türkçe defterine yazılacak. En az 3 kez okunacak.

Soru 1) Eğe neyi seven bir çocukmuş ?

Soru 2) Eğe müziği sevdiği için babası ona ne almaya söz vermiş ?

Soru 3) Eğe kimin uyarılarına hiç aldırmıyormuş ?

Soru 4) Postacı kapıyı çalarak neyi bırakmış ?

Soru 5) Babası kabarık elektrik ve su parasını ödedikten sonra piyano ne olmuş ?

KARNE

Müjdelerle karneyi,
Elimize verdiler,
Okuldan bir kuş gibi
Bizi salıverdiler.

Sesimiz çınlayacak
Bir ay kııda, denizde,
Kuş gibi sevinecek,
Şakiyacağız biz de!



Eşek Öldü

Hocanın eşiği ölmüş. Kapının eşiğine oturmuş, hüngür hüngür ağlıyormuş. Bir komşusu yaklaşarak:

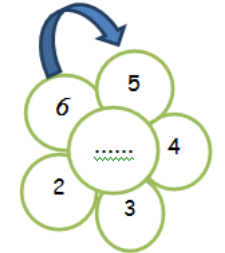
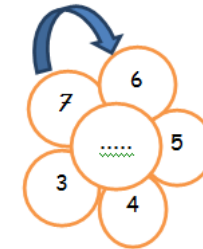
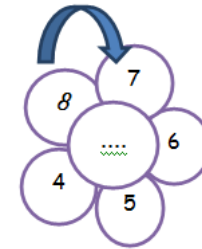
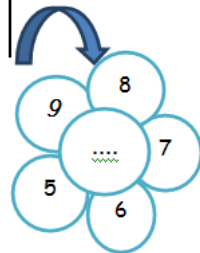
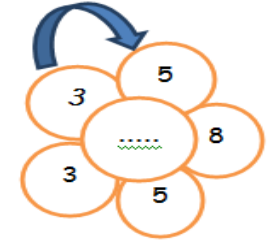
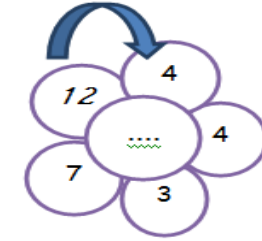
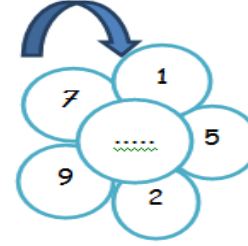
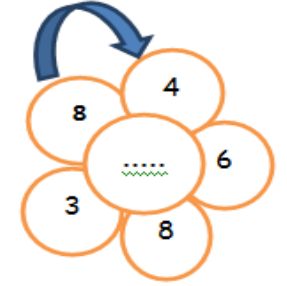
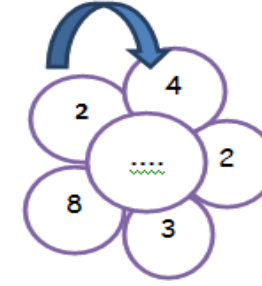
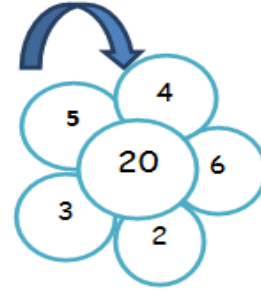
- A Hoca! Geçende karın öldü, ağlamadın. Bir eşek için ağlamak sana yakışır mı?



- Nasıl ağlamam! Karım ölünce eş, dost hepiniz etrafımı aldınız, üzülme biz sana daha iyisini buluruz dediniz. Ama biri çıkıp da; Hoca ağlama, sana daha iyi bir eşek alırsız demedi!!!


Şiir ve fıkra Türkçe defterine yazılacak. Şiir ezberlenecek. Fıkra sınıfta anlatılacak. Resim Güzelce kuru boya ile boyanacak.



ÇİÇEKLI TOPLAMA İŞLEMİ



14	12	6	4					130	132	
16	10	8	2				126	128	134	
18	20	38	40				124	122	136	
24	22	36	42	44	106	108	118	120	138	
26	32	34	48	46	104	110	116	142	140	
28	30	52	50	100	102	112	114	144	146	
66	64	54	56	98	164	162	160	158	148	
68	62	60	58	96	166	168	170	156	150	
70	72	90	92	94	200	198	172	154	152	
76	74	88					196	174	180	182
78	84	86				194	176	178	184	
80	82					192	190	188	186	



Soru 1) İçinde **TOPLULUK ADI GEÇEN** 3 cümle yazınız.

1)

2)

3)

Soru 2) İçinde **BİRLEŞİK KELİME OLAN** 3 cümle yazınız.

1)

2)

3)

Soru 3) İçinde **SESTEŞ (EŞ SESLİ) KELİME GEÇEN** 3 cümle yazınız.

1)

2)

3)

Soru 1) 3 tane **DEVİRİK CÜMLE** yazınız.

1)

2)

3)

Soru 4) 3 tane **SORU CÜMLE** yazınız.

1)

2)

3)


Soru 5) 3 tane **ÜNLEM CÜMLE** yazınız.

1)

2)

3)

ö



KOYUN	KEÇİ	İNEK	MARTI
AYI	SİNCAP	FİL	DEVE
SERÇE	KARTAL	PELİKAN	AKREP
ASLAN	KAPLAN	LEOPAR	TAVŞAN

Soru 1) Kartalın sağıında hangi canlılar var ?

Soru 2) Filin önünde hangi canlılar var ?

Soru 3) Kaplanın önünde hangi canlılar var ?

Soru 4) Keçinin solunda hangi canlılar var ?

Soru 5) Devenin önünde hangi canlılar var ?

Soru 6) Sincabın sağıında hangi canlılar var ?

Soru 7) Kartalın arkasında hangi canlılar var ?

Soru 8) Ayının solunda hangi canlılar var ?

Soru 9) Serçenin önünde hangi canlılar var ?

Soru 10) Pelikanın arkasında hangi canlılar var ?

Soru 1) Bir toplama işleminde 1. Toplanan kırka yuvarlanan en küçük sayıdır. Toplam ise 3 birlik 6 onluk olduğuna göre 2. Toplananın birler basamağının basamak değeri kaç eşittir ? **(Terim adları yazılacak.)**

Soru 2) 4 bardak 1 şişeyi dolduruyor. 3 şişe 1 sürahiyi dolduruyor. 2 sürahiyi kaç bardak doldurur ? **(Şekil çizilecek.)**

19 24 29 **K** 39 44 **M**

Soru 3) Yukarıda verilen örüntüye göre $M + K = ?$

Soru 4) Bir çıkarma işleminde kalan 9 birlik 2 onluktur. Eksilen 3 düzine olduğuna göre çıkan kaç eşittir ? **(Terim adları yazılacak.)**

Soru 5) Emre 'nin yaşı 1 desteden 2 eksiktir. Ablası Miray 'ın yaşı ise Emre 'nin yaşının 3 fazlasıdır. Kardeşlerin yaşları toplamını bulunuz.

Soru 6) Yusuf 2 birlik 5 onluk sayfası olan bir kitap aldı. Pazartesi günü 15 sayfasını okudu. Salı günü de 19 sayfasını okudu. Yusuf 'un okuyacağı kaç sayfa kaldı ?

Soru 1) Ecrin ' in yaşı 2 birlik 1 onluktur. Ablası Sema ' nın yaşı Ecrin ' in yaşının 4 fazlasıdır. İki kardeşin yaşları toplamını bulunuz.

Soru 2) Simitçi Mustafa , sabah 15 simit sattı. Öğlen ise sabah sattığı simit sayısından 7 fazla simit sattı. Mustafa gün boyunca toplam kaç simit sattı ?



Soru 3) Çiçekçi Rabia pazartesi günü 17 lale sattı. Salı günü ise pazartesi günü sattığından 5 fazla lale sattı. Çiçekçi Rabia iki gün boyunca toplam kaç lale sattı ?

Soru 4) Şoför Leman ' ın dolmuşunda 16 yolcu var. Durakta dolmuştaki yolcu sayısından 8 fazla yolcu bindi. Şoför Leman ' ın dolmuşunda toplam kaç yolcu oldu ?



Soru 5) Öğrenci Bedia , sabah 5 ceviz yedi. Öğlen ise sabah yediği ceviz sayısından 3 fazla ceviz yedi. Öğrenci Bedia gün boyunca toplam kaç ceviz yedi ?

1. İki hafta önce ilk kez uçağa bindim.
2. İki yıl önce yaz tatilinde yüzmeyi öğrendim.
3. Halamın düğününde iki yaşındaymışım.

Gülçin yaşadıklarını yukarıdaki gibi anlamış.

8 - Gülçin'in anlattıklarından hangisi diğerlerinden sonra gerçekleşmiştir?

- A) 1 B) 2 C) 3

Hastanede muayene olduktan sonra eczaneye gidip ilaçlarımı aldık ve eve döndük.

Soru 9 - Bu cümlede hangi olay diğerlerinden önce gerçekleşmiştir?

- A) Eve dönmek B) Eczaneye gitmek C) Muayene olmak

- (1) Anneme söyledim.
- (2) Haftaya geziye gideceğiz.
- (3) İzin verdi çünkü daha önce de gitmiştik.

10 - Bu yazının kaç numaralı cümlesinde anlatılan olay henüz gerçekleşmemiştir?

- A) 1 B) 2 C) 3

1. Çantasından telefonunu çıkarıp eline aldı.
2. Önce ne yapacağını düşündü.
3. Annesini aradı ve bir süre sohbet etti.
4. Annesini araması gerekiyordu.

Soru 11 - Numaralandırılmış cümleleri olayın oluş sırasına göre sıraladığımızda doğru sıralama aşağıdakilerden hangisi olur?

- A) 1 – 2 – 3 – 4 B) 2 – 4 – 1 – 3 C) 3 – 1 – 2 – 4

Soru 12 - Aşağıdaki olaylardan hangisi henüz gerçekleşmemiştir?

- A) Bugün okula uğradım.
B) Saçlarını sarıya boyatmış.
C) Bu akşam sana uğrayacağım.

13 - Aşağıdaki cümlelerden hangisinde olayın en az iki kez gerçekleştiği kesindir?

- A) Bugün kırtasiyeye uğradım.
B) Okul gezimiz haftaya olacak.
C) Bugün de erkenden yattı.

Soru 14 - "Bugün okula gitmeden eve uğradım." cümlesindeki boş bırakılan yere aşağıdakilerden hangisi getirilmelidir?

- A) sonra B) ilk önce C) önce

Soru 1) Aşağıdaki cümlelerde yapılan yazım yanlışlarının doğrusunu yazınız.

Vindanın kedisi mırmıra Et verdim ?

yağmur ineğimiz sarıkıza ot Attı.

dedem pazardan Elma Erik armut ile Muz aldı ?

dayım Ahmet gül mahallesi dere caddesinde oturuyor.

evde cumhuriyet bayramını kutladık.

bize iki alman ile üç amerikalı misafir geldi.

dün gül ile bahçeye üç gül fidanı diktik.

Soru 2) Aşağıdaki sesteş kelimeleri iki ayrı cümlede farklı anlamlarda kullanınız.

DÜŞ

1)

2)

ÇAY

1)

2)

KAÇ

1)

2)

YEDİ

1)

2)

YEMEKHANE SIRASI

Soruları çözerken şekil çizerek çözüme daha kolay ulaşabilirsin.

Yemekhane sırasında 8 öğrenci bulunmaktadır. Deniz sondan 3. sırada, Bünyamin 2. sırada, Nisanur son sırada, Şükriye 7. sırada, Ömer sondan 5. sırada, Zeynep sondan 8. sırada, Yunus ise 3. sırada bulunmaktadır. Buna göre Kayra kaçınıcı sıradadır?



Yemekhane sırasında 8 öğrenci bulunmaktadır. Ömer 3. sırada, Nisanur 4. sırada, Tanık 2. sırada, Ertuğrul sondan 3. sırada, Kayra 8. sırada, Mete 7. sırada, Kerem ise 5. sırada bulunmaktadır. Buna göre Yunus kaçınıcı sıradadır?



Soru 1) Hira ' nın 20 tokası var. Bu tokaların 11 tanesi kırmızı , 5 tanesi siyah renklidir. Geri kalanları mavi olduğuna göre Hira ' nın mavi renkli tokasının sayısını bulunuz.

Soru 2) Ecrin ' in yaşı yirmiye yuvarlanabilen en küçük sayıdan 3 eksiktir. Ablası Sema ' nın yaşı ise Ecrin ' in yaşının 5 fazlasıdır. Kardeşlerin yaşları toplamını bulunuz.

Soru 3) Şoför Hatice ' nin dolmuşunda 3 birlik 1 onluk sayıyı kadar yolcu var. Durakta , dolmuştaki yolcu sayısından 18 fazla yolcu bindi. Şoför Hatice ' nin dolmuşunda toplam kaç yolcu oldu ?

AŞAĞIDAKİ ÖRÜNTÜLERİ DEVAM ETTİRİNİZ.

91	88	85			
----	----	----	--	--	--

9	14	19		29	
---	----	----	--	----	--

70	69	68	67	66	
----	----	----	----	----	--

28	29	30		32	
----	----	----	--	----	--

14	18	22	26		
----	----	----	----	--	--

74	71	68	65	62	
----	----	----	----	----	--

18	23	28	33	38	
----	----	----	----	----	--

74	73	72		70	
----	----	----	--	----	--

88	85	82	79	76	
----	----	----	----	----	--

22	27	32	37		
----	----	----	----	--	--

55	54	53		51	
----	----	----	--	----	--

BİLMECELER

Kuyruğu var, at değil. Kanadı var, kuş değil.

.....

Dışı var, içi yok; Tekme yer, suçu yok.

.....

Benim bir hayvanım var kuyruğundan uzun burnu var.

.....

Ne kanı var ne canı, beş tanedir parmağı.

.....

Kanadı var, kuş değil. Boynuzu var, koç değil.


.....

**Gelişi aslan gibi, duruşu kaplan gibi,
yayılr hasır gibi, sürünür esir gibi.**

.....

Üstü mermer altı mermer, içinde gelin oynar.

.....





10 - = 1 + = 7

6
=
-
7
=
+
3
=
- 8 = + 7 =

4
+
=
9
-

A central illustration of a rabbit sitting in a striped basket, wearing a floral hat. The rabbit is surrounded by a grid of math problems. Four arrows point outwards from the grid: up, down, left, and right.

JOGOS FÉRIAS



GİZLİ KUTULAR (SONUCU 8)

$3 + 4$	$2 + 4$	$11 - 1$	$2 + 4$	$10 - 1$	$11 - 2$	$15 - 5$
$12 - 6$	$3 + 5$	$6 + 3$	$13 - 6$	$4 + 2$	$5 + 7$	$9 - 3$
$1 + 4$	$7 - 3$	$6 + 4$	$5 - 1$	$2 + 7$	$7 + 2$	$10 - 3$
$5 + 6$	$2 + 3$	$7 + 2$	$10 - 2$	$6 + 3$	$4 + 4$	$7 + 3$
$13 - 6$	$14 - 9$	$14 - 3$	$14 - 4$	$4 + 6$	$13 - 1$	$7 + 1$
$3 + 1$	$12 - 7$	$7 + 3$	$13 - 9$	$2 + 6$	$16 - 4$	$4 + 5$

Bu işlem kutularının arasında sonucu 8 olan 5 kutu gizlenmiştir. Bu kutuları bulabilir misin?

GİZLİ KUTULAR (SONUCU 8)

$13 - 4$	$14 - 5$	$4 + 2$	$4 + 4$	$7 + 3$	$6 + 4$	$12 - 1$
$6 + 6$	$5 + 7$	$10 - 5$	$12 - 7$	$16 - 4$	$15 - 3$	$11 - 1$
$14 - 3$	$2 + 5$	$7 + 4$	$6 + 3$	$15 - 6$	$5 + 6$	$7 - 3$
$12 - 3$	$16 - 7$	$10 - 5$	$1 + 4$	$10 - 1$	$15 - 6$	$11 - 3$
$2 + 4$	$10 - 3$	$12 - 3$	$5 + 3$	$12 - 1$	$14 - 7$	$1 + 3$
$13 - 5$	$3 + 3$	$2 + 3$	$6 - 1$	$5 + 2$	$7 + 2$	$5 + 3$

Bu işlem kutularının arasında sonucu 8 olan 5 kutu gizlenmiştir. Bu kutuları bulabilir misin?

Soru 1) Aşağıda yanlış yazılan tümcelerin doğrusunu altına yazınız. hakkı Okul ' da ödevini yapmış.

.....
Kemalin Dayı ' sı kedileri silgiye Kulübe yapacak.

.....
Ahmetin dede ' si ekmek sokak lokma apartmanında oturur ?

.....
Eşğimiz nohut Yüklerimizi taşır.

.....
Feride Anne , Eşğimiz nohuta binip tarlaya Nohut ekmeye gitti.

.....
Ali dayım süpriz yapmayı sever .

.....
Aysun kipriklerini maviye boyadı mı ?

.....
Şöför Hasanın yanında çırak Mustafa vardı.

.....
Emine biraz su getirirmi sin ?

.....
Öretmen Nuri tahtaya penbe kalem ile Yazmış.

.....
Anne , ödevimi yapmaya yardım edermisin .

.....
Tülay diyarbakıra Arabayla gideceK miş ?

.....
Kolejlerde okuyanlar her hafta Deneme Sınavımı yapıyor .

.....
Dün okulun Dört Topumu kaybolmuş .

