

TÜRKÇE

- Verilen boşluklara alfabemizi yazınız ve kelimeleri alfabetik sıraya göre sıralayınız.

A - - - - - - - - - - - -
 - - - - - - - - - - - -
 - Z

elmas 1.
 elma 2.
 ela 3.
 elli 4.

arkadaş 1.
 arma 2.
 aslan 3.
 avcı 4.

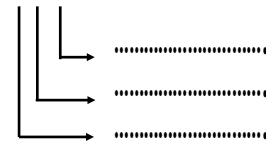
leyla 1.
 limon 2.
 leylek 3.
 lila 4.

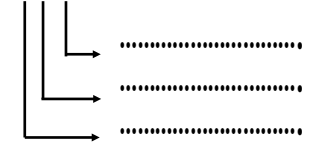
MATEMATİK

Sayıların okunuşlarını yazınız.

251:
 307:
 984:
 750:

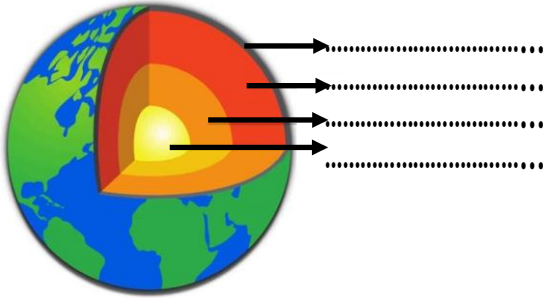
Sayıların basamak adı ve basamak değerini yazınız.

875 Basamak Adı


451 Basamak Değeri


FEN BİLİMLERİ

- Dünyamızın katmanlarını yazınız.



- Verilen bilgilerin Dünyanın hangi katmanına ait olduğunu yazınız.

En sıcak katmandır.
 Canlılar üzerinde yaşar.
 Erimiş kayalardan oluşur.

HAYAT BİLGİSİ

- Zeynep geçen sene saçlarını kendisi toplamıyorken bu sene toplayabiliyor. Buna göre Zeynep için hangisi söylenebilir?

A) Beceri kaybetmiştir.
 B) Çok yeteneklidir.
 C) Kendini geliştirmiştir.

- Aşağıdaki değerlerden hangisi arkadaşlık ilişkilerimizi olumsuz etkiler?

A) Bencillik B) Yardımseverlik
 C) Hoşgörü

TÜRKÇE

- Aşağıdaki kelimeleri hecelerine ayırınız.

papatya →

başöğretmen →

hanımeli →

bilgisayar →

çörekotu →

renk →

- Aşağıdaki kelimeler hecelerine doğru ayrıldıysa maviye yanlışa maviye boyayınız.

.....asla-
nağzı.....

.....süra-
hi.....

.....,o-
tobüs.....

.....,kırn-
ızl.....

MATEMATİK

- Sayıları en yakın onluğa yuvarlayınız.

245 →

128 →

834 →

792 →

- Sayıları en yakın yüzlüğe yuvarlayınız.

631 →

794 →

236 →

487 →

- Sayıları karşılaştırıp aralarına uygun sembolü koyunuz

521 685

701 700

658 651

849 849

FEN BİLİMLERİ

- Duyu organlarımızın adlarını ve görevlerini yazınız.

Adı:



Görevi:

.....

.....

.....

.....

.....

.....

.....

.....

.....

.....

HAYAT BİLGİSİ

- Bir yerin kuşbakışı görüntüsünün kabataslak biçimde kağıda aktarılmasına ne ad verilir?

A) Harita

B) Navigasyon

C) Kroki

- Aşağıdakilerden hangisi okulun bize olan katkılarından biridir?

A) Okula gitmek zaman kaybıdır.

B) Okul bizi geleceğe hazırlar.

C) Okul sosyalleşmemizi engeller.

TÜRKÇE

- Aşağıdaki kelimelerin zıt anlamlılarını karşılıklarına yazınız.

uzun X

geniş X

yaz X

barış X

açık X

tek X

korkak X

küçük X

çalışkan X

soru X

siyah X

şişman X

MATEMATİK

- Örüntüleri tamamlayınız.

45 - 47 - - 51 -

98 - - 90 - 86 -

..... - 25 - 32 - - 46

84 - 87 - 86 - - 88

..... - 50 - - 60 - 65

- Tek mi, çift mi? Yazınız.

54 →

701 →

698 →

325 →

540 →

- Romen rakamlarıyla verilen sayıları yazınız.

VI →

III →

XV →

XIV →

XX →

FEN BİLİMLERİ

- Görsellerdeki varlıkların hareket türlerini yazınız..



.....



.....



.....



.....



.....

HAYAT BİLGİSİ

- Demokratik bir sınıf ortamı nasıl olmalıdır?

- Kararları müdür vermelidir.
- Kararları öğretmen vermelidir.
- Kararları öğrenciler ve öğretmen birlikte vermelidir.

- Kaynakları bilinçli kullanmaya dikkat eden Faruk aşağıdakilerden hangisini yapmaz?

- Kullanılmayan odadaki ışığı söndürür.
- Kalorifer yanarken pencereyi açar.
- Ellerini yıkadıktan sonra musluğu kapatır.

TÜRKÇE

- Aşağıdaki kelimelerin eş anlamlılarını karşılıklarına yazınız.

sulh =

harp =

al =

ak =

tayyare =

kent =

öğüt =

ad =

öykü =

soru =

esir =

basit =

MATEMATİK

- Aşağıdaki toplama işlemlerini yapınız.

$$\begin{array}{r} 412 \\ + 185 \\ \hline \end{array}$$

.....

$$\begin{array}{r} 741 \\ + 239 \\ \hline \end{array}$$

.....

$$\begin{array}{r} 578 \\ + 325 \\ \hline \end{array}$$

.....

$$\begin{array}{r} 581 \\ + 196 \\ \hline \end{array}$$

.....

$$\begin{array}{r} 354 \\ + 289 \\ \hline \end{array}$$

.....

$$\begin{array}{r} 320 \\ + 328 \\ \hline \end{array}$$

.....

- Aşağıdaki toplama işlemlerinde verilmeyen toplananları bulunuz.

$$\begin{array}{r} \\ + 542 \\ \hline 898 \end{array}$$

$$\begin{array}{r} 152 \\ + \\ \hline 189 \end{array}$$

$$\begin{array}{r} 262 \\ + \\ \hline 320 \end{array}$$

$$\begin{array}{r} \\ + 204 \\ \hline 681 \end{array}$$

FEN BİLİMLERİ

- Aşağıdaki boşlukları uygun kelimelerle doldurunuz.

⇒ Lastik bir maddedir.

⇒ Kırılgan maddeye örnek verilebilir.

⇒ Pürüzlü maddeye örnek verilebilir.

⇒ yumuşak bir maddedir.

ceviz

pamuk

esnek

cam

HAYAT BİLGİSİ

- Çiçeklerin ve ağaçların bakımını yapan meslek aşağıdakilerden hangisidir?

A) Mimar B) Bahçıvan C) Polis

- Aşağıdaki mesleklerden hangisi sağlık alanında çalışmamaktadır?

A) Hemşire B) Doktor C) Mühendis

- Anneannemiz aşağıdaki oyunlardan hangisini oynamış olabilir?

A) Saklambaç

B) Yapboz

C) Bilgisayar oyunu





TÜRKÇE

- Aşağıda verilen eş sesli kelimeleri iki farklı anlamıyla cümle içinde kullanınız.

kaz

.....

.....

ocak

.....

.....

yaz

.....

.....

kara

.....

.....

MATEMATİK

- Aşağıdaki çıkarma işlemlerini yapınız.

$$\begin{array}{r} 541 \\ - 278 \\ \hline \end{array}$$

.....

$$\begin{array}{r} 740 \\ - 165 \\ \hline \end{array}$$

.....

$$\begin{array}{r} 329 \\ - 85 \\ \hline \end{array}$$

.....

$$\begin{array}{r} 715 \\ - 198 \\ \hline \end{array}$$

.....

$$\begin{array}{r} 822 \\ - 415 \\ \hline \end{array}$$

.....

$$\begin{array}{r} 653 \\ - 474 \\ \hline \end{array}$$

.....

- Aşağıdaki çıkarma işlemlerinde verilmeyen eksilen ve çıkanları bulunuz.

$$\begin{array}{r} \text{.....} \\ - 258 \\ \hline 412 \end{array}$$

$$\begin{array}{r} 985 \\ - \text{.....} \\ \hline 710 \end{array}$$

$$\begin{array}{r} \text{.....} \\ - 321 \\ \hline 256 \end{array}$$

$$\begin{array}{r} 532 \\ - \text{.....} \\ \hline 95 \end{array}$$

FEN BİLİMLERİ

- Aşağıdaki verilen ifadeler doğru ise 'D', yanlış ise 'Y' yazınız.

Tehlikeli maddeleri solumamızı engellemek için eldiven takmalıyız.

Kesici aletlerle oynamamalıyız.

Bilmediğimiz maddelerin ne olduğunu anlamak için tadına bakmalıyız.

Tehlikeli madde sembollerinin anlamlarını bilmeliyiz.

HAYAT BİLGİSİ

- Aşağıdaki atasözlerinden hangisi komşuluğun önemini anlatmaz?

- A) Ev alma, komşu al.
B) Komşu komşunun külüne muhtaçtır.
C) Gülme komşuna, gelir başına.

Eylül doğum günü için arkadaşlarına evinin adresinin yazılı olduğu kart hazırlamıştır. Hangi bilgi bu kartta yazmaz?

- A) Sokak adı B) Telefon numarası
C) Daire numarası





TÜRKÇE

- Aşağıdaki cümlede parantez ile belirtilen yerlere uygun noktalama işaretini koyunuz.

Ödevini bilgisayarda yapıyor()

Akşama kimler gelecek ()

Eski resimlere() eşyalara baktık()

Hey () yavaş git()

Pelin()in abisi İstanbul()da okuyor()

En sevdiğim renkler()kırmızı() mor() sarıdır()

Dr()Selin Hanım burada mı()

Tüh() Treni kaçırdık()

MATEMATİK

- Aşağıdaki çarpma işlemlerini yapınız.

$$\begin{array}{r} 47 \\ \times 3 \\ \hline \end{array}$$

.....

$$\begin{array}{r} 28 \\ \times 6 \\ \hline \end{array}$$

.....

$$\begin{array}{r} 412 \\ \times 2 \\ \hline \end{array}$$

.....

$$\begin{array}{r} 185 \\ \times 4 \\ \hline \end{array}$$

.....

$$\begin{array}{r} 321 \\ \times 3 \\ \hline \end{array}$$

.....

$$\begin{array}{r} 108 \\ \times 7 \\ \hline \end{array}$$

.....

$$\begin{array}{r} 21 \\ \times 12 \\ \hline \end{array}$$

$$\begin{array}{r} 34 \\ \times 25 \\ \hline \end{array}$$

$$\begin{array}{r} 29 \\ \times 16 \\ \hline \end{array}$$

$$\begin{array}{r} 42 \\ \times 20 \\ \hline \end{array}$$

$$\begin{array}{r} 19 \\ \times 15 \\ \hline \end{array}$$

$$\begin{array}{r} 34 \\ \times 23 \\ \hline \end{array}$$

FEN BİLİMLERİ

- Aşağıda verilen maddelerin bulunduğu hali yazınız. (katı, sıvı, gaz)



.....



.....



.....



.....



.....



.....

HAYAT BİLGİSİ

- 3. Sınıfa giden Umut'un evdeki sorumlulukları arasında aşağıdakilerden hangisi yoktur?

- A) Yatağını toplamak
- B) Faturaları ödemek
- C) Sofranın kurulmasına yardım etmek

•

- Teknoloji ile ilgili verilen bilgilerden hangisi doğrudur?

- A) Hayatımızı kolaylaştırır.
- B) Teknolojinin gelişimi durmuştur.
- C) Teknoloji doğru kullanılırsa faydalıdır.



TÜRKÇE

- Aşağıdaki cümleleri inceleyiniz yanına 'karşılaştırma' ya da 'neden-sonuç' ifadelerinden uygun olanını yazınız.

Hayvanların en uzununu zürafadır. (.....)

Kardan dolayı yollar kapandı. (.....)

Hale, Şule'den daha başarılı. (.....)

Çok gürültülü olduğu için buradan ayrılıyorum. (.....)

MATEMATİK

- Aşağıdaki bölme işlemlerini yapınız.

$$\begin{array}{r} 64 \overline{) 8} \\ \underline{} \\ \end{array}$$

$$\begin{array}{r} 29 \overline{) 4} \\ \underline{} \\ \end{array}$$

$$\begin{array}{r} 72 \overline{) 9} \\ \underline{} \\ \end{array}$$

$$\begin{array}{r} 28 \overline{) 3} \\ \underline{} \\ \end{array}$$

$$\begin{array}{r} 56 \overline{) 7} \\ \underline{} \\ \end{array}$$

$$\begin{array}{r} 49 \overline{) 6} \\ \underline{} \\ \end{array}$$

$$\begin{array}{r} 56 \overline{) 2} \\ \underline{} \\ \end{array}$$

$$\begin{array}{r} 84 \overline{) 4} \\ \underline{} \\ \end{array}$$

$$\begin{array}{r} 93 \overline{) 5} \\ \underline{} \\ \end{array}$$

$$\begin{array}{r} 85 \overline{) 3} \\ \underline{} \\ \end{array}$$

$$\begin{array}{r} 77 \overline{) 6} \\ \underline{} \\ \end{array}$$

$$\begin{array}{r} 45 \overline{) 3} \\ \underline{} \\ \end{array}$$

FEN BİLİMLERİ

- Aşağıdaki ışık kaynaklarının altına 'doğal ışık' ve 'yapay ışık' ifadelerinden uygun olanını yazınız.



.....

.....

.....

.....

.....

.....

HAYAT BİLGİSİ

- Alışverişe giden Yasemin aşağıdakilerden hangisine dikkat etmelidir?

- A) TV'de reklamı olan ürünleri almalıdır.
- B) Paketi renkli olan ürünleri almalıdır.
- C) Üzerinde TSE damgası olan ürünleri almalıdır.

- Aralık ayında manavdan meyve alma- ya giden Öykü aşağıdakilerden hangisini almamalıdır?

- A) Portakal
- B) Çilek
- C) Ayva

