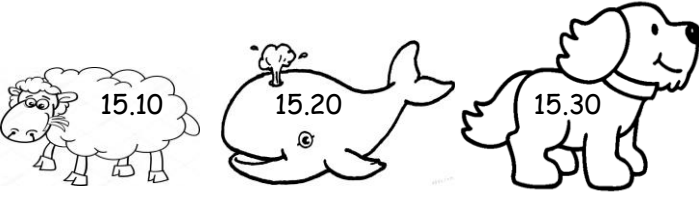


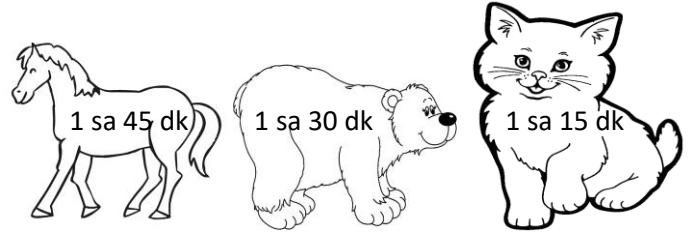
## 3.SINIF MATEMATİK "OLAYLARIN OLUŞ SÜRELERİ"

Aşağıdaki verilen olayların oluş sürelerini işlem yaparak bulun ve doğru cevabın bulunduğu hayvanı istediğiniz renge boyayın. Kolay gelsin! 😊

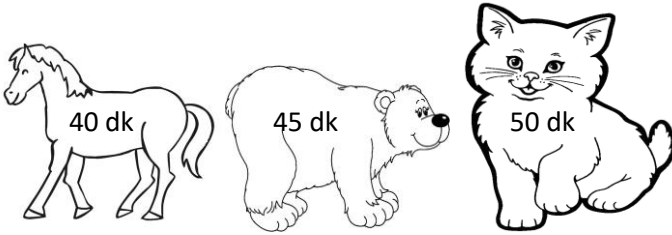
1 - Heybeli İlkokulu'ndaki tiyatro gösterisi saat 14.30'da başlamış ve 50 dakika sürmüştür. Buna göre tiyatro gösterisi saat kaçta bitmiştir?




2- Saat 19.00'da başlayan Göztepe - Beşiktaş maçı saat 20.45'de bitmiştir. Buna göre maç ne kadar sürmüştür?




3 - Saat 13.10'da ders çalışmaya başlayan Esmâ saat 14.00'de ders çalışmayı bırakmıştır. Buna göre ne kadar ders çalışmıştır?



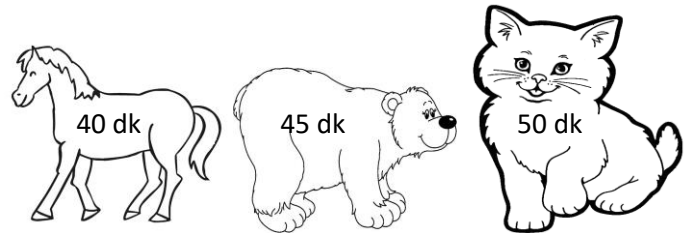
4 - Akhisar'dan saat 12.15'de yola çıkan otobüs 1 saat 50 dk sonra İzmir'e varmıştır. Buna göre saat kaçta İzmir'e varmıştır?



5 -Saat 16.10'da evin bahçesine oynamaya çıkan Ayşe saat 17.05'e kadar oynamıştır. Buna göre Ayşe ne kadar oynamıştır?




6 - Saat 18.20'de başlayan çizgi film 55 dakika sürdüğüne göre, saat kaçta bitmiştir?



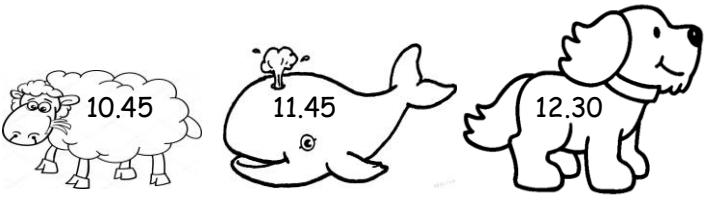
7 - Bilgisayarı saat 11.35'de tamir etmeye başlayan Mümtaz Usta, saat 12.25'de tamiri bitirmiştir. Buna göre tamir ne kadar sürmüştür?




8 - Saat 13.15'de Manisa'dan hareket eden tren 1 saat 15 dakika sonra Alsancak Garı'na vardığında saat kaçır?




9 - Sabah saat 07.45'de kahvaltısını yapıp kalp ilacını içen Halil Bey, diğer ilacını 4 saat sonra içeceğine göre, ilacı saat kaçta içmelidir?



10-Saat 13.50'de alışverişe giden Şengül Hanım saat 15.00'de eve dönmüştür. Buna göre alışveriş ne kadar sürmüştür?



8 - Trt1'de saat 20.00'de başlayan akşam haberleri 45 dakika sürdüğüne göre, saat kaçta bitmiştir?



12 - Saat 18.30'da idmana başlayan Galatasaray takımı 1 saat 45 dakika idman yapmıştır. Buna göre idman kaçta bitmiştir?



**10 - 11 YA DA 12 DOĞRU YAPAN YILDIZLARI BOYAR...**

**MEHMET GÜRDAL TEKİN**