

3-E SINIFI MATEMATİK ÇALIŞMALARI

NOKTAYI TANIYALIM, SEMBOLLE GÖSTERELİM VE İSİMLENDİRELİM

- Belli bir tanım yoktur. Büyük harflerle isimlendirilir.

- A \longrightarrow A noktası gibi



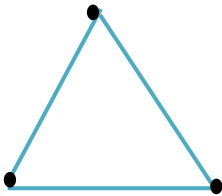
Türkiye idari haritasında illerin yerleri nokta (.) ile gösterilir. Haritadaki noktaları sayarak kaç tane ilimiz olduğunu bulabiliriz. İdari haritalarda başkentler daha büyük bir nokta ile belirtilir.

Aşağıda Türkiye idari haritası vardır. Haritada bazı illerin adları yazılıdır. Sizde bildiğiniz illerin adını yazabilirsiniz.




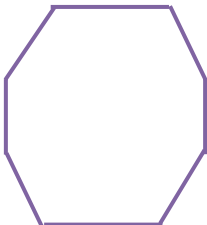
Geometrik şekillerde köşeleri nokta ile gösterip noktaları isimlendirebiliriz. Notasız şekilleri de siz nokta koyarak belirtiniz ve noktaları isimlendiriniz.

A Noktası



B Noktası

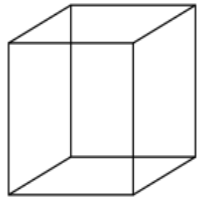
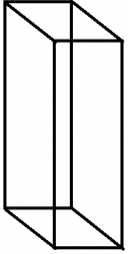
C Noktası



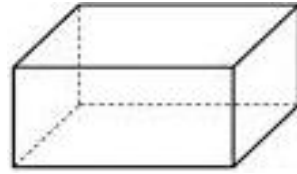
Verilen noktaları birleştirip meydana gelen resmi dilediğiniz gibi



boyayabilirsiniz.



Aşağıdaki şekillerin köşelerini nokta ile belirleyiniz. Şeklin kaç köşesi olduğunu altına yazınız.



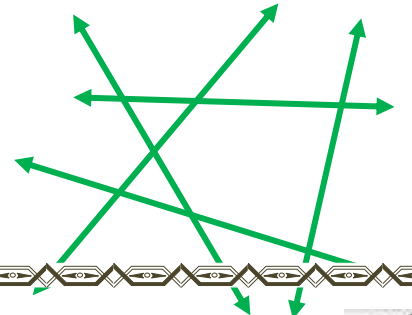
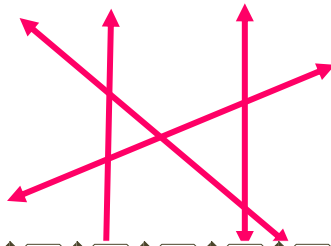
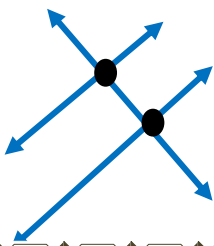
.....

.....

.....

.....

Aşağıdaki kesişen doğruların kesişim yerlerini örnekteki gibi nokta ile belirleyiniz. Kaç noktada kesiştiğini altına yazınız.



İki noktada kesişmiştir.