

TÜRKÇE SORULARI

1) Aşağıdaki cümlelerden hangisi hayal içeren bir cümledir?

- A) Türkiye'nin başkenti Ankara'dır.
B) Kırmızı balık parfüm sıktı.
C) Akşam olunca hava kararır.

2) Aşağıdaki kelimelerin hangisinde ünlü harflerin hepsi ince ünlüdür?

- A) temmuz B) ağustos C) eylül

3) "Atatürk çok kararlı bir liderdi." tümcesinde kaç kalın, kaç ince ünlü harf vardır?

- A) 5ince- 6kalın B) 11 ince- 16 kalın
C) 5ince- 11 kalın

4)Aşağıdaki sözcüklerden hangisi topluluk ismidir?

- A) Orman B) Ağaçlar C) Fidan

5) Aşağıdaki deyimlerin hangisinde tek heceli bir sözcük yoktur?

- A) Can kulağı ile dinlemek
B) Ağzı kulaklarına varmak
C) Bin dereden su getirmek

6) Yazı yazmak için kullanılan sembol ve işaretlere ne ad verilir?

- A) Harf B) Hece C) Rakam

7) "El" sözcüğü hangi atasözünde farklı bir anlamda kullanılmıştır?

- A) El ipiyle kuyuya inilmez.
B) El öpmekle ağız eskimez.
C) El atına binen çabuk iner.

8) Aşağıdakilerden sözcükçiflerinden hangisi anlam bakımından diğerlerinden farklıdır?

- A) fayda-yarar B) küçük-ufak
C) dolu-boş

9) Aşağıdaki atasözlerinden hangisi güzel söz söylemenin önemini anlatmaktadır?

- A)İşleyen demir ışıldar.
B)Bugünün işini yarına bırakma.
C)Tatlı söz yılanı deliğinden çıkarır.

10)Aşağıdakilerden hangisinde karşılaştırma yapılmamıştır?

- A) Benim kalemim daha güzel yazıyor.
B) Gülseren'in yazısı Gülten'in yazısından daha güzel.
C) Defterimbugün bitmek üzere.

11) " Üzüm üzüm baka baka kararır. " atasözünün anlamı aşağıdakilerden hangisi olabilir?

- A) Üzümlerin olgunlaşması birbirine bakarak olur.
B) İnsanlar birbirlerinin yaptıklarından etkilenirler.
C) Üzümleri birbirine bakacak şekilde yerleştirmeliyiz.

12) "korku, Burcu, rüya, kalem, silgi, sevgi, yetenek" Yukarıdaki sözcüklerden kaç tanesi soyuttur?

- A) 4 B) 3 C) 2

13) Aşağıdaki tümcelerin hangisinde anlatım bozukluğu yoktur?

- A) Çocuklar bahçede top oynuyorlar.
B) Dayımlar yarın bize geldiler.
C) Bu kibritle soba çok yanar.

14) Aşağıdaki tümcelerin hangisinde neden - sonuç ilişkisi yoktur?

- A) Hasta olduğu için okula gelmedi.
B) Durmadan için için ağlıyordu.
C) Ödül aldığı için çok heyecanlıydı.

"Sınıfıma geldim. Sırampa oturdum ve çantamdan kalemimi, defterimi, silgimi ve kitaplarımı çıkardım. Sessizce öğretmenimi bekledim. "

15) Yukarıdaki paragrafta kaç tane varlık adı vardır?

- A) 8 B) 9 C) 10

16) "Çocuklar ne sevimli ()ne güzel değil mi ()En çok hoşuma giden halleri nedir bilir misin() İkiyüzlülüğü bilmemeleri () bütün istek ve duygularını içlerinden geldiği gibi açıklamaları." Yukarıdaki cümlede sırasıyla hangi noktalama işaretleri konulmalıdır?

- A) (.) (?) (?) (.)
B) (.) (.) (?) (.)
C) (.) (?) (?) (.)

17) Aşağıdaki cümlelerden hangisinde zıt anlamlı sözcükler bir arada kullanılmıştır?

- A) Yeni ayakkabı alınca eski ayakkabısını çöpe attı.
B) Kolay soruları görünce sınavı hemen bitirdi.
C) Taze fasulye yemeğini çok severim.

18) " çay " kelimesi hangisinde farklı bir anlamda kullanılmıştır?

- A) Ülkemizde çay en çok Rize'de yetişir.
B) Bardaktaki çayı yanlışlıkla döktüm.
C) Köyümüzün içinden kocaman bir çay geçmektedir.

19) Aşağıdaki cümlelerin hangisinde farklı bir noktalama işareti olmalıdır?

- A) Ayşe'nin kalemi sende mi
B) Camı Ali mi kırdı
C) Pastayı ne güzel süslemişsin

20) " Saz " kelimesinin sonuna aşağıdaki eklerden hangisi getirilirse yeni bir isim türetilir ?

- A) - lar B) - da C) - lık

21) 1.Okulun yanına park etti. 2.Ceketini giydi. 3.Arabasını çalıştırdı. 4.Okuldan içeri girdi. 5.Giderken çocuklarını öptü. 6. Evden çıktı.

Yukarıdaki olaylar gerçekleşme sırasına göre yazılırsa sıralama nasıl olur?

- A) 6-3-5-4-2-1 B)2-5-6-3-1-4
C) 1-2-5-6-4-3

22) 1-yuvalarını 2-altın 3-örerler 4-iplikle 5- kuşlar 6-herzaman Yukarıdaki sözcüklerle anlamlı ve kurallı bir cümle oluşturursak sıralama nasıl olur ?

- A) 2-1-5-4-3-6B)5-1-6-2-4-3
C)6-4-3-2-1-5

23) " Gamze ! dün akşam çorbasına sarmısak atıp, limon sıktı. Fakat çorbası çok ,eşki ve acı olduğu için çobrasını içemedi ? "

Yukarıdaki paragrafta kaç tane yazım ve noktalama yanışı yapılmıştır?

- A) 4B) 6C)5

24)"Annem bize kısa çorap almış." Cümlesinde sıfat olan sözcük hangisidir ve hangi özelliği belirtmektedir?

- A) çorap- adını belirtiyor
B) kısa - durumunu belirtiyor.
C) kısa - boyunu belirtiyor.

25) Aşağıdaki cümlelerin hangisinde nerede sorusunun yanıtı vardır?

- A)Biz yarın sinemaya gideceğiz.
B) Ahmet'i parkta oynarken görmüşler.
C) Ödevlerini bitirip erkenden uyudu.

TÜRKÇE TESTİ BİTTİ

MATEMATİK SORULARI

1) Dilek her gün 36 sayfa, Arda ise her gün 49 sayfa kitap okumaktadır. Buna göre Dilek ve Arda 8 günde toplam kaç sayfa kitap okur?

A) 392 B) 288 C) 680

2) "7, 4, 0" sayıları ile oluşturulabilecek üç basamaklı en büyük çift sayı ile yine bu sayılarla oluşturulabilecek üç basamaklı en küçük tek sayının farkının 2 katı kaçtır?

A) 740 B) 666 C) 333

3) Manavdan kilogramı 14 TL olan muzdan 24 kg, kilogramı 8 TL olan portakaldan 25 kg alan biri, kasaya 600 TL veriyor. Ne kadar para üstü almalıdır?

A) 536 B) 200 C) 64

4) Serkan 19 yaşındadır. Abisi Serkan'dan 23 yaş büyüktür. Dedelerinin yaşı torunlarının yaşlarının toplamından 12 fazladır. Buna göre dedeleri kaç yaşındadır?

A) 42 B) 61 C) 73

5) Bir pazarcı iki kasa domates alıyor. Birinci kasada 378 kg ikinci kasada da 198 kg domates vardır. Pazarcı bu domateslerin kilosunu 7 liraya alıp 9 liraya sattığına göre kaç lira kar etmiştir?

A) 4032 TL B) 5184 TL C) 1152 TL

432 > ▲ > 370 > ■ > 354

6) -Yukarıda bulunan ▲ ve ■ sembollerinin yerine hangi sayılar gelebilir?

▲ ■
A) 422 372
B) 417 368
C) 443 365

7) $213 + 45 + 389 = ?$

Yukarıdaki toplama işleminin sonucu kaçtır?

A) 547 B) 647 C) 689

8)

173	139	156	416	124
-----	-----	-----	-----	-----

Yukarıda verilen sayıların "yüz elli yedi" sayısından büyük olanların toplamı ile küçük olanların toplamı arasındaki fark kaçtır?

A) 170 B) 589 C) 204

9) 556 sayısının onlar basamağı 3 eksilirse, yeni sayının çözümlenmiş şekli nasıl olur?

A) 5 yüzlük + 8 onluk + 6 birlik
B) 5 yüzlük + 4 onluk + 6 birlik
C) 5 yüzlük + 2 onluk + 6 birlik

10) 83

46

407



Yukarıdaki çıkarma işlemine göre \triangle \square
X=? sonucu kaçtır?

A) 30 B) 16 C) 20

11) 18 - 26 - 34 - 42 - 50

Yukarıdaki örüntünün kuralı ile aynı kurala uygun örüntü hangisidir?

A) 35 - 43 - 51 - 59 - 67
B) 22 - 29 - 36 - 43 - 50
C) 11 - 17 - 23 - 29 - 35

12) Keloğlan 19 yaşındadır. Annesinin yaşı Keloğlanın yaşının 3 katıdır. Ninesini yaşı ise Keloğlanın yaşının 4 katıdır. Üçünün yaşları toplamı kaçtır?

A) 157 B) 162 C) 152

13)

0 1 2 3 4 5 6 7 8 9 10 11 12 13 14 15

Yukarıdaki sayı doğrusu ile modellenen çarpma işlemi aşağıdakilerden hangisidir?

A) $5 \times 3 = 15$ B) $5 \times 5 = 25$ C) $3 \times 5 = 15$

16 x 8 ----- 128	38 x 9 ----- 342	44 x 0 ----- 44	116 x 5 ----- 580
---------------------------	---------------------------	--------------------------	----------------------------

14) Yukarıda verilen çarpma işlemlerinden kaç tanesinin sonucu doğrudur?

- A) 2 B) 3 C) 4

Kümeadaki Hayvanlar	
Tavuk	
Horoz	
Civciv	

NOT: Her şekil 6 hayvanı göstermektedir.

15) Bu kümeada toplam kaç hayvan vardır?

- A) 64 B) 84 C) 104

16) 625 sayısının en yakın yüzlüğe ve 274 sayısının en yakın onluğa yuvarlanmış hallerinin toplamı hangisidir?

- A) 899 B) 900 C) 870

17) Aşağıdaki Romen rakamları ile yapılan işlemlerden hangisi yanlıştır?

- A) V + II + XX = XXVII
B) IX + VII + X = XXVIIC) XI + V+ = XVI

18) $6 \times 4 = ?$

Yukarıdaki çarpma işleminde, sırayla çarpanlardan biri 1 artırılırsa ve sonra 1 azaltılırsa çarpım nasıl değişir?

- A) Çarpım önce 6 azalır sonra 6 artar.
B) Çarpım önce 6 artar sonra 6 azalır.
C) Çarpım önce 4 azalır sonra 4 artar.

19) Bir fırında her gün öğleden önce 78, öğleden sonra 94 ekmek satılıyor, Bu fırında 1 haftada kaç ekmek satılır?

- A)172B)1204C)2204

20) $A > 741 - 256$

Yukarıdaki işlemde A yerine yazılabilecek sayı kaçtır?

- A)484 B) 485 C) 486

$43 + 56 = ?$

21)Aşağıdakilerden hangisi yukarıdaki toplama işlemini, zihinden yapılışını doğru olarak göstermiştir?

23+36=59	40+50=90	33+33=66
20+20=40	3+6=9	10+23=33
59+40=99	90+9=99	66+33=99

- A) B) C)

22) Aşağıdaki çarpma işlemlerinden hangisi yanlıştır?

A) 27 x 15 ----- 135	B) 39 x 23 ----- 97	C) 47 x 13 ----- 141
+27 ----- 405	+ 68 ----- 777	+ 47 ----- 611

23)42 - 36 - A - 24 - 18 - B - 6

Örüntüsü belli bir kurala göre dizilmiştir.

Buna göre, $A \times B = ?$ işleminin sonucu kaçtır?

- A)160 B) 360 C) 720

24) Yandaki toplama işleminin çarpma işlemi şeklinde gösterilişi hangisidir? $9+9+9+9+9=$

- A) $9 \times 5 = 45$ B) $5 \times 9 = 45$ C) $4 \times 9 = 45$

25) 12 katlı ir apartmanda her katta 4 daire var. Her dairede 17 lamba var. Buna göre apartmanda kaç lamba var?

- A)816B) 576 C) 626

MATEMATİK TESTİ BİTTİ

<https://www.slaytyerim.com/>

HAYAT BİLGİSİ SORULARI

1) Kişisel bakım yaparken tutumlu olmak için aşağıdakilerden hangisini yapmak uygun olmaz?

- A) Boş yere elektriği açık bırakmamalıyız.
B) Kişisel bakımımızı daha az yapmalıyız.
C) Gereksiz su kullanımından kaçınmalıyız.

2) Aşağıdakilerden hangisi "arkadaşların farklı fiziksel özellikleri olabileceğine" bir örnektir?

- A) Eda ve Merve mavi gözlüdür.
B) Melisa uzun saçlı, İrem kısa saçlıdır.
C) Ege ve Alper'in doğum tarihleri aynıdır.

3) Okulumuzda düzenlenen etkinlikler ile ilgili verilen bilgilerden hangisi yanlıştır?

- A) Birlik ve beraberliğimizi artırır.
B) Ailelerimizin kaynaşmasını sağlar.
C) Sadece başarısız öğrenciler katılır.

4) Bilinçli tüketici aşağıdakilerin hangisini yapmaz?

- A) Aldığı malın kalite belgesinin olup olmadığını kontrol eder.
B) Satıcıyla pazarlık ederek fiş veya fatura almaz.
C) Haklarını aramak için tüketici derneklerinde yardım ister.

5) Aşağıdakilerden hangisi okuldaki demokratik bir uygulamadır?

- A) İsteyen öğrencinin sınıf başkanlığına aday olması
B) Öğretmenin istediği öğrenciyi başkan yapması
C) Her gün aynı öğrencinin nöbetçi olması

6) Aşağıdakilerden hangisi okul içerisinde meydana gelebilecek bir kazada yapılmaması gereken bir davranıştır?

- A) Gördüğümüz kazayı nöbetçi öğretmene ve sınıf öğretmenimize bildirmek
B) Arkadaşlarımızı sık sık kazalara karşı uyarmak
C) Gördüğümüz kaza ile ilgilenmemek ve kimseyi haberdar etmemek

Esra, derslerinden arta kalan zamanlarını müzik



7) Yukarıdaki krokiye göre oyun parkı, Ali'nin evinin neresindedir?

- A) Kuzeyinde B) Batısında C) Güneyinde

8) İhtiyaçlarımızı ▲ sırasına koymalıyız. Evdeki kaynaklar ■ tüketilmelidir.

Cümlelerdeki semboller yerine hangi kelimeler gelmelidir?

_____▲_____■_____

- A) pahalılık ucuzluk
B) öncelik bilinçli
C) öncelik bilinçsiz

9) Hangisi güçlü yönlerimizden biri olamaz?

- A) İnsanlarla iyi ilişkiler kurmak.
B) Başkalarına benzemeye çalışmak.
C) Planlı ve verimli çalışmak.

10) Aşağıdakilerden hangisi kişisel bakımımızda başkalarından yardım alarak yaptıklarımızdandır?

1. Tırnaklarımızı kesmek. 2. Diş fırçalamak.
3. Banyo yapmak 4. Elimizi yüzümüzü yıkamak.
A) 2-3 B) 1-3 C) 2-4

11) Aşağıdaki ifadelerden hangisi doğrudur?

- A) Sorunlarımızı kavgaya ederek ya da surat asarak çözümlerimiz
B) Okula geliş ve okuldan dönüşlerde güvenliğimiz için kabul edilemez önerileri reddetmeliyiz
C) Okulumuzun tarihi ile ilgili bir araştırma yaparken binanın yapıldığı bahçenin çevre uzunluğunu mutlaka öğrenmeliyiz

12) Okuldaki istek ve ihtiyaçlarımızı okul yöneticilerine nasıl iletebiliriz?

- A) Telefon ederek B) Okul idaresine dilekçe yazarak
C) Müdürle konuşarak

19) Meslek seçerken neye dikkat etmeliyiz?

dinleyerek,

Özge oyun oynayarak geçirmektedir.

13) Yukarıdaki anlatıma göre hangi sonuca varılır?

- A) Herkesin ilgi ve yetenekleri farklıdır.
B) Herkes okulda başarılı olmak ister.
C) Herkes boş zamanlarında kitap okur.

14) Aşağıda verilen bilgilerden hangisi çocukların görev ve sorumluluklarından değildir?

- A) Ders çalışmak B) Para kazanmak
C) Tasarruflu olmak

15) Okuldaki kaynakları, araç ve gereçleri korumak kimin görevidir?

- A) Müdürün B) Öğretmenlerin
C) Okuldaki herkesin

16) Deprem anında evdeyse yapmamız gerekenlerden biri aşağıdakilerden hangisidir?

- A) Pencere ve balkonlara yakın durmak.
B) Çamaşır makinesi veya bulaşık makinesinin yanına çömelmek.
C) Deprem sırasında koşarak evden dışarı çıkmaya çalışmak.

17) Bütçeyi gözetmeyen bir aile, hangi olayları yaşayabilir?

- A) Hiçbir zaman para sıkıntısı yaşamaz.
B) Ödemelerinde sorun yaşayabilirler.
C) Her istediklerini alabilirler.

18) Aşağıdaki bilgilerden hangisi yanlıştır?

- A) Evimizdeki kaynakları tasarruflu kullanmak aile bütçemize katkı sağlar.
B) Ev adresimizi bilmeli ve tanımadığımız kişilere söylememeliyiz.
C) Aile bireylerimizle ve akrabalarımızla her zamanyardımlaşma ve dayanışma içinde olmalıyız.

- A) Ailemizin istediği mesleği seçmeliyiz.
B) Çok para kazandıran mesleği seçmeliyiz.
C) İlgi ve yeteneğimize uygun meslek seçmeliyiz

20) Aşağıdaki ifadelerden hangisi yanlıştır?

- A) Kroki, planlı ve ölçekli bir çizimdir.
B) Kroki çizerken bir yerin kuş bakışı görünüşünü çizmiş oluruz.
C) Bir yeri kroki çizerek tarif edebiliriz.

21) Aşağıdaki ifadelerden hangisi yanlıştır?

- A) Bir yeri kroki çizerek tarif edebiliriz.
B) Kroki çizerken bir yerin kuş bakışı görünüşünü çizmiş oluruz.
C) Kroki, planlı ve ölçekli bir çizimdir.

22) Satın aldığımız bir üründe aşağıdakilerden hangisine dikkat etmeyiz?

- A) Ürünün TSE damgasına
B) Ürünün üretim ve son kullanma tarihine
C) Ürünün televizyonda yayınlanan reklamlarına

23) 1. Hoşgörülü - 2. Bencil - 3. Saygılı - 4. Kaba - 5. Öfkeli - 6. Adil

Yukarıdaki özelliklerden hangileri iyi bir arkadaşta bulunmaz?

- A) 2, 4 ve 5 B) 1, 3 ve 5 C) 3, 5 ve 6

24) Toplumda birçok mesleğin olmasının sebebi aşağıdakilerden hangisidir?

- A) İnsanların meslek değiştirmesi
B) Toplumun ihtiyaçlarının karşılanması
C) Kolay yapılacak mesleklerin olması

25) Hangisi komşuluk ilişkilerinde yanlış bir davranıştır?

- A) Özel günlerinde destek olmak.
B) Hastalandığında ziyaret etmek.
C) Geç saatte gürültü yapmak

HAYAT BİLGİSİ TESTİ BİTTİ



- 1) *Vücuda mikropların girmesini önler.
*Boşaltıma yardımcı olur.
*Güneşin zararlı etkilerine karşı vücudumuzu korur.
*Besinler arasındaki tat farklılıklarını ayırt etmemizi sağlar.
*En büyük duyu organımızdır.

Yukarıdakilerden kaç derinin görevleriyle ilgilidir?

- A) 2 B) 3 C) 4

2) Gaz maddeler ile ilgili ;

I) Belirli bir şekilleri vardır. II)Konulduğu kabı doldurur. III)Bulunduğu ortama yayılır.

Bilgilerinden hangileri doğrudur?

- A) 1 ve 2 B) Yalnız 3 C) 2 ve 3

3) Aşağıdaki seçeneklerden hangisinde

gözlemlenebilen katmanlar bir arada verilmiştir ?

- A) Ateş küre - Ağır küre - Su küre
B) Hava küre - Taş küre - Ağır küre
C) Taş küre - Hava Küre - Su küre

I. Durak tan hareket eden otobüsII. Yokuştan

yuvarlanan topIII. Kırmızı ışığı gören şoför

IV. Yukarı atılan top

4)Yukarıdakilerden hangileri hızlanan hareket yapar?

- A) II. III. IV. B) I. III.
C) I. II. D) I. II. III. IV

5) Bir cismin hızını arttırmak için aşağıdakilerden hangisini yapmalıyız?

- A) Hareket yönü ile aynı yönde kuvvet uygulamalıyız.
B) Hareket yönü ile zıt yönde kuvvet uygulamalıyız.
C) Cismi itmeliyiz.

6)Aşağıdakilerden hangileri doğrudur ?

I. Dünya'nın $\frac{3}{4}$ ' ü sular ile kaplıdır.

II. Kara katmanı engebeli bir yapıya sahiptir.

III. Kara katmanı ile su katmanı iç içedir

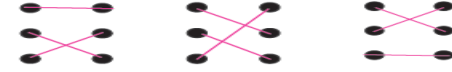
- A) Yalnız I B) I ve III C) I, II, III

7) Aşağıdakilerden hangisi ışık kaynağı olmamasına rağmen ışık kaynaklarından gelen ışığı yansıtarak parlak görünür?

- A) Sokak lambası B) Trafik ışığı
C) Trafik levhası

15) Aşağıdakilerden hangisi veya hangileri

8) Yukarıdaki eşleştirmeyi yaptığımızda aşağıdakilerden hangisini elde ederiz?



- A) B) C)

I. Bitkiler hareket edemezler.

II. Kuvvet uygulayarak tüm varlıkları hareket ettirebiliriz.

III. Beşik sallanma hareketi yaparak,hareket eder.

IV. Tüm canlılar kendi kendine hareket edebilirler.

9) Yukarıdaki bilgilerden hangileri doğrudur?

- A) I ve II B) I , II ve IV C) III ve IV



Parfüm hava taş buz süt

10) Yukarıda ki maddelerden kaç tanesi sıvı haldedir?

- A) 2 B) 3 C)1

11) Maddelerin özelliklerini hangiorganlarımızla algılarız?

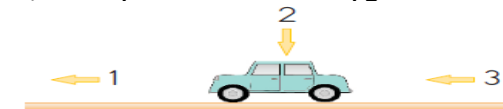
- A)Sindirim organlarımızla
B) Solunum organlarımızla
C) Duyu organlarımızla

12) Sıvı bir maddenin ısı alarak gaz hale geçmesine ne denir?

- A) DonmaB) Erime C) Buharlaşma

13)Kuvvetle ilgili aşağıdaki bilgilerden hangisi doğrudur?

- A) Kuvvetin cisimler üzerinde etkisi yoktur.
B) Çekme, bir kuvvettir.
C) Masaya itme kuvveti uygulanırsa hareket etmez.



14) Yukarıdaki hareketsiz oyuncak arabayı hareket ettirmek için hangi yönlerde kuvvet uygulanmalıdır?

- A) 1 ve 2 B) 2 ve 3 C) 1 ve 3

22) Hava tabakasıyla ilgili olarak aşağıdaki ifadelerden hangileri doğrudur?

- I - Yeryüzünden uzaya kadar kalın bir tabakadır.
II - İçerisinde canlılar için önemli gazlar bulunur.
III - Yağmur, rüzgar ve kar gibi olayların gerçekleştiği tabakadır.

yavaşlama hareketi yapar?

- I. Durağa yaklaşan otobüs
II. Geyiği gören bir aslan
III. Havaalanına inen uçak
- A) I ve III B) Yalnız I C) II ve III

16) Aşağıdakilerden hangisi yanlıştır?

- A) Bir maddenin sert mi yumuşak mı olduğunu gözümüzle anlarız.
B) Bir maddenin pürüzlü mü pürüzsüz mü olduğunu derimizle anlarız.
C) Maddelerin kokusunu burnumuzla ayırt ederiz.

- II. Gazlar buldukları kabın şeklini almazlar.
III. Gazlar buldukları ortama yayılırlar.
IV. Pirinç, toz şeker ve tuz gibi küçük parçaçıklı katı maddeler buldukları kabın şeklini alırlar.
V. Katı maddeler dışarıdan bir etki aldıklarında şekil değiştirebilirler.
VI. Sıvı maddelerin belirli bir şekilleri vardır.

17) Yukarıda verilen bilgilerden kaç tanesi doğrudur?

- A) 3 B) 4 C) 5

18) Sıvı maddelerle ilgili;

- I) Akıcıdır II) Şekli değişmez III) Bulunduğu kabın şeklini alır.

Bilgilerinden hangileri doğrudur?

- A) 1 ve 3 B) 1,2,3 C) 2 ve 3

19) "Çevremizde gördüğümüz canlı ve cansız bütün varlıklar"**Yukarıdaki cümlede boş bırakılan yeri hangisi ile doldurabiliriz?**

- A) kuvvettir B) maddedir C) harekettir

20) Havaya atılan bir top yere düşene kadar sırasıyla hangi hareketleri yapar?

- A) Hızlanma - yavaşlama - durma - yavaşlama
B) Hızlanma - yavaşlama - durma - hızlanma
C) Yavaşlama - hızlanma - durma - yavaşlama

- I. Türk ve Müslüman bilim insanıdır.
II. Dünya'mızın küreye benzediğini söylemiştir.
III. Yer çekiminin varlığını ortaya koymuştur.

21) Yukarıdaki özellikler aşağıdakilerden hangisine aittir.

- A) Farabi B) Biruni C) İbni Sina

- A) I ve II B) II ve III C) I, II ve III

- I. Bilmediğimiz maddelerin tadına bakabiliriz.
II. Bilmediğimiz maddeleri koklamak tehlikeli olabilir.

- III. Gürültülü ortamlardan kaçınmalıyız.

23) Yukarıdaki ifadelerden hangileri doğrudur ?

- A) II ve III B) I ve III C) I, II ve III

Maddelerin özelliklerini duyu organlarımızla ayırt edebiliriz.

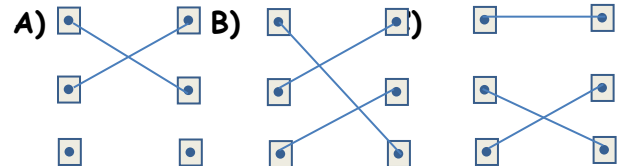
Çevremizdeki bütün maddeleri gözümüzle görebiliriz.

Maddeler belli bir yer kaplar ve kendilerine özgü özellikleri vardır.

24) Yukarıdaki ifadelerin doğru-yanlış şeklindeki sırlaması nasıl olmalıdır?

- A) D B) D C) D Y
- D Y Y
- D D Y

- | | |
|---------------------------------|-----------------------------------|
| <input type="checkbox"/> Cam | <input type="checkbox"/> Esnek |
| <input type="checkbox"/> Balon | <input type="checkbox"/> Kırılgan |
| <input type="checkbox"/> Mermer | <input type="checkbox"/> Sert |

25) Yukarıdaki maddelerin özellikleri ile eşleştirilişi nasıl olmalıdır?

SINAV BİTMİŞTİR.

CEVAPLARINIZIN VE KODLAMANIZIN DOĞRULUĞUNU KONTROL ETMEYİ UNUTMAYINIZ

