



.....

Çanakkale Savaşı'nın devam ettiği günlerde Mustafa Kemal, 57. Alay askerlerinin Conkbayırı'na doğru koşmakta olduklarını görür. Askerlerin önüne çıkarak niçin kaçtıklarını sorar. Askerler düşman birliklerinin yaklaştığını, cephanelerinin kalmadığını söylerler. Bunun üzerine 'Düşmandan kaçılmaz, cephaneniz yoksa süngünüz var.' diyerek süngü takmalarını emreder ve tarihe geçen o sözü söyler:

-Ben size savaşmayı emretmiyorum, ölmeyi emrediyorum. Biz ölünceye kadar yerimize başka komutanlar ve askerler gelebilirler.

57. Alay askerlerinin hepsi de o mücadelede şehit olmuşlardır. Ancak verdikleri mücadele ile düşmanın ilerlemesi durdurularak savaşın kaderini değiştirmişlerdir.

(1-3. soruları metne göre cevaplayınız.)

- 1) 57. Alay askerleri niçin koşmaktadırlar?
 - A) Savaşa hazırlık için
 - B) Düşmandan kaçtıkları için
 - C) Eğitim yaptıkları için
- 2) Mustafa Kemal cephanesi olmayan askerlere hangisini emretmiş?
 - A) Süngü takmalarını emretmiş.
 - B) Cephane yapmalarını emretmiş.
 - C) Teslim olmalarını emretmiş.
- 3) Hangisi metin için uygun bir başlık olabilir?
 - A) Düşman Askerleri
 - B) Ölmeyi Emrediyorum
 - C) Atatürk'ün Okul Hayatı
- 4) "Düşman birlikleri geçemediler sa-yenizde Çanakkale'yi."

Yukarıdaki cümle ile ilgili verilen ifadelerden hangisi doğrudur?

 - A) Olumlu bir cümledir.
 - B) Soru cümlesidir.
 - C) Kuralsız(devrik) bir cümledir.



- 5) 1- Okulda tören yapacağız.
2- Gösteride ben de görevliyim.
3- 23 Nisan hazırlıkları başladı.
4- Sınıfımızın da gösterisi olacak.

Yukarıdaki cümleler oluş sırasına göre nasıl sıralanmalıdır?

- A) 3-2-1-4
B) 2-3-4-1
C) 3-1-4-2

- 6) Aşağıdaki çocuklardan hangisi hayal ürünü bir ifade kullanmıştır?




- A)  Hafta sonu sınıfça sinemaya gittik.
- B)  Filmde Alâaddin isimli bir çocuk vardı.
- C)  Çocuğun uçan bir halısı vardı.

- 7) Aşağıdaki atasözlerinden hangisi diğerlerinden farklı bir anlam taşımaktadır?

- A) Bir elin nesi var, iki elin sesi var.
B) El elden üstündür.
C) Birlikten kuvvet doğar.

8)	ağzını aramak
	ağı kulaklarına varmak
	ağzında bakla saklamak
	ağzında tütme

Tabloda deyim olanlara 😊, olmayanlara ☹️ nasıl koyulmalıdır?

- A)  B)  C) 

- 9) "22 Mart 2022de melek bize geldi mi, gelmedi mi bilmiyorum."

Yukarıdaki cümlede aşağıdaki yazım hatalarından hangisi yoktur?

- A) Özel isim küçük harfle başlamış.
B) Cümlenin sonuna soru işareti koyulmamış.
C) Tarihe gelen ek kesme işareti ile ayrılmamış.

- 10) "Arda()nın annesi, ona kalem() sil() gi ve açacak almış()"

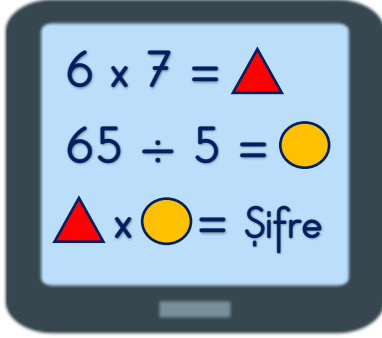
Yukarıdaki cümlede () ile belirtilen yerlere sırası ile hangi noktalama işaretleri gelmelidir?

- A) (')(),(-),(.) B) (')(),(),(?) C) (')(),(-),(?)





11)



Eymen, tabletini eline aldığı anda tabletin ekranında annesinin koymuş olduğu şifre ile karşılaşmıştır.

Buna göre tabletin şifresi kaçtır?

- A) 546 B) 634 C) 872

12) Melek ve ailesinin yaşları şu şekildedir:

Melek: En büyük rakamdan 1 eksiktir.

Annesi: Melek'in yaşının 5 katından 2 fazladır.

Babası: Annesinden 3 yaş büyüktür.

Hasan: Babasının yaşının $\frac{1}{5}$ 'idir.



Verilen bilgilere göre aşağıdaki ifadelerden hangisi yanlıştır?

- A) Ailede en büyük babadır.
B) Melek, Hasan'dan 1 yaş küçüktür.
C) Aile bireylerinin yaşları toplamı 95'tir.

13) Kerem amca bahçesinden topladığı elmaları 18'er kiloluk 25 kasaya koymuştur.



Pazara gidene kadar 7 kasa elma çürüdüğüne göre geriye kaç kg sağlam elma kalmıştır?

- A) 324 B) 450 C) 576

14) Yandaki bölme işlemi ile ilgili verilen ifadelerden hangisi yanlıştır?

$$\begin{array}{r} 98 \overline{) 8} \\ - \\ \hline \end{array}$$

- A) Bölüm bölenden 4 fazladır.
B) Kalan bölümün $\frac{1}{6}$ 'idir.
C) Bölüm ile kalanın çarpımı 14'tür.

15) Melisa, 72 sayfalık hikâye kitabını hafta sonu günlük altışar sayfa, kalanını



hafta içi her gün eşit şekilde okuyarak bir haftada bitirmiştir.

Melisa, hafta içi her gün kaç sayfa kitap okumuştur?

- A) 10 B) 11 C) 12



16)



Yukarıdaki şeklin tamamı 56'ya eşittir.

Buna göre taralı bölgelerin toplamı kaçtır?

A) 21 B) 35 C) 42

17) Kümesteki 64 hay-

vanın $\frac{1}{4}$ 'i tavuk,

$\frac{1}{8}$ 'i horoz ve geri kalanları civcivdir.



Yukarıda verilen bilgilere göre kümesteki civciv sayısı kaçtır?

A) 32 B) 40 C) 48

18)



Hangisi yukarıdaki saatlerden herhangi birinin okunuşu değildir?

A) On bire yirmi var.
B) Üçü on geçiyor.
C) Yediye çeyrek var.

19) Saat 08.15'te okula giden Nihat, 6 saat 20 dakika sonra eve dönmüştür.



Nihat eve döndüğünde analog saatin görüntüsü nasıl olur?



20) Miraç 750 liraya aldığı bisiklet için 150 lira peşin ödeme yaptı. Kalan borcunu da 6 eşit taksitte ödemek için satıcı ile anlaştı.



Buna göre Miraç, her ay satıcıya kaç lira ödemelidir?

A) ₺100 B) ₺125 C) ₺150





21)



1



2



3

Yukarıdaki görselde verilen varlıklar ile ilgili hangi ifade doğrudur?

- A) 1 ve 2 doğal ışık kaynağıdır.
B) 2 ve 3 yapay ışık kaynağıdır.
C) 1 ve 3 doğal ışık kaynağıdır.

22)



Çocuklar! Yapay ışık kaynaklarının özellikleri nelerdir?

Hasan Öğretmen'in sorduğu soruya göre hangi çocuk konuya biraz daha çalışmalıdır?

A) İnsanlar tarafından kontrol edilebilirler.

B) Işık kaynağından gelen ışığı yansıtırlar.

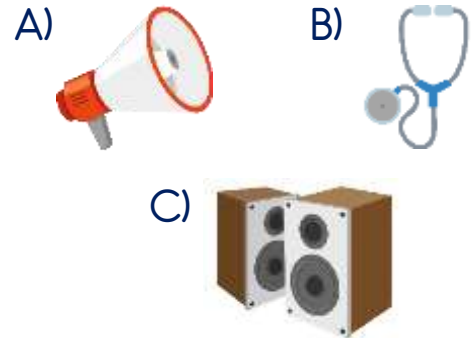
C) Tükenebilir kaynaklardır.

23) Çok parlak ışık kaynaklarına karşı gözümüzü korumak için bazı önlemler alırız.

Hangisi bu önlemler için kullanılan bir araç değildir?



24) Hangisi ses şiddetini artırarak sesin daha uzağa gitmesini sağlayan bir araç değildir?



25) 'Ses kaynağına yaklaştıkça sesin şiddeti Örneğin, bir aracın sesi araç bize yaklaşıyordur.'

Paragraftaki boşluklara sırası ile hangi sözcükler gelmelidir?

- A) artar - artıyorsa
B) azalır - azalıyorsa
C) artar - azalıyorsa

26)



Hafta sonu gittiğim
etkinlikte geçici işitme
kaybı yaşadım.

Verdiği bilgiye göre Melisa hafta sonu nereye gitmiş olabilir?


- A) Bir akrabasının düğününe
- B) Sınıf arkadaşları ile tiyatroya
- C) Ablası ile kütüphaneye

27) Canlıların yedi ortak özelliği vardır.

Hangi seçenekteki ifade bu yedi özellikten biri için örnek değildir?

- A) Kedinin mama yemesi
- B) Köpeğin hareket etmesi
- C) Balığın yemini görmesi

28)



Yukarıdaki bitkinin yaşam döngüsünde sıralama nasıl olmalıdır?

- A) 2 - 3 - 4 - 1 - 5
- B) 2 - 4 - 5 - 1 - 3
- C) 3 - 4 - 5 - 2 - 1

29) Hangi seçenekte yandaki geri dönüşüm kutuları için uygun olmayan bir atık vardır?

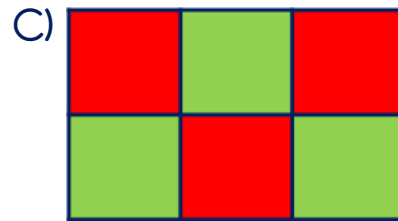
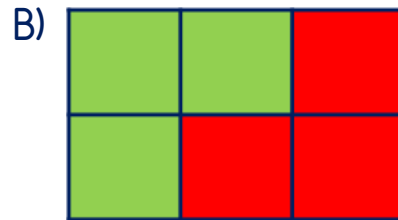
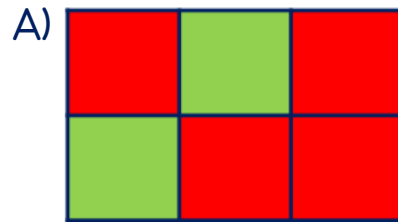


- A) Pet şişe - peçete - poşet
- B) Karton - gazete - pet bardak
- C) Dergi - pipet - pil

30)



Yukarıdaki tabloda doğal unsurlar yeşile, yapay unsurlar kırmızıya boyandığında tablonun görünümü nasıl olur?



31)



Bugün annemle
pazar alışverişine
gideceğiz.

Doğal beslenmeye özen gösteren
Fadime, pazar alışverişinde hangi
meyveyi almaz?

A)




B)



C)



32)



Tabloda sağlığımız için zararlı be-
sinlerin kutusu boyandığında tab-
lonun görüntüsü nasıl olur?

A)



B)



C)



33)

Hapşırırken veya öksürürken
ağzımızı mendil ile kapatmalı,
mendilimiz yoksa ...

Yukarıdaki cümle hangisi ile de-
vam etmelidir?

- A) avcumuzun içini kullanmalıyız.
B) dirseğimizin içini kullanmalıyız.
C) elimizin tersini kullanmalıyız.

34)



Ahmet evden okula giderken sıra-
sı ile yukarıdaki levhaların olduğu
yerleri kullanmıştır.

Yukarıda verilen görsele ve
bilgiye göre hangi ifade yanlıştır?

- A) Ahmet evden sonra ilk önce
alt geçidi kullanmıştır.
B) Ahmet okul geçidinden sonra
okula ulaşmıştır.
C) Ahmet evden okula giderken
üç farklı geçidi kullanmıştır.

35)



Yukarıdaki görselden yola çıkarak trafik kazalarının önlenmesi ile ilgili hangisi söylenebilir?

- A) Sürücüler dikkatli olmalıdır.
- B) Çocuklar dikkatli olmalıdır.
- C) Trafikteki herkes dikkatli olmalıdır.

36) Yandaki görseli gören birisi hangisini yapmalıdır?



- A) Dikkatli yürümelidir.
- B) Sığınağa koşmalıdır.
- C) Polisi aramalıdır.

37) 1. Binaları sağlam yapmak
2. Eşyaları duvara sabitlemek
3. Çök-kapan-tutun tekniği

Yukarıdakilerden hangisi veya hangileri depreme karşı alınan önlemlerdendir?

- A) 1 B) 2 ve 3 C) 1, 2 ve 3

38)



Okul dönüşü tanımadığım biri beni takip ediyordu.

Anlattığı duruma göre Hayal için en güvenli tercih hangisidir?

- A) Takip eden kişi ile tanışmak
- B) Yoldaki bir inşaata saklanmak
- C) Kalabalık yerlerden gitmek

39)



Yukarıdaki oyun araçlarının ortak özellikleri hangisidir?

- A) Sadece erkekler kullanabilir.
- B) Kask, dizlik ve dirseklilik kullanılır.
- C) Tek başımıza kullanamayız.

40)

- 👉 Seçimle göreve gelir.
- 👉 İl ve ilçelerde bulunur.
- 👉 Nikâh kıyabilir.

Yukarıda özellikleri verilen yönetici hangisidir?

- A) Muhtar
- B) Kaymakam
- C) Belediye başkanı



Cevap Anahtarı

1-B 2-A 3-B 4-C 5-C 6-C 7-B 8-B 9-B 10-A 11-A 12-C 13-A 14-C 15-C 16-B 17-B
18-C 19-C 20-A 21-C 22-B 23-C 24-B 25-A 26-A 27-C 28-B 29-C 30-A 31-B
32-B 33-B 34-A 35-C 36-A 37-C 38-C 39-B 40-C

