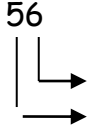


2.SINIFLAR MATEMATİK DERSİ 2. DÖNEM 1.YAZILISI

Adı ve Soyadı:

1) 56 sayısının basamak adlarını yazalım.(4p)



2) 35-67-43-89 sayılarını büyükten küçüğe doğru sıralayalım.(4p)

3) Aşağıda istenilen bilgileri yazalım.(5p)

- * 5 birlik + 7 onluk =
- * İki basamaklı en büyük sayı =
- * 35 sayısındaki 3'ün basamak değeri =
- * 2 düzine + 2 deste =
- * 74 sayısının en yakın onluğu =

4) Aşağıdaki işlemleri yapıp, işlemlere ait terimleri yazalım.(9p)

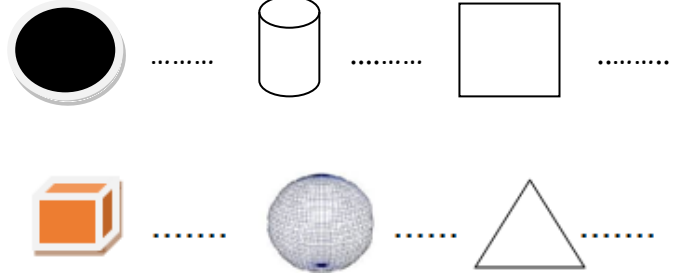
$$\begin{array}{r} 34 \\ + 27 \\ \hline \end{array} \quad \begin{array}{r} 65 \\ - 36 \\ \hline \end{array} \quad \begin{array}{r} 31 \\ \times 4 \\ \hline \end{array}$$

5) 9'dan başlayıp üçer ritmik sayarken 7.sırada hangi sayı söylenir? (4p)

6) Aşağıda verilen geometrik örüntüdeki eksikliği tamamlayınız.(4p)



7) Aşağıdaki nesnelere isimlerini yazalım.(6p)



8) Aşağıdaki işlemlerde verilmeyen sayıları bulalım.(6p)

$$\begin{array}{r} 5 \\ \times \square \\ \hline 30 \end{array} \quad \begin{array}{r} \square \\ - 25 \\ \hline 49 \end{array} \quad \begin{array}{r} 56 \\ + \square \\ \hline 64 \end{array}$$

9) Aşağıdaki işlemin sonucunu tahmin edelim. (En yakın onluğa yuvarlayarak) (4p)

$$63 - 25 =$$

10) Aşağıdaki toplama işlemlerini çarpma işlemi olarak ifade ediniz.(4p)

$$3 + 3 + 3 =$$

$$4 + 4 + 4 + 4 + 4 =$$

$$\dots =$$

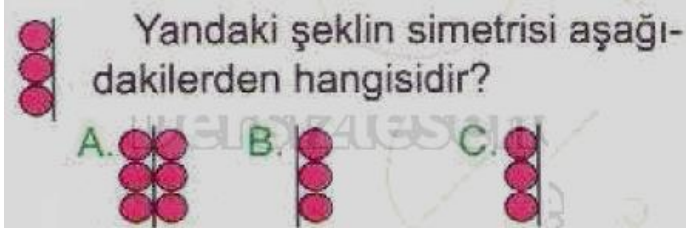
$$\dots =$$

11) Aşağıdaki çarpma işlemlerini toplama işlemi olarak yazalım.(4p)


$$2 \times 7 = \dots$$

$$5 \times 6 = \dots$$

12) Simetrisi hangisidir? (4p)



13) Resme göre eve en yakın hangisidir?(4p)



A) Cıvıv B) Kaplumbağa C) Eşek

14) Aşağıdaki işlemleri yapıp, işlemlere ait terimleri yazalım.(8p)

36	4	Bölünen =	27	+	3 =
		Bölen =			
		Bölüm =			
		Kalan =			

15) Enes, tanesi 15 lira olan toplardan 2 tane, tanesi 13 lira olan kumbaralardan da 3 tane satın aldı. Satıcıya 80 lira veren Enes'in kaç lirası kaldı? (5p)

16) Bir çiftlikte 5 inek, 10 keçi ve 7 tane de horoz vardır. Bu çiftlikteki hayvanların ayak sayılarının toplamı kaçtır? (5p)

17) Bir sınıfta 14 sıra var. Her sırada 2 öğrenci oturuyor. 9 öğrenci de ayakta kaldığına göre bu sınıfta toplam kaç öğrenci vardır? (5p)

18) Ben 12 yaşındayım. Annemin yaşı benim yaşımın 3 katından 8 fazladır. Buna göre ikimizin yaşlarının toplamı kaçtır? (5p)

19) 50'ye yuvarlanan en büyük sayı ile birler basamağı 8 olan en küçük sayının farkının 4'e bölümü kaçtır? (5p)

20) Asiye'nin 34 kitabı vardı. Annesi 16 kitap daha aldı. Asiye kitaplarını 10 arkadaşına eşit olarak paylaştırdı. Her birine kaç kitap düşer? (5p)

BAŞARILAR KUZUCUM :)

Cevaplarını kontrol etmeyi unutma!!!

www.slaytyerim.com