

4. Sınıf

Türkçe (10 Soru)

1) ◆ Notaları öğrendi.

- △ Öğrendiği şarkıları arkadaşlarına çaldı.
- ▣ Gaye piyano kursuna gitti.
- ⊙ Öğrendiklerini evde tekrar etti.

Yukarıdaki cümleleri oluş sırasına koyduğumuzda "en sonunda" ifadesi hangi cümlenin başına getirilmelidir?

- A) ⊙
- B) ◆
- C) △
- D) ▣

2) Kar yağışı nedeniyle Erzurum () Ağrı karayolu kapanmış () Baban Ağrı() ya yarın mı gidecek ()

Yukarıda ayrıçla gösterilen yerlere aşağıdaki noktalama işaretlerinden hangisi **getirilemez**?

- A) (.) Nokta
- B) (?) Soru işareti
- C) (-) Kısa çizgi
- D) (/) Eğik çizgi

3) Yaşadığımız çevrenin temizliği herkes açısından çok önemlidir. Özellikle bilinçsizce atılan atıklar doğanın dengesini bozmakta hatta bütün canlıların hayatlarını tehlikeye atmaktadır. Toplum olarak çevre temizliği konusunda herkes üzerine düşen görevi yapmalıdır.

Yukarıdaki paragrafın ana fikri aşağıdakilerden hangisidir?

- A) Geri dönüşüme önem vermeliyiz.
- B) Çevremizi temiz tutmak herkesin görevidir.
- C) Canlıları koruyalım.
- D) Çevre temizliğinde sorumluluk kirletenlere aittir.

4)

Bayram günü halk tören alanında toplanmıştı. Şiirlerden sonra gösteriler başlayacaktı. Bizim sınıfın gösterisi üçüncü sıradaydı.

Yukarıdaki paragrafta geçen topluluk isimleri aşağıdakilerden hangisinde doğru olarak verilmiştir?

- A) halk - gösteriler
- B) halk - sınıf
- C) gösteriler - şiirler
- D) şiirler - sınıf

5) Aşağıdaki cümlelerin hangisinde yazım yanlışlığı **yoktur**?

- A) Dedemin 28 Nisan'da hastanede randevusu var.
- B) Elektronik teknolojisinde Japon'lar çok gelişmiş.
- C) Köye Kızılayın yardımları dün ulaşmış .
- D) Annemin doktoru Ayşe hanım izne ayrılmış.

6)

Bu ay çok para harcandı giderler fazlaydı.

Yukarıdaki cümlede sebep – sonuç ilişkisi olması için noktalı yere hangisi yazılmalıdır?

- A) için
- B) fakat
- C) ancak
- D) çünkü

- 7) ■ şekeri
◆ sanatçı
▲ bardaklar
● huysuz

Yukarıdaki kelimelerden hangileri aldığı ek-
le anlamı değişmiş ve yeni bir kelime orta-
ya çıkmıştır?

- A) ● ▲ B) ▲ ■
C) ◆ ● D) ◆ ▲

- 8) eşortman – eşki – şoför – aferin – tiren
pantolon – miğde – film – poça

Yukarıdaki kelimelerden kaç tanesi **yanlış**
yazılmıştır?

- A) 3 B) 6 C) 4 D) 5

- 9) Aşağıdaki cümlelerde yer alan ikilemelerde
kullanılan kelimeler hangi seçenekte anlam
ilişkisi bakımından diğerlerinden **farklıdır**?

- A) Proje ödevini er geç yapacaksın.
B) Kılık kıyafeti düzgün bir adam içeri girdi.
C) Çocuk akıllı uslu bir şekilde parkta oynadı.
D) Bir daha gizli saklı şeyler yapmayacağım.

- 10) Balkondaki kadın yüksek sesle bağırarak
yardım istedi.

Yukarıdaki cümledeki anlam bozukluğu aşağı-
dakilerden hangisiyle giderilebilir?

- A) "kadın" kelimesi çıkarılarak
B) "balkondaki" kelimesi çıkarılarak
C) "yüksek sesle" kelimeleri çıkarılarak
D) "yardım" kelimesi çıkarılarak



- 11) Deniz 5 Temmuz Salı günü köye gitmiş.
19 gün sonra köyden dönmüş.

Yukarıdaki ifadeye göre Deniz hangi gün köyden dönmüştür ?

- A) cuma B) pazartesi
C) cumartesi D) pazar

- 12) A) $\frac{8}{15}$ B) $\frac{5}{15}$ C) $\frac{7}{15}$
D) $\frac{6}{11}$ E) $\frac{9}{11}$ F) $\frac{4}{11}$

Yukarıdaki ifadelere göre aşağıdaki toplama işlemlerinden hangisinin sonucu bileşik kesir **değildir**?

- A) D + F B) A + C
C) E + F D) D + E

- 13) 4 ay 16 gün = gün
5 yıl 8 ay = ay
16 hafta 5 gün = gün


Yukarıdaki eşitliklerin doğru olabilmesi için noktalı yerlere sırayla hangi sayılar yazılmalıdır?

- A) $\frac{\blacksquare}{136}$ $\frac{\blacklozenge}{68}$ $\frac{\blacktriangle}{117}$
B) $\frac{\blacksquare}{136}$ $\frac{\blacklozenge}{60}$ $\frac{\blacktriangle}{112}$
C) $\frac{\blacksquare}{136}$ $\frac{\blacklozenge}{68}$ $\frac{\blacktriangle}{112}$
D) $\frac{\blacksquare}{120}$ $\frac{\blacklozenge}{68}$ $\frac{\blacktriangle}{117}$

- 14) I - 3 km 90 m = 3090 m
II - 395 mm = 39 cm 5 mm
III- 5 m 8 cm = 580 cm
IV- 58 cm = 580 mm

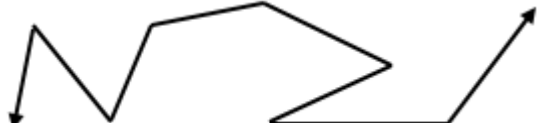
Yukarıdaki eşitliklerden hangisi **yanlıştır**?

- A) I B) IV C) III D) II

- 15) 
I II

Yukarıdaki kare ve dikdörtgenin simetri doğrusu sayısı hangi seçenekte doğru olarak verilmiştir?

- | | I | II |
|----|---|----|
| A) | 4 | 4 |
| B) | 4 | 2 |
| C) | 2 | 2 |
| D) | 4 | 3 |

- 16) 

Yukarıdaki şekilde kaç tane dar , kaç tane geniş açı vardır?

- A) 3 dar , 4 geniş B) 4 dar , 3 geniş
C) 4 dar , 4 geniş D) 3 dar , 3 geniş

17)



Yukarıdaki dikdörtgene göre aşağıdaki bilgilerden hangisi yanlıştır ?

- A) KN ve LM kenarlarının uzunlukları birbirine eşittir.
- B) KL ve NM kenarlarının uzunlukları birbirine eşittir.
- C) NL kenarı uzun kenardır.
- D) KN kenarı NM kenarından kısadır.

18)

Bir mandırada üretilen 564 kg peynir bir tanesi 12 kg peynir alan teneke kaplara konuyor. Teneke kapların tanesi 65 liradan satılıyor.

Yukarıdaki ifadeye göre peynir satışından kaç lira elde edilir?

- A) 2955
- B) 3045
- C) 2945
- D) 3055

19)

$$\blacksquare + 13 = 10 + 18$$

$$4 \times 8 = \blacktriangle - 16$$

Yukarıdaki eşitliklere göre $\blacksquare + \blacktriangle$ işleminin sonucu kaçtır?

- A) 53
- B) 47
- C) 48
- D) 63

20)

Bir kutudaki kırmızı ve mavi boncukların toplamı 234'tür. Mavi boncuklar kırmızı boncukların 5 katıdır.

Yukarıdaki ifadeye göre mavi boncuklar kırmızı boncuklardan kaç tane fazladır?

- A) 146
- B) 156
- C) 152
- D) 162



21) Çocuk Hakları Sözleşmesi ile ilgili aşağıdaki bilgilerden hangisi **yanlıştır**?

- A) Çocukların eğitim hakkını savunur.
- B) Çocuğun ailesiyle birlikte yaşama hakkını savunur.
- C) Çocukların sağlıklı bir ortamda çalışma hakkını savunur.
- D) Çocukların oyun oynama hakkını savunur.

22) Kaynaklarımız sınırlı olduğundan dolayı kaynaklarımızı bilinçli kullanmalıyız.

Yukarıdaki ifade aşağıdakilerden hangisini önlemek amacıyla söylenmiştir?

- A) Tasarruf
- B) İsraf
- C) Çevre kirliliği
- D) Üretim

23) ● Temel ihtiyaçlara öncelik verilmelidir.
 ◆ Giderler , gelirlerden fazla olmalıdır.
 □ Bir miktar para tasarruf yapılmalıdır.
 △ İstekler ihtiyaçlardan sonra karşılanılır.





Yukarıdakilerden hangisi aile bütçesi hazırlanırken dikkat edilmesi gerekenlerden **değildir**?

- A) □
- B) ●
- C) △
- D) ◆

24) Devletin vergi geliri için bilinçli bir tüketici aşağıdakilerden hangisini yapmalıdır?

- A) İhtiyaçlarına öncelik vermelidir.
- B) Aldığı ürünün son tüketim tarihine bakmalıdır.
- C) Garanti belgesi olan dayanıklı tüketim mallarını seçmelidir.
- D) Alışveriş sonrası fiş veya fatura almalıdır.

25) Aşağıdaki işaretlerden hangisinin amacı "kalite ve güvenlik" ile ilgili **değildir**?

- A) 
- B) 
- C) 
- D) 

26) Polis → Hizmet
 Çoban → Tarım
 Çiftçi → Hayvancılık
 Madenci → Madencilik

Yukarıda mesleklerle ekonomik faaliyet kolu eşleştirmiştir. Hangi meslekler yer değiştirirse eşleştirme doğru olur?

- A) Çoban - Çiftçi
- B) Çoban - Polis
- C) Çiftçi - Madenci
- D) Çoban - Madenci

- 27) ■ Kasırga
◆ Deprem
▲ Sel
● Tsunami

Yukarıdaki doğal afetlerden hangileri yurdumuzda diğerlerinden daha fazla görülür?

- A) ■ ◆
B) ▲ ◆
C) ● ■
D) ▲ ●

28) Aşağıdakilerden hangisi Milli Mücadele sırasında savaştığımız ülkelerden biri **değildir**?

- A) Fransa
B) Almanya
C) Yunanistan
D) Ermenistan

- 29) Hasan ile İtalyan misafiri birlikte milli kültürümüze ait bir spor müsabakasını izlemişler. Bu spor dalı misafirlerinin çok ilgisini çekmiş.

Yukarıdaki ifadeye göre bahsedilen spor dalı aşağıdakilerden hangisidir?

- A) Boks
B) Karate
C) Cirit
D) Futbol

30) Suna , yaz tatilinde aşağıda belirtilen yerleri gezmiş.

- I – Saklı Kilise
II – İhlara Vadisi
III- Aksaray Ulu Camii
IV- Peri bacaları

Suna'nın gezdiği doğal unsurlar aşağıdakilerin hangisinde doğru verilmiştir?

- A) I - IV
B) I - III
C) I - II
D) II - IV



- 31) Ercan düzenli olarak her gün koşu yapmaktadır.

Ercan koşarken harcadığı enerjiyi **öncelik-le** aşağıdaki besinlerden hangisinden elde edebilir?

- A) et B) yumurta
C) zeytin D) bal

- 32) ■ Dünya kendi eksenini etrafında döner.
◆ Dünya, Ay etrafında dolanır.
▲ Dünya, Güneş etrafında dolanır.
● Güneş, Dünya etrafında dolanır.

Dünya'nın hareketleri düşünüldüğünde yukarıdakilerden hangileri **doğrudur**?

- A) ■ ▲ B) ■ ● ◆
C) ◆ ▲ ● D) ■ ◆

- 33) I – Bir sıvının kap ile birlikte kütlesine brüt kütle denir.

II – Boş kabın kütlesine tara denir.

III – Sıvının kütlesine hacim denir.

Yukarıdaki ifadelerle ilgili aşağıdakilerden hangisi doğrudur?

- A) I ve II doğru, III yanlış
B) Üçü de doğru
C) I doğru, II ve III yanlış
D) III doğru, I ve II yanlış

- 34) Sigara uykusuzluğa iyi gelir.
 Alkol sinir sistemimizi olumsuz etkiler.
 Sigara nefes darlığına sebep olur.
Yukarıdaki ifadelerden doğru olanlara "D", yanlış olanlara "Y" yazarsak hangi sonuç ortaya çıkar?

- A)

Y
Y
D

 B)

D
Y
Y

 C)

Y
D
D

 D)

D
D
Y

- 35) Aşağıdakilerden hangisi ses şiddetini artırmak için kullanılan araçlardan **değildir**?

- A)  B) 
C)  D) 

- 36) Aşağıdaki yerlerden hangisinde ışık kirliliğinden **daha az** söz edilebilir?

- A) Mağaza vitrinleri
B) Küçük bir köy
C) Konser alanları
D) Şehirdeki ana caddeler

- 37) I – Donma
II – Erime
III - Buharlařma

Yukarıdaki hal deęişimlerinden hangisi veya hangileri maddenin ısı almasıyla gerekleşir ?

- A) I ve II B) Sadece III
C) Hepsi D) II ve III

38) Karışımları ayırma yöntemleriyle ilgili aşağıdakilerden hangisi doğrudur ?

- A) Tüm karışımlar eleme yöntemiyle ayrılabilir.
B) Miknatısla yapılan ayırma yöntemine süzme denir.
C) Süzme yönteminde karışımlardan biri sıvı, dięeri katı olmalıdır.
D) Eleme yönteminde karışımdaki maddelerin boyutları aynı olmalıdır.

39) □ Belirli bir şekilleri vardır.

△ Sıkıştırılmazlar.

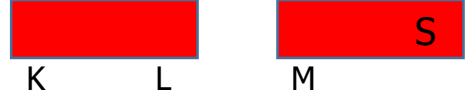
◇ Akışkandırlar.

○ Buldukları kabın şeklini alırlar.

Yukarıdakilerden hangisi katı ve sıvı maddelerin ortak özelliđidir?

- A) ◇ B) ○
C) △ D) □

40)



Yukarıdaki iki miknatıs birbirlerine yaklařtırılınca birbirlerini itmekteler.

Buna göre K , L ve M ile gösterilen kutuplar aşağıdakilerden hangisidir ?

	K	L	M
A)	S	N	N
B)	N	S	N
C)	N	N	S
D)	S	N	S



CEVAP ANAHTARI

TÜRKÇE	MATEMATİK	SOSYAL BİL.	FEN BİLİM.
1) C	11) D	21) C	31) D
2) D	12) A	22) B	32) A
3) B	13) A	23) D	33) A
4) B	14) C	24) D	34) C
5) A	15) B	25) A	35) B
6) D	16) B	26) A	36) B
7) C	17) C	27) B	37) D
8) D	18) D	28) B	38) C
9) A	19) D	29) C	39) C
10) C	20) B	30) D	40) A

