

Türkçe : 15 sorudan oluşmaktadır.

.....

Sıcak bir yaz gününde yemek aramaya çıkan bir karga, tarlalarda, bahçelerde ne bulduysa yemeye başladı. Bir zaman sonra susadığını hissetti ve hemen su aramaya başladı. Oradan oraya uçtu ama bir damla su bulamadı. Susuzluktan bitkin ve yorgun düşmüştü. Pes etmedi ve sonunda bir çiftliğin bahçesinde içinde su olan bir sürahi gördü.

Karga suyu içmek istedi ancak ağzı dar olduğu için suya ulaşamadı. Sürahiyi devirip kırmaya çalıştı ama gücü yetmedi. Bir süre düşündü ve aklına bir fikir geldi. Gagasıyla topladığı taşları getirip sürahinin içine attı ve böylece su seviyesi yükseldi. Bu sayede sürahidен taşan suyu içerek hayatta kaldı.

Aşağıdaki dört soruyu, yukarıdaki hikayeye göre cevaplayınız.

1. Aşağıdakilerden hangisi bu hikayeye uygun bir başlık olamaz?

A) Akıllı Karga

B) Tembel Karga

C) Susayan Karga

2. Aşağıdaki nesnelere hangisi hikayede geçmemektedir?

A) taş

B) sürahi

C) masa

3. Karga suya ulaşmak için ilk önce ne yapmış?

A) Taşları sürahinin içine atmış

B) Sürahiyi kırmaya çalışmış.

C) Pipet kullanmış.

4. Yukarıdaki hikayeye göre hayatta başarılı olmak için ne yapmalıyız?

A) Pes etmemeliyiz.

B) Spor yapmalıyız.

C) Çok çalışmalıyız.



Türkçe : 15 sorudan oluşmaktadır.

5. Hangi sözcükte alfabemizin ilk ve son harfi birlikte kullanılmıştır?

A) Erzurum

B) Ayı

C) Kazak

6. Hangi cümlede tek heceli bir sözcük kullanılmıştır?

A) Bahar geldi, kuşlar ötmeye başladı.

B) Açık pencereden odama arı girmiş.

C) Gül toplamayı çok severim.

7. Aşağıdaki sözcüklerden hangisi hecelerine yanlış ayrılmıştır?

A) s-por-cu

B) a-i-le

C) il-ko-kul

8.

açık

kapalı

Yukarıdaki sözcüklerde bulunan anlam ilişkisi, aşağıdaki sözcüklerin hangisinde vardır?

A) güzel ↔ çirkin

B) basit ↔ kolay

C) hızlı ↔ süratli

9.

hatıra

Yukarıdaki sözcüğün eş anlamlısı hangi seçenekteki cümlede verilmiştir?

A) Saat sekizde okul başlıyor.

B) Arkadaşım bana hikaye kitabı hediye etti.

C) Çocukluk anılarımı hatırladıkça hüzünleniyorum.

10.



gideceğiz



köye



günü



pazar

Verilen sözcüklerle anlamlı bir cümle oluşturulduğunda sıralama nasıl olur?

A)

B)

C)

Türkçe : 15 sorudan oluşmaktadır.

11. Atatürk Kayısı Sarman Asker

(Hayvan İsmi)

Yukarıdaki sözcüklerden kaç tanesi bir cümle içerisinde büyük harfle yazılır?

- A) 1 B) 2 C) 3

12. Aşağıdaki cümlelerin hangisinin yazımında yanlışlık yapılmıştır?

- A) Babam pazar günü Edirneye gitti. B) Elif ile Mehmet parka gitmişler.  
C) Ali'nin kedisi Minnoş kaybolmuş.

13. Aşağıdaki hangi cümlenin sonuna farklı bir noktalama işareti konulmalıdır?

- A) Ellerin mi üşüdü B) Emine nereye gitti  
C) Ne olur yardım et

14.  Ailece yemek için masaya oturduk.  
 Yemekten önce ellerimi yıkadım.  
 Yemekten sonra ellerimi yıkadım.  
 Annemin yaptığı güzel yemekleri yedik.

Yukarıdaki cümleleri oluş sırasına göre numaralandırırsak hangi seçenek doğru olur?

- A) 2 B) 1 C) 4  
1 2 1  
4 4 3  
3 3 2

15. Çocuklar saklambaç oynamaya karar verdiler.

Aşağıdaki hangi sorunun cevabı yukarıdaki cümlede yoktur?

- A) Çocuklar ne oynamaya karar verdiler? B) Çocuklar nerede oynayacaklar?  
C) Kimler saklambaç oynayacaklar?

## Hayat Bilgisi : 15 sorudan oluşmaktadır.

16. Aşağıdakilerden hangisi sınıfımızın şeref köşesinde bulunur?

- A) Atatürk'ün Gençliğe Hitabesi      B) Atatürk köşesi  
C) Türkiye haritası

17. Sinan'ın yaptığı hangi davranışlarda eksiklik vardır?



- A) Sifonu çektikten sonra tuvaletten çıktı. Oyalanmadan sınıfına gitti.  
B) Ellerini yıkadıktan sonra tuvalete girdi ve kapısını kapattı. Tuvaletini yaptı.  
C) Sinan parmak kaldırarak öğretmeninden izin istedi ve tuvalete gitti.

18. Aşağıdakilerden hangisi aileyi bir arada tutan değerlerden biri değildir?

- A) Bağlılık      B) Kıskançlık      C) Vefa

19. ★ Dişimizi fırçalarken musluğu kapatırız.


■ Gereksiz yere lambaları yakmayız.

● Çok temiz olmak için bol bol sabun, şampuan kullanırız.

Yukarıdaki davranışlardan hangileri doğrudur?

- A) ■ ●      B) ★ ■ ●      C) ★ ■

20. Aşağıdaki çocuklardan hangisi temel ihtiyacını karşılamıyor?



## Hayat Bilgisi : 15 sorudan oluşmaktadır.

21.



Sağlıklı bir hayat için hangileri yapılmalıdır?

A) 1 ve 2

B) Hepsi

C) Yalnız 2


22.

Aşağıdakilerden hangisi bitkisel bir besindir?



23.

Aşağıdaki ifadelerden hangisi yanlıştır?



Uyku saatim geldiği halde ödevimi yapmadan yatmıyorum.

B)



Çok gerekli olmadıkça cep telefonu ile konuşmuyorum.

C)



Bilgisayarın başında uzun süre kalmıyorum.

24.



Aşağıdakilerden hangisi merdivenlerden inip çıkarken uyulması gereken kurallardan biridir?

A) Merdivenlerden inerken sağ tarafı kullanmalıyız.

B) Acele ederek inmeli ve çıkmalıyız..

C) Merdivenlerden çıkarken sol tarafı kullanmalıyız.

25.

Aşağıdaki araçların hangisinde tehlikeli bir yolculuk yapılmaktadır?



Hayat Bilgisi : 15 sorudan oluşmaktadır.

26.



1



2



3

Yan taraftaki görsellerin hangilerinde güvenlik kurallarına dikkat edilmemek-tedir?

A) 1 ve 2

B) Hepsi

C) 2 ve 3

27.

Hangi seçenekteki yerleşim yerleri küçükten büyüğe doğru sıralanmıştır?

A) kasaba / köy / şehir

B) köy / şehir / kasaba

C) köy / kasaba / şehir

28.

Mustafa Kemal Atatürk ..... doğdu. .... öldü.

Yukarıdaki cümlelerde boşlukları sırayla hangi sözcüklerle tamamlamalıyız?


A) Selanik'te / Dolmabahçe Sarayı'nda

B) Selanik'te / Anıtkabir'de

C) Dolmabahçe Sarayı'nda / Selanik'te

29.

Aşağıdaki hayvanlardan hangisi türü bakımından diğerlerinden farklıdır?



30.

■ Dünya'ya en yakın gök cisimidir.

▲ Dünya'dan büyük, güneşten küçüktür.

● Şekli küreye benzer.

Yukarıda ay ile ilgili verilen bilgilerden hangileri doğrudur?

A) ■ ●

B) ■ ▲ ●

C) ■

Matematik : 12 sorudan oluşmaktadır.

31. 18 □ □ □ 10

Yukarıdaki geriye doğru ikişer ritmik saymada boş bırakılan kutulara hangi sayı yazılamaz?

A) 15

B) 12

C) 16

32. 18 36 29 50 11 60

Yukarıdaki sayıları büyükten küçüğe sıraladığımızda 3.sıradaki sayı hangisi olur?

A) 18

B) 29

C) 36

33. Zümra cevizlerinin 8 tanesini kardeşine, 10 tanesini babasına verince kendisine 9 tane ceviz kaldı. Zümra'nın kaç cevizini vardı?

A) 9

B) 27

C) 18

34. 8 birlik 2 onluktan oluşan sayının 7 eksiği kaçtır?

A) 75

B) 21

C) 35

35. 35 ayvanın 5 tanesiyle reçel yapıldı. 7 tanesini de ben yedim. Geriye kaç ayva kaldı?

A) 23

B) 37

C) 24

36.  50kr

 5TL

Fatma kırtasiyeden yukarıda fiyatları verilen 2 silgi ve 1 boya kalemi paketinden alıyor. Satıcıya 10TL veriyor. Geriye kaç lira para üstü alır?

A) 4TL

B) 4TL 50kr

C) 3TL

## Matematik : 12 sorudan oluşmaktadır.

37. Mehmet 14 yaşındadır. Melih Mehmet'ten 5 yaş büyüktür. Fatih, Melih'ten 3 yaş küçük olduğuna göre Fatih kaç yaşındadır?

A) 16

B) 22

C) 6

38.



Yukarıdaki portakalların tamamı kaç bütün eder?

A) 9

B) 6

C) 7

39.



Yandaki saate göre 3 saat sonra saat kaç olur?

A) 07:30

B) 07:00

C) 08:30

40.



Benim adım .....

4 kenarım var,

4 köşem var,

Karşılıklı kenarlarım eşit uzunluktadır.

Yukarıda bilgileri verilen geometrik şekil hangisidir?

A)



B)



C)



41.



Yukarıdaki geometrik şekillerin bir örüntü oluşturması için ne yapılmalıdır?

A) 2 tane kırmızı çember eklenmelidir.

B) 1 tane kırmızı çember eklenmelidir.

C) 1 tane yeşil dikdörtgen eklenmelidir.

42.

Tablo: En Sevilen Meyveler

Meyve Adı	Sayısı
Kiraz	14
Çilek	8
Muz	9
Elma	12

Yan taraftaki en sevilen meyveler tablosunda en çok sevilen meyve ile en az sevilen meyve arasındaki fark kaçtır?

A) 5

B) 4

C) 6

