

.... - EĞİTİM-ÖĞRETİM YILI

İLKOKULU

MATEMATİK DERSİ 2. SINIF 1.DÖNEM 1. DEĞERLENDİRME SORULARI

Adı ve Soyadı :

Sınıfı,Numarası :

Puan:

1) Aşağıda çözümlenmiş olarak verilen sayıların kaç olduğunu yazınız. (8 PUAN)

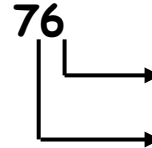
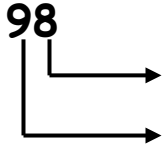
$$3 \text{ onluk} + 6 \text{ birlik} = \dots\dots\dots$$

$$7 \text{ onluk} + 2 \text{ birlik} = \dots\dots\dots$$

$$4 \text{ onluk} + 9 \text{ birlik} = \dots\dots\dots$$

$$6 \text{ onluk} + 0 \text{ birlik} = \dots\dots\dots$$

2) Aşağıdaki sayıların basamaklarını yazınız? (8 PUAN)



3) Aşağıdaki sayıları zihinden toplayınız. (6 PUAN)

$$50 + 20 =$$

$$30 + 40 =$$

$$60 + 20 =$$

4) Aşağıdaki sayıları çözümleyiniz. (6 PUAN)

$$15 =$$

$$51 =$$

$$94 =$$

5) Aşağıdaki sayıların okunuşunu yazınız. (6 PUAN)

34=

83=

75=

6) 5'ten başlayıp 40'ye kadar 5'er ileri ritmik saymayı aşağıdaki tabloya yazınız.(6 PUAN)

5							
---	--	--	--	--	--	--	--

7)

Aşağıdaki bölüme bir düzine çiçek çiziniz.

Bir deste çiçek çiziniz.

(6 PUAN)

--	--

8) 14 kalemin iki düzine olması için kaç kalem gerekir? (6 PUAN)

9) Aşağıdaki tabloyu doldurunuz. (6 PUAN)

SAYIMIZ= 87	8	7
Basamak Adı		
Basamak Değeri		
Sayının Okunuşu		

10) Aşağıdaki sayıları en yakın onluğa yuvarlayınız. (6 PUAN)

56 →

81 →

39 →

48 →

11) Aşağıdaki sayıları “büyüktür, küçüktür, eşittir” ifadelerini yazarak karşılaştırınız. (6 PUAN)

8378

4949

3543

12) Aşağıdaki toplama işlemlerini tahmin ederek gerçek sonuçları ile karşılaştırınız. (6 PUAN)

$$\begin{array}{r} 68 \\ + 45 \\ \hline \end{array} \begin{array}{l} \longrightarrow \\ \longrightarrow \\ \longrightarrow \end{array}$$

$$\begin{array}{r} 57 \\ + 34 \\ \hline \end{array} \begin{array}{l} \longrightarrow \\ \longrightarrow \\ \longrightarrow \end{array}$$

13) **3 deste** çiçeğe 6 çiçek daha koyarsak kaç çiçek olur? (4 PUAN)

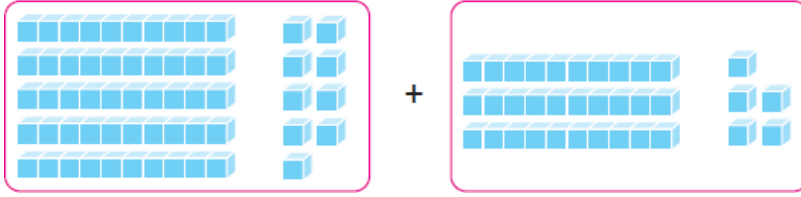
14) Aşağıdaki örüntünün kuralına uygun olarak siz de bir örüntü oluşturunuz. (6 PUAN)



15) Arzu'ya dedesi 40 TL verdi. Arzu marketten 25 TL'ye oyuncak aldı. Geriye kaç TL parası kalmıştır? (4 PUAN)

16) Simitçi sabah 37, öğle 26, akşam ise 29 simit satmıştır. Bu simitçi toplam kaç simit satmıştır? (4 PUAN)

17) Aşağıda modellenen toplama işleminin sonucu kaçtır? (5 PUAN)



A) 84

B) 94

C) 90

18) Ayşe, 57 sayfa kitabın 38 sayfasını okudu. Geriye kaç sayfa kaldı? (5 PUAN)

A) 18

B) 19

C) 95

BAŞARILAR...